

**TNPSC****VAO - General Knowledge -2012**

1. Among the following statements which of them is/are found to be wrong?

1. Iron is highly malleable and ductile.
  2. Gold is highly malleable and ductile.
  3. Lithium is the lightest metal.
- (A) 2 and 3 (B) 1 only  
(C) 2 only (D) 1, 2 and 3

(d) தமிழ்நாடு

குறியீடுகள்:

(a)	(b)	(c)	(d)
(A) 2	4	1	3
(B) 4	3	2	1
(C) 4	3	1	2
(D) 3	2	4	1

4. கோல்கொண்டா கோட்டை

3. Match the List I with List II correctly and select your answer using the codes given below

List I

List II

(a) Roentgen	1. Swimming rule
(b) Henry Bequerel	2. Nuclear fission
(c) Ottohaun	3. X-rays
(d) Ampere	4. Radiation

(a)	(b)	(c)	(d)
(A) 1	2	3	4
(B) 4	3	1	2
(C) 3	4	2	1
(D) 2	3	4	1

பட்டியல் I-ஐ பட்டியல் II-உடன் பொருந்தி கீழே கொடுக்கப்பட்டுள்ள குறியீடுகளைக் கொண்டு சரியான விடையைத் தேர்ந்தெடு :

பட்டியல் I

பட்டியல் II

(A) ராண்ட்ஜன்	1. நீச்சல் விதி
(B) ஹென்றி பெக் கொரல்	2. அணுக்கரு பிளவு
(C) ஆட்டோஹான்	3. X-கதிர்கள்
(D) ஆம்பியர்	4. கதிரியக்கம்

(a)	(b)	(c)	(d)
(A) 1	2	3	4
(B) 4	3	1	2
(C) 3	4	2	1
(D) 2	3	4	1

4. Which one of the following is correctly matched?

- (A) Troposphere (i) ions are found  
(B) Stratosphere (ii) conducive for airplanes to fly

**TNPSC****VAO - General Knowledge -2012**

- (C) Mesosphere (iii) weather patterns  
(D) Thermosphere (iv) protects the earth from falling metcours

கீழ் கொடுக்கப்பட்டவைகளில் எது சரியாக பொருந்தியுள்ளது?

- (A) ட்ரோப்போஸ்பியர் (i) அயனிகள் உள்ளன  
(B) ஸ்ட்ரடோஸ்பியர் (ii) விமானங்கள் வேகமாக பறப்பதற்கு ஏற்ற சாதகமான சூழ்நிலை

- (C) மிஸோஸ்பியர் (iii) வானிலைநிகழ்வுகள்  
(D) தெர்மோஸ்பியர் (iv) புவியை விண்கற்களிலிருந்து பாதுகாப்பது

5. Assertion (A) : Lightning flash is seen first and thunder sound is heard next.

Reason (R) : Light travels million times faster than sound.

(A) Both (A) and (R) are true (R) is the correct explanation of (A)

(B) Both (A) and (R) are true (R) is not the correct explanation of (A)

(C) (A) is true but (R) is false

(D) (A) is false but (R) is true

துணிபு (A) : மின்னல் கண்ணுக்கு தெரிந்த பின்னரே இடியின் சத்தம் கேட்கிறது.

காரணம் (R) : ஒளியானது ஒலியை விட மில்லியன் மடங்கு அதிவேகமாகப் பயணம் செய்கிறது

(A) (A) மற்றும் (R) சரி மற்றும் (R) என்பது (A)-விற்கு சரியான விளக்கம்

(B) (A) மற்றும் (R) சரி மற்றும் (R) என்பது (A)-விற்கு சரியான விளக்கம் அல்ல

(C) (A) சரி ஆனால் (R) தவறு

(D) (A) தவறு ஆனால் (R) சரி

6. Select the appropriate pairs of words:

- (a) Cutting - Hibiscus  
(b) Layering - Jasmine  
(c) Yeast - Fragmentation  
(d) Conidia - Mucor

(A) (a), (b), (c) - correct

(B) (b), (c), (d), (e) - correct

(C) (c), (d), (e) - correct

(D) (a), (b), (c), (d) - correct

பின்வருவனவற்றுள் எது சரியான ஜோடி?

(A) வெட்டப்பட்ட தண்டுப் பகுதி - ஹைமஸ்கள்

(B) பதியம் போடுதல் - மல்லிகை

(C) ஓட்டுப் போடுதல் - மா

(D) ஈஸ்ட் துண்டாதல்

(E) கொனீடியா மியூக்கர்

(A) (a), (b), (c) - சரி (B) (b), (c), (d), (e) - சரி

(C) (c), (d), (e) - சரி (D) (a), (b), (c), (d) - சரி

7. The electrical appliances of our home are all connected in a \_\_\_\_\_ circuit.

(A) parallel (B) series

(C) either parallel or series (D) parallel and series alternatively

வீட்டில் உபயோகிக்கும் மின்சாதனங்கள் அனைத்தும் எவ்வகையான மின் இணைப்பை பெற வேண்டும்?

(A) இணையாக

(B) தொடர்பாக

(C) இணையாகவோ அல்லது தொடரிணைப்பாகவோ

(D) ஒன்று இணையாகவும் மற்றொன்று தொடரிணைப்பாகவும்

8. Every Bank has to keep certain minimum cash balance with R.B.I. is called

(A) Variable Reserve Ratio

(B) Cash Reserve Ratio

(C) Cash Discount Ratio

(D) Trade Discount Ratio

இந்திய ரிசர்வ் வங்கியிடம் ஒவ்வொரு வங்கியும் ஒரு குறிப்பிட்ட தொகையை ரொக்க இருப்பாக வைப்பது \_\_\_\_\_ என்று பெயர்.

(A) மாறுபடும் காப்பு விகிதம்

(B) ரொக்க காப்பு விகிதம்

(C) ரொக்கத் தள்ளுபடி விகிதம்

(D) வியாபாரத் தள்ளுபடி விகிதம்

**TNPSC****VAO - General Knowledge -2012**

9. The Duty levied while transporting goods from state to state  
(A) Export duty (B) Octroi duty  
(C) Customs duty (D) Import duty
- பொருட்கள் மாநிலத்திலிருந்து மாநிலம் கொண்டு செல்லும் போது வசூலிக்கப்படும் வரி  
(A) ஏற்றுமதி வரி (B) நகர்நுழை வரி  
(C) சுங்க வரி (D) இறக்குமதி வரி
10. In Tamilnadu the centre for Stem Cell Research is located at  
(A) Chennai (B) Coimbatore  
(C) Vellore (D) Madurai
- தமிழ்நாட்டில் ஸ்டெம் செல் ஆராய்ச்சி நிறுவனம் அமைந்துள்ள இடம் எது?  
(A) சென்னை (B) கோயம்புத்தூர்  
(C) வேலூர் (D) மதுரை
11. Consider the following statements:  
Assertion : The term "Lemuria" was first used by salter  
Reason : A submerged continent (Lemuria) where Tamils survived in pre-historic age  
Now select your answer according to the codes below :  
(A) Both (A) and (R) are true and (R) is the correct explanation of (A)  
(B) Both (A) and (R) are true but (R) is not the correct explanation of (A)  
(C) (A) is true but (R) is false  
(D) (A) is false but (R) is true
- கீழ்க்கண்ட வாக்கியங்களைக் கவனிக்கவும் :  
கூற்று : லெமுரியா என்ற வார்த்தையை முதலில் உபயோகித்தவர் ஸ்லேட்டர்  
காரணம் : வரலாற்றுக்கு முந்தைய கால தமிழர்கள் ஒன்றிணைக்கப்பட்ட கண்டத்தில் (லெமுரியா) வாழ்ந்தனர்  
சரியான விடையைத் தேர்ந்தெடுக்கவும்.  
(A) கூற்று மற்றும் காரணம் சரி. கூற்றுக்கான காரணமும் சரி  
(B) கூற்று மற்றும் காரணம் சரி. கூற்றுக்கான காரணமும் தவறு
- (C) கூற்று சரி - காரணம் தவறு  
(D) கூற்று தவறு - காரணம் சரி
12. Which one of the following is correctly matched?  
Officers of Village Administration in Epic Age called  
(a) Dasagrami 1. 100 Villages  
(b) Vimsatipa 2. 10 Villages  
(c) Satagrami 3. 20 Villages  
(d) Adhipati 4. 1000 Villages
- |     | (a) | (b) | (c) | (d) |
|-----|-----|-----|-----|-----|
| (A) | 3   | 4   | 1   | 2   |
| (B) | 2   | 3   | 1   | 4   |
| (C) | 1   | 3   | 2   | 4   |
| (D) | 4   | 1   | 2   | 3   |
- கீழ் கொடுக்கப்பட்டுள்ளவற்றுள் எது சரியாக பொருந்துகிறது?  
காவிய காலத்தில் கிராம நிர்வாக அதிகாரிகள் கீழ்க்கண்டவாறு அழைக்கப்பட்டார்கள்  
(a) தசகிராமி 1. 100 கிராமங்கள்  
(b) விம்சதிபா 2. 10 கிராமங்கள்  
(c) சதகிராமி 3. 20 கிராமங்கள்  
(d) அதிபதி 4. 1000 கிராமங்கள்
- (a) (b) (c) (d)  
(A) 3 4 1 2  
(B) 2 3 1 4  
(C) 1 3 2 4  
(D) 4 1 2 3
13. "Inam Ennum Eemap Punaiyaich Suduvathu - Ethu?"  
(A) Sinam (B) Dhanam  
(C) Pakai (D) Nakai
- "இனம் என்னும் ஏமாப்புணையைச் சூடுவது" - எது?  
(A) சினம் (B) தனம்  
(C) பகை (D) நகை

**TNPSC****VAO - General Knowledge -2012**

14. Who is the first grammarian in Sanskrit language?  
(A) Vaalmeeki (B) Viyaasar  
(C) Thandi (D) Paanini
- வடமொழி இலக்கண ஆசிரியர்களுள் முதன்மையானவர் யார்?  
(A) வால்மீகி (B) வியாசர்  
(C) தண்டி (D) பாணினி
15. Classify the 'Ettuthokai, Noolkal' in number as Akam, Puram and Akapuram  
(A) 3 : 3 : 2 (B) 5 : 2 : 1  
(C) 6 : 1 : 1 (D) 4 : 4 : 0
- எட்டுத் தொகை நூல்களின் எண்ணிக்கையை அகம், புறம், அகப்புறம் என வரிசைப்படுத்துக.  
(A) 3 : 3 : 2 (B) 5 : 2 : 1  
(C) 6 : 1 : 1 (D) 4 : 4 : 0
16. Choose the correct ones :  
The traditional Thanjavur Doll automatically rights itself even after it is pushed and tilted around  
(1) It has a very low center of gravity  
(2) It has a rounded base  
(3) It has high center of gravity  
(4) It has a flat base  
(A) Both 1 and 2 are correct  
(B) Both 2 and 4 are correct  
(C) Both 3 and 4 are correct  
(D) Both 1 and 2 are false
- தஞ்சாவூர் தலையாட்டி பொம்மையை தள்ளினாலும் சாய்த்தாலும் தன் பழைய நிலையை அடைகிறது  
(1) அதன் புவியீர்ப்பு மையம் தாழ்ந்த நிலையில் உள்ளது  
(2) அடிபாகம் உருண்டையானது  
(3) அதன் புவியீர்ப்பு மையம் உயர்ந்த நிலையில் உள்ளது  
(4) அதன் அடிபாகம் தட்டையானது  
(A) (1) மற்றும் (2) சரி (B) (2) மற்றும் (4) சரி  
(C) (3) மற்றும் (4) சரி (D) (1) மற்றும் (2) தவறு
17. Which one of the following statement is incorrect regarding nuclear fission?  
(A) It is a chain-reaction  
(B) Performed under controlled conditions  
(C) It takes place at a very high temperature  
(D) Neutrons are emitted during the reaction
- கீழே கொடுக்கப்பட்ட வாக்கியங்களில் எது அணுக்கரு பிளப்பு பற்றி தவறான தகவலை தருகிறது?  
(A) இது ஒரு சங்கிலி தொடர்வினை  
(B) இதனை கட்டுப்படுத்தி நிகழ்த்தலாம்  
(C) இது மிக அதிகமான வெப்பநிலையில் நடக்கிறது  
(D) இவ்வினை நடைபெறும்போது நியூட்ரான்கள் வெளிவிடப்படுகிறது
18. Which is the correct statement?  
I. Rainfall varies from place to place and time to time. It is thus the season occur.  
II. Temperature varies from place to place and time to time. It is thus the season occur.  
III. Climate varies from place to place and time to time. It is thus the season occur.  
(A) I only (B) II only  
(C) III only (D) I and II only
- சரியான விடையை தேர்ந்தெடு :  
I. மழை புவியில் ஆண்டு முழுவதும் ஒரே மாதிரியாக இல்லாமல் இடத்திற்கு இடம், காலத்திற்கு காலம் வேறுபடுவதற்கு காரணம் பருவ காலங்கள் தோன்றுவது ஆகும்.  
II. வெப்பநிலை புவியில் ஆண்டு முழுவதும் ஒரே மாதிரியாக இல்லாமல் இடத்திற்கு இடம், காலத்திற்கு காலம் வேறுபடுவதற்கு காரணம் பருவ காலங்கள் தோன்றுவது ஆகும்.  
III. காலநிலை புவியில் ஆண்டு முழுவதும் ஒரே மாதிரியாக இல்லாமல் இடத்திற்கு இடம், காலத்திற்கு காலம் வேறுபடுவதற்கு காரணம் பருவ காலங்கள் தோன்றுவது ஆகும்.  
(A) I மட்டும் (B) II மட்டும்  
(C) III மட்டும் (D) I மற்றும் II மட்டும்

**TNPSC****VAO - General Knowledge -2012**

19. Choose the correct answer :  
Reason for 70% of coral reefs killed in Lakshadweep and Andaman islands.  
(A) Global warming  
(B) Acid rain  
(C) Ozone layer depletion  
(D) Smog  
சரியான விடையைத் தேர்ந்தெடுக்கவும் :  
இலட்சத் தீவு மற்றும் அந்தமான் தீவுகளில் 70% பவளப் பாறைகள் அழிய காரணம்  
(A) உலக வெப்பமயமாதல்  
(B) அமில மழை  
(C) ஓசோன் அடுக்கு சீரழிவு  
(D) நச்சுப் புகை

- பட்டியல் I-ஐ பட்டியல் II-உடன் பொருத்தி, கீழே கொடுக்கப்பட்டுள்ள குறியீடுகளைக் கொண்டு சரியான விடையைத் தேர்ந்தெடு :  
பட்டியல் I  
(a) 07  
(b) 10  
(c) 18  
(d) 63  
(A) 3  
(B) 1  
(C) 4  
(D) 2  
பட்டியல் II  
1. பெரியபுராணம்  
2. கலம்பகம்  
3. உலா  
4. பிள்ளைத்தமிழ்  
(a) (b) (c) (d)  
(A) 3 4 2 1  
(B) 1 2 3 4  
(C) 4 1 2 3  
(D) 2 3 4 1

20. Which one of the following is not permanent member of security council?  
(A) U.S.A. (B) India  
(C) France (D) U.K.  
கீழே கொடுக்கப்பட்டுள்ளவைகளில் எது ஐக்கிய நாடுகள் சபையில் நிரந்தர உறுப்பு நாடு அல்ல?  
(A) அமெரிக்கா (B) இந்தியா  
(C) பிரான்ஸ் (D) இங்கிலாந்து
21. Who was the Pioneer of Ballad in Tamil?  
(A) Ottakuthar (B) Irattai Pulavar  
(C) Kalamega Pulavar (D) Pugazenthi Pulavar  
தமிழ்க்கதைப் பாடலின் முன்னோடியாகக் கருதக்கவர் யார்?  
(A) ஓட்டக்கூத்தர் (B) இரட்டைப்புலவர்  
(C) காளமேகப்புலவர் (D) புகழேந்திரப் புலவர்

23. Which of the following statement is not correct?  
(A) Metals are malleable and ductile  
(B) Metals are good conductors of heat and electricity  
(C) Metals are non-sonorous  
(D) Metals are hard with high melting points  
கீழ்க்காணும் கூற்றுகளில் எது சரியான கூற்று அல்ல?  
(A) உலோகங்களை தகடாகவும், கம்பியாகவும் மாற்ற இயலும்  
(B) உலோகங்கள் சிறந்த மின்கடத்தியாகவும், வெப்பக்கடத்தியாகவும் செயல்படுகின்றன  
(C) உலோகங்கள் ஒலி ஏற்படுத்துவதில்லை  
(D) உலோகங்கள் கடினமானவை மேலும் அதிக உருகுநிலை உடையவை

24. Match the following correctly :  
Column A  
(a) Chloroplast  
(b) Chromoplast  
(c) Leucoplast  
(d) Lysosome  
(e) Chromatin reticulum  
(A) 3  
(B) 4  
(C) 2  
(D) 5  
Column B  
1. Nucleus  
2. Tubers  
3. Leaves  
4. Flowers,  
fruits  
5. Suicidal bags  
(a) (b) (c) (d) (e)  
(A) 3 4 2 5 1

22. Match the following in correct answer :  
(a) 07  
(b) 10  
(c) 18  
(d) 63  
(A) 3  
(B) 1  
(C) 4  
(D) 2  
(a) (b) (c) (d)  
(A) 3 4 2 1  
(B) 1 2 3 4  
(C) 4 1 2 3  
(D) 2 3 4 1

**TNPSC****VAO - General Knowledge -2012**

- (B) 3 2 5 1 4  
(C) 3 5 1 2 4  
(D) 5 1 3 4 2  
பொருத்துக :  
பட்டியல் I  
(A) குளோரோபிளாஸ்ட்  
(B) குளோரோபிளாஸ்ட்  
(C) லியூக்கோபிளாஸ்ட்  
(D) லைசோசோம்  
(E) குரோமேட்டின் வலை  
(a) (b) (c) (d) (e)  
(A) 3 4 2 5 1  
(B) 3 2 5 1 4  
(C) 3 5 1 2 4  
(D) 5 1 3 4 2

25. The life span of human thrombocyte is \_\_\_\_\_ days/weeks.  
(A) 5 - 9 days (B) 2 - 3 weeks  
(C) 5 - 9 weeks (D) 2 - 3 days  
மனித இரத்த பிளேட்டெட்டுகளின் வாழ்நாள் காலம் \_\_\_\_\_ நாட்கள்/வாரங்கள்  
(A) 5 - 9 நாட்கள் (B) 2 - 3 வாரங்கள்  
(C) 5 - 9 வாரங்கள் (D) 2 - 3 நாட்கள்

26. Consider the following statements :  
(a) During respiration, oxygen is taken in and carbondioxide is given out.  
(b) All the organisms are aerobes.  
Of these  
(A) (a) alone is correct (B) (b) alone is correct  
(C) both are correct (D) both are wrong  
கீழ்க்கண வாக்கியங்களை கவனி :  
(a) சுவாசித்தலின் போது ஆக்ஸிஜன் எடுத்துக் கொள்ளப்பட்டு, கார்பன்டைஆக்ஸைடு வெளியிடப்படுகிறது  
(b) அனைத்து உயிரிகளும் காற்று சுவாசிகள் இவற்றுள்  
(A) (a) மட்டும் சரி (B) (b) மட்டும் சரி  
(C) இரண்டுமே சரி (D) இரண்டுமே தவறு

27. Biological control of mosquito larvae can be done by  
(A) Composea and lepister fishes  
(B) Earthworm (C) Snails (D) Tilapia  
கொசுக்களின் லார்வாக்களைக் கட்டுப்படுத்த பயன்படுத்தப்படும் உயிரிகள் \_\_\_\_\_  
(A) கம்பூசியா மற்றும் லெபிஸ்டர் மீன்கள்  
(B) மண்புழு (C) நத்தைகள் (D) டிலேபியா மீன்
28. Match List I and II correctly and select your answer using the codes given below  
List I (Country) List II  
(Parliament)  
(a) England 1. Federal Assembly  
(b) America 2. Parliament  
(c) Japan 3. Congress  
(d) Switzerland 4. Dict  
Codes :  
(a) (b) (c) (d)  
(A) 4 2 3 1  
(B) 2 3 4 1  
(C) 2 3 1 4  
(D) 4 2 1 3  
பட்டியல் I-ஐ பட்டியல் II- உடன் பொருத்திகீழே கொடுக்கப்பட்டுள்ள குறியீடுகளைக் கொண்டு சரியான விடையைத் தேர்ந்தெடு :  
பட்டியல் I(நாடுகள்) பட்டியல் II(பாராளுமன்றம்)  
(a) இங்கிலாந்து 1. பெடரல் அசெம்பிளி  
(b) அமெரிக்கா 2. பாராளுமன்றம்  
(c) ஜப்பான் 3. காங்கிரஸ்  
(d) சுவிட்சர்லாந்து 4. டயட்  
குறியீடுகள் :  
(a) (b) (c) (d)  
(A) 4 2 3 1  
(B) 2 3 4 1  
(C) 2 3 1 4  
(D) 4 2 1 3

**TNPSC****VAO - General Knowledge -2012**

29. Match the following :

- (A) Resumption of rent free tenure  
1. Lord Wellesley  
(B) General services enlistment Act  
2. Lord Dalhousie  
(C) Subsidiary Treaties  
3. Lord Bentinck  
(D) Doctrine of Lapse  
4. Lord Canning

	(a)	(b)	(c)	(d)
(A)	3	4	1	2
(B)	4	1	2	3
(C)	1	2	3	4
(D)	2	3	4	1

பொருத்துக :

- (A) வங்காள நில குத்தகைச் சட்டம்  
1. வெவ்லெசலி பிரபு  
(B) பொதுப் பணிப்படைச் சட்டம்  
2. டல்ஹௌசி பிரபு  
(C) துணைப்படைத் திட்டம்  
3. பெண்டிங் பிரபு  
(D) நாடு இழக்கும் கொள்கை  
4. காணிங் பிரபு

	(a)	(b)	(c)	(d)
(A)	3	4	1	2
(B)	4	1	2	3
(C)	1	2	3	4
(D)	2	3	4	1

30. Match List I and II correctly and select your answer using the codes given below :

- List I  
(A) Junakhan  
(B) Kasimalik  
(C) Fareeth Khan bin-Thuqlak  
(D) Saleem
- List II  
1. Shersha  
2. Jahangir  
3. Mohammad-  
bin-Thuqlak  
4. Kiyasudheen

	(a)	(b)	(c)	(d)
(A)	2	1	3	4
(B)	3	1	2	4
(C)	3	2	4	1

(D) 3 4 1 2  
பட்டியல் I-ஐ பட்டியல் II- உடன் பொருத்திக்கீழே கொடுக்கப்பட்டுள்ள குறியீடுகளைக் கொண்டு சரியான விடையைத் தேர்ந்தெடு :

- பட்டியல் I  
(A) ஜூனாகான்  
(B) காசிமாலிக்  
(C) பரீத்கான்  
துக்களக்  
(D) சலீம்
- பட்டியல் II  
1. ஷெர்ஷா  
2. ஜகாங்கீர்  
3. முகமது பின்  
4. கியாகதீன்

	(a)	(b)	(c)	(d)
(A)	2	1	3	4
(B)	3	1	2	4
(C)	3	2	4	1
(D)	3	4	1	2

31. Which one of the following texts shows us that "Sati" was practiced by the Aryans?

- (a) Rig Veda (b) Yajur Veda  
(c) Sama Veda (d) Atharva Veda  
(A) a (B) b (C) c (D) d

ஆரியர்களிடம் உடன்கட்டை ஏறும் பழக்கம் இருந்தது என்பதை எதன் மூலம் நாம் அறிகிறோம்?

- (a) ரிக் வேதம் (b) யஜூர் வேதம்  
(c) சாம வேதம் (d) அதர்வன வேதம்  
(A) a (B) b (C) c (D) d

32. Identify the place where coral reefs are found in Tamilnadu

- (A) Gulf of Kutch (B) Gulf of Mannar  
(C) Lakshdweep (D) Nicobar island  
தமிழ்நாட்டில் பவளப்பாறைகள் காணப்படும் இடம்  
(A) கட்ச் வளைகுடா (B) மன்னார் வளைகுடா  
(C) இலட்சத் தீவுகள் (D) நிக்கோபார் தீவுகள்

33. "Karpukkadam Poonda Jththeivum Allathu Porputaith Theivam Yaam Kandilamaal" - Who is referred in these lines?

- (A) Seethai (B) Kannagi  
(C) Madhavi (D) Manimegalai

**TNPSC****VAO - General Knowledge -2012**

"கற்புக்கடம் பூண்ட இத்தெய்வம் அல்லது பொற்புடைத் தெய்வம் யாம் கண்டிலமால்" - இந்த வரிகள் கட்டுவது யாரை?

- (A) சீதை (B) கண்ணகி  
(C) மாதவி (D) மணிமேகலை

34. 'Vezham, Pidi, Vengai, ey' - Choose the correct equivalent parallel meanings of these nouns.

- (A) Singam, Yaanai, Puli, Veesuthal  
(B) Yaanai, Kaipatrutha, Puli, Veesuthal  
(C) Yaanai, Penyaanai, Puli, Mullam Pantri  
(D) Vetri, Yaanai, Puli, Peruthal

"வேழம் பிடி வேங்கை எய்" -

இப்பெயர்ச் சொற்களுக்கு இணையான பொருள்களைத் தெரிவு செய்க

- (A) சிங்கம், யானை, புலி, வீசுதல்  
(B) யானை, கைப்பற்றுதல், புலி, அடைதல்  
(C) யானை, பெண்பானை, புலி, முள்ளம்பன்றி  
(D) வெற்றி, யானை, புலி, பெறுதல்

35. Genetic Engineering is employed in the production of

- I. Hormones  
II. Enzymes  
III. Interferon  
IV. Monoclonal antibodies  
(A) I and II are correct  
(B) II and III are correct  
(C) I, II and IV are correct  
(D) I, II, III and IV are correct

மரபுப் பொறியியல் செயல்நுட்பம் பின்வரு வனவற்றை உற்பத்தி செய்ய பயன்படுகிறது

- I. ஹார்மோன்கள்  
II. நொதிகள்  
III. இண்ட்ரஃபெரான்  
IV. மோனோகுளோனல் ஆன்டிபாடிகள்

- (A) I மற்றும் II சரி (B) II மற்றும் III சரி  
(C) I, II மற்றும் IV சரி (D) I, II, III மற்றும் IV சரி

36. The percentage of Gold in 24-carat gold is  
(A) 75% (B) 100% (C) 91.6% (D) 50%  
24 கேரட் தங்கத்தில் உள்ள தங்கத்தின் சதவீதம்  
(A) 75% (B) 100% (C) 91.6% (D) 50%

37. Match the List I with List II and select the correct answer using the code given below the list :

- List I  
(a) Venus  
(b) Saturn  
(c) Uranus  
(d) Mars
- List II  
1. Ringed planet  
2. Red planet  
3. Spins slowly backward  
4. Rolling planet

	(a)	(b)	(c)	(d)
(A)	3	1	4	2
(B)	3	1	2	4
(C)	1	3	2	4
(D)	2	4	1	3

பட்டியல் I-ஐ பட்டியல் II- உடன் பொருத்திக்கீழே கொடுக்கப்பட்டுள்ள குறியீடுகளைக் கொண்டு சரியான விடையைத் தேர்ந்தெடு :

- பட்டியல் I  
II  
(a) வெள்ளி  
(b) சனி  
(c) யுரேனஸ்  
(d) செவ்வாய்
- பட்டியல் II  
1. வளையங்களுடன் கூடிய கோள்  
2. சிவந்த கோள்  
3. பின்புறமாக சமூலம் கோள்  
4. உருளும் கோள்

	(a)	(b)	(c)	(d)
(A)	3	1	4	2
(B)	3	1	2	4
(C)	1	3	2	4
(D)	2	4	1	3

38. Read the following statements and choose the correct answer :

1. The Neolithic period is followed by Chalcolithic period when Copper and Bronze came to be used.  
2. The new technology of smelting metal ore is an important development



**TNPSC****VAO - General Knowledge -2012**

- (A) 1 and 2 are correct (a) (b) (c) (d)  
 (B) 1 is correct and 2 is correct (A) 2 4 1 3  
 (C) 1 and 2 are incorrect (B) 4 3 2 1  
 (D) 1 is correct and 2 is correct (C) 3 2 4 1  
 கீழ்க்கொடுக்கப்பட்டு உள்ளவைகளை படித்து,  
 சரியான விடையை தேர்வு செய்க.

1. புதிய கற்காலத்திற்கு பிறகு செம்பு காலம் துவங்கியது செம்பும், பித்தளையும், உபயோகப்படுத்தப்பட்டது.  
 2. புதிய தொழில் நுட்பமான "உருக்கும் முறை" ஒரு முக்கிய வளர்ச்சியாக அமைந்தது.  
 (A) 1 மற்றும் 2 சரியான கூற்று  
 (B) 1 சரியான கூற்று மற்றும் 2 தவறான கூற்றுகள்  
 (C) 1 மற்றும் 2 தவறான கூற்றுகள்  
 (D) 1 தவறான கூற்று மற்றும் 2 சரியான கூற்று

39. Match the List I with List II and select the correct answer using the code given below the list :

- List I - Rivers Falls  
 (a) Cauvery  
 (b) Sharavati  
 (c) Mahabaleswar  
 (d) Narmada
- List II - Water  
 1. Yenna  
 2. Sivasumudram  
 3. Dhuandhar  
 4. Jog

- (a) (b) (c) (d)  
 (A) 2 4 1 3  
 (B) 4 3 2 1  
 (C) 3 2 4 1  
 (D) 1 3 2 4

பட்டியல் I-ஐ பட்டியல் II- உடன் பொருத்திசரியான விடையை தேர்ந்தெடுத்து அதற்கு முன் உள்ள குறியீட்டை வரிசைப்படுத்து

பட்டியல் I- ஆறுகள் பட்டியல் II- நீர்வீழ்ச்சி

- (a) காவிரி 1. யன்னா  
 (b) ஷராவதி 2. சிவசமுத்திரம்  
 (c) மகாபலேஸ்வரர் 3. தான்தர்  
 (d) நர்மதா 4. ஜோக்

40. Which one of the following is a "Pathu Pattu" Book?

- (A) Pathirtru Pathu (B) Paripadal  
 (C) Patina Palai (D) Puranauru

கீழ்வரும் நூல்களுள் பத்துப்பாட்டு நூல் எது?

- (A) பதிற்றுப்பத்து (B) பரிபாடல்  
 (C) பட்டினப்பாலை (D) புறநானூறு

41. How many varieties of flowers are mentioned in "Kurinjipattu"?

- (A) 96 (B) 92 (C) 99 (D) 90

குறிஞ்சிப்பாட்டில் எத்தனை வகை மலர்கள் குறிப்பிடப்பட்டுள்ளன?

- (A) 96 (B) 92 (C) 99 (D) 90

42. Which Epic was written with the worship of nature in the beginning?

- (A) Valaiyapathi (B) SeevagaCinthamani  
 (C) Silappathikaram (D) Mani Megalai

இயற்கை வாழ்த்தோடு தொடங்கி எழுதப்பெற்ற காப்பியம் எது?

- (A) வளையாபதி (B) சீவகசிந்தாமணி  
 (C) சிலப்பதிகாரம் (D) மணிமேகலை

43. Where is 'Prakui' language spoken?

- (A) Tamilnadu (B) Balusisthanam  
 (C) Rajmahal (D) Bihar

பிராகூயி என்ற மொழி பேசப்படும் பகுதி எது?

- (A) தமிழ்நாடு (B) பலூசிஸ்தானம்  
 (C) இராஜ்மகால் (D) பீகார்

44. Assertion (A) : X-rays are not deflected by electric and magnetic fields.

Reason (R) : X-rays do not have charged particles

(A) (A) is correct (R) is wrong

**TNPSC****VAO - General Knowledge -2012**

- (B) (A) is wrong (R) is correct (d) FAO 4. Population  
 (C) (A) and (R) are wrong (a) (b) (c) (d)  
 (D) (A) and (R) are correct (A) 2 3 4 1

துணிபு (A) : X- கதிர்கள் மின் மற்றும் காந்தப் புலங்களால் விலக்கப்படுவதில்லை.

காரணம் (R) : X- கதிர்கள் மின்னூட்டம் அற்றவை.

- (A) (A) சரி(R) தவறு (B) (A) தவறு (R) சரி  
 (C) (A) மற்றும் (R) தவறு (D) (A) மற்றும் (R) சரி

45. Match the List I with List II and select the correct answer using the code given below :

- List I List II  
 (a) Amoeba 1. spores  
 (b) Paramaecium 2. flagellum  
 (c) Euglena 3. pseudopodia  
 (d) Plasmodium 4. cilia

- (a) (b) (c) (d)  
 (A) 3 4 2 1  
 (B) 4 3 1 2  
 (C) 1 2 3 4  
 (D) 4 2 1 5

பட்டியல் I-ஐ பட்டியல் II- உடன் பொருத்திக்கீழே கொடுக்கப்பட்டுள்ள குறியீடுகளைக் கொண்டு சரியான விடையைத் தேர்ந்தெடு :

- பட்டியல் I பட்டியல் II  
 (a) அமீபா 1. ஸ்போர்கள்  
 (b) பாரமீசியம் 2. கசையிழை  
 (c) யூக்ளிணா 3. போலிக் கால்கள்  
 (d) பிளாஸ்மோடியம் 4. சிலியா

- (a) (b) (c) (d)  
 (A) 3 4 2 1  
 (B) 4 3 1 2  
 (C) 1 2 3 4  
 (D) 4 2 1 3

46. Match the organs of UNO with their relative fields :

- (a) UNIFEM 1. Food and agriculture  
 (b) JAEA 2. Development of women  
 (c) UNFPA 3. Atomic energy

- (a) (b) (c) (d)  
 (A) 2 3 4 1  
 (B) 3 4 2 1  
 (C) 2 1 3 4  
 (D) 2 1 4 3
- ஐ.நா. சபையின் கீழ்க்கண்ட நிறுவனங்களோடு அவற்றுடன் தொடர்புடைய செயல்பாடுகளை பொருத்துக :

- (a) UNIFEM 1. உணவு மற்றும் விவசாயம்  
 (b) IAEA 2. பெண்கள் முன்னேற்றம்  
 (c) UNFPA 3. அணு ஆற்றல்  
 (d) FAO 4. மக்கள் தொகை

- (a) (b) (c) (d)  
 (A) 2 3 4 1  
 (B) 3 4 2 1  
 (C) 2 1 3 4  
 (D) 2 1 4 3

47. The highest inflow of Foreign Direct Investment of India (FDI) comes from

- (A) USA (B) UK  
 (C) Singapore (D) Mauritius

இந்தியாவின் அந்நிய நேரடி முதலீடு கீழ்க்கண்ட எந்த நாட்டிலிருந்து அதிகமாக பெறப்படுகிறது?

- (A) USA (அமெரிக்க ஐக்கிய நாடு)  
 (B) UK (ஐக்கிய அரசு)  
 (C) சிங்கப்பூர் (D) மொரிஷியஸ்

48. Which one of the following statement is wrong?

- (A) Great revolt took place during the period of Lord Canning  
 (B) Census was taken during the period of Lord Rippon  
 (C) Great Famine took place during the period of Lord Litton  
 (D) First World War took place during the period of Lord Karzon

கீழ்க்கண்டவற்றில் தவறான கூற்று எது?

- (A) கானிங் பிரபு ஆட்சிக்காலத்தில் பெரும்புரட்சி ஏற்பட்டது

**TNPSC****VAO - General Knowledge -2012**

- (B) ரிப்பன் பிரபு ஆட்சிக்காலத்தில் மக்கள்தொகை கணக்கெடுப்பு துவக்கப்பட்டது  
(C) லிட்டன் பிரபு ஆட்சிக்காலத்தில் பெரும் பஞ்சம் ஏற்பட்டது  
(D) கர்சன் பிரபு ஆட்சிக்காலத்தில் முதல் உலகப்போர் ஏற்பட்டது

4. தன்னாட்சி இயக்கம் - W. C. பானர்ஜி  
(A) 1 (B) 2 (C) 3 (D) 4

51. Consider the following statements:

1. H<sup>+</sup> ion concentration is 0.001 m and pH value 3.  
2. H<sup>+</sup> ion concentration is 0.01 m and pH value 1.

Which one of the statements given above is/are wrong?

- (A) (1) only (B) (2) only  
(C) Both (1) and (2)  
(D) Neither (1) nor (2)

கீழ்க்கண்ட வாக்கியங்களை கவனிக்கவும் :

1. H<sup>+</sup> அயனியின் செறிவு 0.001 m எனில் pH மதிப்பு 3.  
2. H<sup>+</sup> அயனியின் செறிவு 0.01 m எனில் pH மதிப்பு 1.

மேலே உள்ள வாக்கியங்களில் எவை தவறானது?

- (A) (1) மட்டும் (B) (2) மட்டும்  
(C) (1) மற்றும் (2) (D) (1) மற்றும் (2) இல்லை

52. Match the following :

- (a) Mahatma Gandhi 1. Utopia  
(b) Jawaharlal Nehru 2. A.D. 2000  
(c) Thomas Moore 3. Discovery of India  
(d) Dr. M. Varadharajan 4. My Experiments With Truth

- (a) (b) (c) (d)  
(A) 2 3 4 1  
(B) 3 2 1 4  
(C) 1 2 3 4  
(D) 4 3 1 2

பொருத்துக :

- (a) மகாத்மா காந்தி 1. உட்டோபியா  
(b) ஜவஹர்லால் நேரு 2. கி.பி. 2000  
(c) தாமஸ் மூர் 3. இந்தியாவின் கண்டுபிடிப்பு  
(d) முனைவர் மு. வரதராஜன் 4. சத்திய சோதனை

49. Which one of the following is correctly matched?

- (a) Amarasimman 1. Chinese Pilgrimage  
(b) Varaga Battar 2. Ayur Vedha  
(c) Dhanvanthivi 3. Dictionary  
(d) Fahiyana 4. Sun, Earth

- (a) (b) (c) (d)  
(A) 4 2 3 1  
(B) 3 2 1 4  
(C) 1 3 2 4  
(D) 3 4 2 1

பின்வருவனவற்றுள் எது சரியாக பொருந்துகிறது?

- (a) அமரசிம்மன் 1. சீன தூதுவர்  
(b) வராக பட்டர் 2. ஆயூர் வேதம்  
(c) தன்வந்திரி 3. அகராதி  
(d) பாகியான் 4. சூமி, சூரியன்

- (a) (b) (c) (d)  
(A) 4 2 3 1  
(B) 3 2 1 4  
(C) 1 3 2 4  
(D) 3 4 2 1

50. Which one of the following is correctly matched?

1. Lion of Punjab - Lokamanyar  
2. Swadeshi Movement - A.O. Hume  
3. Bharathamatha Association - Nilakanta Bramachari  
4. Home Rule Movement - W. C. Bannerjee

- (A) 1 (B) 2 (C) 3 (D) 4

கீழ்க்கண்டவற்றில் எது சரியாக பொருந்துகிறது?

1. பஞ்சாபின் சிங்கம் - லோகமான்யர்  
2. சுதேசி இயக்கம் - A. O. ஹ்யூம்  
3. பாரதமாதா சங்கம் - நீலகண்ட பிரமச்சாரி

**TNPSC****VAO - General Knowledge -2012**

- (a) (b) (c) (d)  
(A) 2 3 4 1  
(B) 3 2 1 4  
(C) 1 2 3 4  
(D) 4 3 1 2

53. What is the use of Remote sensing satellites?

- I. To guide ships  
II. Estimation of crop yields  
III. Used for radio and television  
IV. To measure clouds

- (A) I and IV are correct (B) II is only correct  
(C) III and IV are correct (D) IV is only correct  
தொலை உணர்வு செயற்கை துணைக்கோளின் பயன் என்ன?

- I. கப்பல்களை வழி நடந்த  
II. விவசாய உற்பத்தியை மதிப்பிட  
III. ரேடியோ மற்றும் தொலைகாட்சியில் பயன்படுகிறது

- IV. மேகங்களைக் கணக்கிட  
(A) I மற்றும் IV சரி (B) II மட்டும் சரி  
(C) III மற்றும் IV சரி (D) IV மட்டும் சரி

54. Which of the following four major emerging economies called 'BRIC'?

- (A) Brazil, Russia, Indonesia, China  
(B) Brazil, Russia, India, China  
(C) Brazil, Rumania, India, China  
(D) Bangaladesh, Russia, India, China

கீழ்க்கண்ட எந்த நான்கு வளரும் பொருளாதார நாடுகள் 'BRIC' என்று அழைக்கப்படுகின்றன?

- (A) பிரேசில், ரஷ்யா, இந்தோனேசியா, சீனா  
(B) பிரேசில், ரஷ்யா, இந்தியா, சீனா  
(C) பிரேசில், ருமேனியா, இந்தியா, சீனா  
(D) பங்களாதேஷ், ரஷ்யா, இந்தியா, சீனா

55. Antibodies collected from different organisms are used to get \_\_\_\_\_ type of immunity.

- (A) Artificial, Active immunity  
(B) Artificial, Passive immunity  
(C) Natural, Active immunity

(D) Natural, Passive immunity  
பிற உயிரிகளிடமிருந்து பிரித்தெடுக்கப்பட்ட எதிர்ப்பொருள் மனிதருக்கு நோய்த் தடுப்பூசியாகப் போடப்படும் இது எவ்வகை தடுப்பு முறை?

- (A) செயற்கையான, செயல்மிகு நோய் தடுப்பு முறை  
(B) செயற்கையான, மந்தமான நோய் தடுப்பு முறை  
(C) இயற்கையான செயல்மிகு நோய் தடுப்பு முறை  
(D) இயற்கையான மந்தமான நோய் தடுப்பு முறை

56. Which one of the following vegetation is mostly found in the plateau regions of India?

- I. Hill vegetation  
II. Deciduous vegetation  
III. Desert vegetation  
IV. Sunderbans

- (A) I only (B) II only  
(C) III only (D) Both I and II

இந்திய பீடபூமியில் அதிகமாக காணப்படும் தாவரம்

- I. மலைத்தாவரங்கள்  
II. இலையுதிர் தாவரங்கள்  
III. பாலைவன தாவரங்கள்  
IV. சதுப்புநிலத் தாவரங்கள்

மேலே கொடுக்கப்பட்ட சொற்றொடரில் சரியான விடையை தேர்ந்தெடு :

- (A) I மட்டும் (B) II மட்டும்  
(C) III மட்டும் (D) I மற்றும் II

57. Indian Citizenship is acquired by

- (A) Birth and Registration  
(B) Nationalization and incorporation of a territory  
(C) Only by descent  
(D) All are correct

இந்திய குடியுரிமையை எவ்வாறு பெறலாம்?

- (A) பிறப்பு மற்றும் பதிவுறு மூலமாக  
(B) இயற்கையாக மற்றும் ஏதேனும் ஒரு நிலப்பரப்பு இணைவது மூலமாக  
(C) வம்ச வழியில் மட்டும்  
(D) மேற்கூறிய அனைத்தும் சரியே

**TNPSC****VAO - General Knowledge -2012**

58. Match List I with List II correctly and select your answer using the codes given below :

List I

List II

- |             |                      |
|-------------|----------------------|
| (a) Phodou  | 1. Jammu and Kashmir |
| (b) Dhokri  | 2. Bihar             |
| (c) Konkani | 3. Assam             |
| (d) Mythili | 4. Goa               |

(a)	(b)	(c)	(d)
-----	-----	-----	-----

(A)	2	3	1	4
-----	---	---	---	---

(B)	3	1	4	2
-----	---	---	---	---

(C)	1	2	4	3
-----	---	---	---	---

(D)	4	3	2	1
-----	---	---	---	---

பட்டியல் I-ஐ பட்டியல் II-உடன் பொருத்தி, கீழே கொடுக்கப்பட்டுள்ள குறியீடுகளைக் கொண்டு சரியான விடையைத் தேர்ந்தெடு :

பட்டியல் I

பட்டியல் II

- |             |                           |
|-------------|---------------------------|
| (a) போடோ    | 1. ஜம்மு மற்றும் காஷ்மீர் |
| (b) டோக்ரி  | 2. பீகார்                 |
| (c) கொங்கனி | 3. அசாம்                  |
| (d) மைதிலி  | 4. கோவா                   |

(a)	(b)	(c)	(d)
-----	-----	-----	-----

(A)	2	3	1	4
-----	---	---	---	---

(B)	3	1	4	2
-----	---	---	---	---

(C)	1	2	4	3
-----	---	---	---	---

(D)	4	3	2	1
-----	---	---	---	---

59. "Nerarum Kadaludutha Nelamadanthai Ezilozigum" - Whivh one of the following book contain these Tamilthai Vazthu Padal?

- (A) Thirukkural (B) Tholkappiyam  
(C) Panchali Sapadham (D) Manon Maniyam

'நீராருங் கடலுடுத்த நிலமடந்தைக் கெழிலொழுகும்' - தமிழ்த்தாய் வாழ்த்து இடம்பெற்றுள்ள நூல் எது?

- (A) திருக்குறள் (B) தொல்காப்பியம்  
(C) பாஞ்சாலி சபதம் (D) மனோன்மனியம்

60. Which one of the following events connected with 1857 revolt is correctly matched?

1. Proclaimed as the Emperor of India during the revolt 1857 - Bahadur Shah II
2. Kanpur was recaptured by - Commander Johnson
3. Hanged on charges of Rebellion - Rani Lakshmi Ba
4. One of the lieutenants of Begums of Oudh - Tantia Tope

(A) 1 (B) 2 (C) 3 (D) 4

1857 கலகம் தொடர்பான நிகழ்வுகளில் கீழ்க்கண்டவற்றில் எது சரியாகப் பொருந்துகிறது?

1. 1857 கலகத்தின் போது இந்தியாவின் பேரரசராக அறிவிக்கப்பட்டார் - இரண்டாம் பகதூர் ஷா
2. கான்பூரை மீண்டும் கைப்பற்றினார் - பிரிட்டிஷ் தளபதி ஜான்சன்
3. கிளர்ச்சியில் ஈடுபட்டதற்காக தூக்கிலிடப்பட்டார் - இராணி லட்சுமி பாய்
4. அயோத்தி பேசுக்களின் படைத் தலைவர்களில் ஒருவர் - தாந்தியா தோபே

(A) 1 (B) 2 (C) 3 (D) 4

61. Which one of the following pair is correctly matched?

- I. Saranath - Buddha's birth place
- II. Lumbini - Buddha got enlightenment
- III. Bodh Gaya - First Sermon
- IV. Kusi Nagar - Buddha's death place

(A) I (B) II (C) III (D) IV

கீழ்க்கொடுக்கப்பட்டுள்ளவற்றுள் எது மிகச் சரியாக பொருந்துகிறது?

- I. சாரநாத் -புத்தர் பிறந்த இடம்
  - II. லும்பினி -புத்தர் ஞானம் பெற்ற இடம்
  - III. புத்தகயா -முதல் போதனை
  - IV. குஷிநகர் -புத்தர் இறந்த இடம்
- (A) I (B) II (C) III (D) IV

**TNPSC****VAO - General Knowledge -2012**

62. Consider the following table :

Year :	2008	2009	2010	2011
Sales (crores) :	15	25	32	54

The year in which the sales registered a sharp increase over that of the preceding year is  
(A) 2008 (B) 2009 (C) 2010 (D) 2011

கீழ்க்காணும் அட்டவணையை கவனம் கொள்க.  
வருடம் : 2008 2009 2010 2011  
விற்பனை (கோடியில்) : 15 25 32 54

எந்த வருடம், அதன் முந்தைய வருடத்தைக் காட்டிலும் விற்பனை மிக அதிகரித்துள்ளது?  
(A) 2008 (B) 2009 (C) 2010 (D) 2011

63. In an examination for every correct answer 2 marks are awarded for every wrong answer  $\frac{1}{2}$

mark is reduced. If a student answer all 120 questions and secures 45 marks then the no. of correct answered questions is  
(A) 45 (B) 42 (C) 36 (D) 38

ஒரு தேர்வில் ஒவ்வொரு சரியான விடைக்கு இரண்டு மதிப்பெண்கள் வழங்கப்படுகிறது. ஒவ்வொரு தவறான விடைக்கு  $\frac{1}{2}$  மதிப்பெண் குறைக்கப்படுகிறது. ஒரு மாணவன் அனைத்து 120 வினாக்களுக்கும் விடையளித்து 45 மதிப்பெண்களைப் பெறுகிறான் எனில், சரியாக விடையளித்த வினாக்களின் எண்ணிக்கை  
(A) 45 (B) 42 (C) 36 (D) 38

64. Bio-chemically significant enzymes are derived from \_\_\_\_\_

- (A) macrobes (B) microbes  
(C) insuli (D) protein
- உயிரி வேதியியல் முறையில் எந்த என்சைம் பிரித்தெடுக்கப்பட்டது?  
(A) மேக்ரோபெஸ் (B) மைக்ரோபைஸ்  
(C) இன்சலின் (D) புரதம்

65. Find x in

5	9	6	84
7	3	7	70
8	6	4	56
5	x	3	36

(A) 4 (B) 7 (C) 9 (D) 3

xஇன் மதிப்பு காண்க

5	9	6	84
7	3	7	70
8	6	4	56
5	x	3	36

(A) 4 (B) 7 (C) 9 (D) 3

66. Choose the correct order of hierarchy in the classification of animals :

- (A) Class - genus - species - order  
(B) Order - species - class - genus  
(C) Class - - order - genus - species  
(D) Species - class - genus - order
- விலங்குகளை வகைப்படுத்தும் முறையில் சரியான படிநிலை அமைப்பை எழுதுக :  
(A) வகுப்பு - இனம் - சிறப்பினம் - வரிசை  
(B) வரிசை - சிறப்பினம் - வகுப்பு - இனம்  
(C) வகுப்பு - வரிசை - இனம் - சிறப்பினம்  
(D) சிறப்பினம் - வகுப்பு - இனம் - வரிசை

67. Right atrium of our heart receives blood from \_\_\_\_\_ blood vessel.

- (A) pulmonary vein (B) vena cavae  
(C) aorta (D) pulmonary trunk
- மனித இதயத்தின் வலது ஏட்ரிய அறை இரத்த நாளம் மூலம் இரத்தத்தை பெறுகின்றது.  
(A) நுரையீரல் சிரை (B) பெருஞ்சிரைகள்  
(C) பெருந்தமனி (D) நுரையீரல் முக்கிய தமனி

**TNPSC****VAO - General Knowledge -2012**

68. Colloids play an important role in our daily life. Identify the colloid in which liquid is dispersed in solid  
(A) Curd (B) Indian ink  
(C) Milk (D) Paint  
கூழ்மங்கள் என்பது நம் அன்றாட வாழ்வில் மிகவும் முக்கியத்துவம் வாய்ந்தது. கீழ்க்காணும் எக்கூழ்மத்தில் திண்மத்தினுள் திரவம் காணப்படுகிறது  
(A) தயிர் (B) இந்தியன் இங்க்  
(C) பால் (D) பெயின்ட்
69. The largest tropical Savanna grass land are seen in  
(A) Australia (B) Africa  
(C) Asia (D) America  
மிகப்பரந்த அயனமண்டல சவானா புல்வெளி காணப்படுவது  
(A) ஆஸ்திரேலியா (B) ஆப்ரிக்கா  
(C) ஆசியா (D) அமெரிக்கா
70. The chairman of the union public service commission is appointed by  
(A) The President (B) The Prime Minister  
(C) The Chief Minister (D) The Governor  
மத்திய பணியாளர் தேர்வாணையத்தின் தலைவரையாரால் நியமிக்கப்படுகிறார்?  
(A) குடியரசுத் தலைவர் (B) பிரதம அமைச்சர்  
(C) முதலமைச்சர் (D) ஆளுநர்
71. Which one of the following is not considered as a method of calculating National Income?  
(A) Product method (B) Income method  
(C) Budget method (D) Expenditure method  
பின்வருவனவற்றுள் எது நாட்டு வருமானத்தைக் கணக்கிடும் சரியான முறை அல்ல என்று தேர்ந்தெடுக்கவும்?  
(A) உற்பத்தி முறை (B) வருமான முறை  
(C) வரவு செலவு திட்ட முறை (பட்ஜெட் முறை)  
(D) செலவின முறை
72. Match the following Indian towns with their Industrial product.  
(a) Ahmedabad 1. Tea Processing  
(b) Kolkata 2. Cotton Textile Industry  
(c) Darjeeling 3. Glass Industry  
(d) Firoza bad 4. Jute Industry  
(a) (b) (c) (d)  
(A) 4 3 2 1  
(B) 3 4 1 2  
(C) 2 1 3 4  
(D) 2 4 1 3  
கீழ்க்கண்ட இந்திய நகரங்களை அவற்றோடு தொடர்புடைய தொழில்களோடு பொருத்துக :  
(a) அகமதாபாத் 1. தேயிலைப்படுத்துதல்  
(b) கொல்கத்தா 2. பஞ்சாலைத் தொழில்  
(c) டார்ஜிலிங் 3. கண்ணாடித் தொழில்  
(d) பிரோஜாபாத் 4. சணல் தொழில்  
(a) (b) (c) (d)  
(A) 4 3 2 1  
(B) 3 4 1 2  
(C) 2 1 3 4  
(D) 2 4 1 3
73. A hemisphere and cone have equal bases and equal height. Then their volumes be in the ratio  
(A) 2 : 1 (B) 1 : 2 (C) 3 : 2 (D) 2 : 3  
ஒரு அரைக்கோளமும், கூம்பும் ஒரே அடிப்பக்கமும், ஒரே உயரமும் பெற்றிருப்பின் அவற்றின் கன அளவுகளின் விகிதம்  
(A) 2 : 1 (B) 1 : 2 (C) 3 : 2 (D) 2 : 3
74. Match List I and List II and select the correct answer using the code given below the lists :  
List I List II  
(a) Horn silver 1. MgCO<sub>3</sub> CaCO<sub>3</sub>  
(b) Argntite 2. AgCl  
(c) Bauxite 3. Ag<sub>2</sub>S  
(d) Dolomite 4. Al<sub>2</sub>O<sub>3</sub>. 2H<sub>2</sub>O  
Codes :  
(a) (b) (c) (d)  
(A) 2 4 1 3

**TNPSC****VAO - General Knowledge -2012**

- (B) 2 3 4 1  
(C) 3 2 4 1  
(D) 3 1 2 4  
வரிசை I மற்றும் வரிசை II ஆகியவற்றை, கொடுக்கப்பட்ட குறியீடுகளை பயன்படுத்தி சரியாக பொருத்துக :  
வரிசை I வரிசை II  
(A) ஹார்ன் சில்வர் 1. MgCO<sub>3</sub>, CaCO<sub>3</sub>  
(B) அர்ஜென்டைட் 2. AgCl  
(C) பாக்கைட் 3. Ag<sub>2</sub>S  
(D) டோலமைட் 4. Al<sub>2</sub>O<sub>3</sub>. 2H<sub>2</sub>O  
குறியீடுகள் :  
(a) (b) (c) (d)  
(A) 2 4 1 3  
(B) 2 3 4 1  
(C) 3 2 4 1  
(D) 3 1 2 4
75. Which one of the following is correctly matched?  
(A) International Atomic Energy Agency : Geneva  
(B) International Labour Organisation : Madrid, Spain  
(C) United Nations University : Japan  
(D) World Tourism Organisation : Vienna  
கீழ்க்கண்டவற்றில் எது சரியாக பொருந்துகிறது?  
(A) சர்வதேச அணுசக்தி அமைப்பு : ஜெனிவா  
(B) உலக தொழிலாளர் அமைப்பு : மேட்ரைட், ஸ்பெயின்  
(C) ஐக்கிய நாடுகளின் பல்கலைக்கழகம் : ஜப்பான்  
(D) உலக சுற்றுலா அமைப்பு : வியன்னா
76. Energy is stored as which molecule in mitochondria so that it is known as 'Energy Currency' of the cell  
I. Glucose  
II. Proteing  
III. ATP  
IV. ADP  
(A) I and II (B) Only III  
(C) Only IV (D) III and IV
77. Which one of the following districts where natural gas is available in Tamil Nadu?  
(A) Trichy (B) Salem  
(C) Dharmapuri (D) Tanjore  
தமிழ்நாட்டில் எந்த மாவட்டத்தில் இயற்கை எரிவாயு கிடைக்கிறது?  
(A) திருச்சி (B) சேலம்  
(C) தர்மபுரி (D) தஞ்சாவூர்
78. Island's of Pacific Ocean is called as "Ring of Fire" because -  
Consider the statements  
I. Volcanic island's are in large numbers.  
II. Majority of volcanoes are active.  
Select the correct answer using the given codes  
(A) I only (B) II only  
(C) Both I and II (D) Neither I nor II  
பசுபிக் பெருங்கடலில் உள்ள தீவு கூட்டங்களை "நெருப்பு வளையம்" என அழைக்கிறோம் ஏனெனில்  
I. எரிமலைகளுள்ள தீவுக்கூட்டங்கள் ஏராளமாக உள்ளது.  
II. பெரும்பாலான எரிமலைகள் செயல்படும் எரிமலைகளாகும்.  
கொடுக்கப்பட்டுள்ள குறியீட்டை பயன்படுத்தி சரியான விடையைத் தேர்ந்தெடு :  
(A) I மட்டும் (B) II மட்டும்  
(C) I மற்றும் II (D) I இல்லையென்றால் II



**TNPSC****VAO - General Knowledge -2012**

79. The Consumer Protection Act 1986 - covers

- (A) Goods and services relating to private sector only  
 (B) Goods and services relating to public sector only  
 (C) Goods and services relating to private public and cooperative sector  
 (D) Goods and services relating to Government only

- நுகர்வோர் பாதுகாப்புச் சட்டம் 1986, எதற்கானது?  
 (A) தனியார் துறை சார்ந்த பொருள் மற்றும் சேவை தொடர்பானது  
 (B) அரசுத் துறை சார்ந்த பொருள் மற்றும் சேவை தொடர்பானது  
 (C) அரசு, தனியார் மற்றும் கூட்டுறவு துறை சார்ந்த பொருள் மற்றும் சேவை தொடர்பானது  
 (D) அரசாங்க பொருள் மற்றும் சேவைக்கானது

80. Match List I with List II :

List I - States Number of State Assembly Seats	List II -
(A) Andhra Pradesh	1. 140
(B) Karnataka	2. 234
(C) Tamil Nadu	3. 224
(D) Kerala	4. 294
(a) (b) (c) (d)	(A) 4 3 2 1
(A) 4 3 2 1	(B) 2 3 4 1
(B) 2 3 4 1	(C) 4 3 1 2
(C) 4 3 1 2	(D) 1 3 4 2
(D) 1 3 4 2	(A) 4 3 2 1
(A) 4 3 2 1	(B) 2 3 4 1
(B) 2 3 4 1	(C) 4 3 1 2
(C) 4 3 1 2	(D) 1 3 4 2
(D) 1 3 4 2	

81. Match the following :

(A) Agro based industry	1. Iron and Steel industry
(B) Forest based industry	2. Television industry
(C) Mineral based industry	3. Paper industry
(D) Electronic industry	4. Cotton textile industry
(a) (b) (c) (d)	(A) 4 3 1 1
(A) 4 3 1 1	(B) 4 2 1 3
(B) 4 2 1 3	(C) 1 3 4 2
(C) 1 3 4 2	(D) 1 4 3 2
(D) 1 4 3 2	

82. Which one of the following articles prohibits the employment of children below the age of 14 in any factory or mine?

- (A) Article 23 (B) Article 24  
 (C) Article 21 A (D) Article 64  
 கீழ்க்கண்டவற்றுள் எந்த அரசியலமைப்பு விதியின்படி 14 வயதுக்கு உட்பட்ட சிறுவர்களை தொழிற்சாலை மற்றும் சுரங்க வேலைகளில் அமர்த்துவது தடை செய்யப்பட்டுள்ளது  
 (A) விதி 23 (B) விதி 24  
 (C) விதி 21 A (D) விதி 64

**TNPSC****VAO - General Knowledge -2012**

83. Match List I with List II correctly and select your answer using the codes given below :

List I	List II
(a) Pyrometer	1. Pressure of gases
(b) Lactometer	2. High temperature
(c) Manometer	3. Intensity of light
(d) Photometer	4. Density of milk
(a) (b) (c) (d)	(A) 4 3 1 2
(A) 4 3 1 2	(B) 2 4 1 3
(B) 2 4 1 3	(C) 2 4 3 1
(C) 2 4 3 1	(D) 3 4 2 1
(D) 3 4 2 1	

84. The price of a commodity becomes 16 times in a period of 4 years. The percentage increase per year is

- (A) 100 (B) 40 (C) 60 (D) 20  
 ஒரு பொருளின் விலை 4 வருடங்களில் 16 மடங்காகிறது எனின். வருடாந்திர சதவீத உயர்வு  
 (A) 100 (B) 40 (C) 60 (D) 20

85. Green House effect is due to increase in

- I. Carbon-di-oxide  
 II. Nitrous oxide  
 III. Methane  
 IV. Sulphur-di-oxide  
 (A) I is correct (B) I and II correct

86. Optical fibres are used as medium for telecommunications. It is made from

- (A) dispersion glass (B) Nylon fibre  
 (C) Thin copper wire (D) Plastic wire  
 ஒளியியற் இழைகள் தொலைபோக்குவரத்திற்கு ஊடகமாக அமைகிறது. அவ்விழைகள் எதிலிருந்து தயாரிக்கப்படுகிறது என்றால்  
 (A) சிதறடிக்கப்பட்ட கண்ணாடி  
 (B) நைலான் இழைகள்  
 (C) மெல்லிய தாமிர கம்பி  
 (D) பிளாஸ்டிக் இழைகள்

87. Match Column A with Column B.

Column A	Column B
(A) Formic acid	1. Vinegar
(B) Acetic acid	2. Butter
(C) Lactic acid	3. Red ant
(D) Butyric acid	4. Milk
(a) (b) (c) (d)	(A) 3 4 1 2
(A) 3 4 1 2	(B) 3 1 4 2
(B) 3 1 4 2	(C) 2 3 4 1
(C) 2 3 4 1	(D) 4 3 1 2
(D) 4 3 1 2	



TNPSC

VAO - General Knowledge -2012

(D) பியூடிரிக் அமிலம்	4. பால்
(a) (b) (c) (d)	
(A) 3 4 1 2	
(B) 3 1 4 2	
(C) 2 3 4 1	
(D) 4 3 1 2	

88. Match List I and II correctly and select your answer using the codes given below :

List I	List II
(a) De- Brogile	1. $E = mc^2$
(b) Heisenberg	2. Atomic theory
(c) Einstein	3. Wave nature of particles
(d) Dalton	4. $\Delta H, \Delta P, \geq \frac{h}{4\pi}$

(a) (b) (c) (d)	
(A) 2 3 1 4	
(B) 2 1 3 4	
(C) 3 4 1 2	
(D) 3 4 2 1	

பொருத்துக் : வகை 1 மற்றும் 2 சரியாக குறிப்பு எண்களை பயன்படுத்தி பொருத்துக.

வகை 1	வகை 2
(a) டி-பிராக்ளே	1. $E = mc^2$
(b) ஹைசன் பெர்க்	2. அணுக்கொள்கை
(c) ஜன்ஸ்டன்	3. துகளின் அலைப்பண்பு

(d) டால்டன்	4. $\Delta H, \Delta P, \geq \frac{h}{4\pi}$
(a) (b) (c) (d)	
(A) 2 3 1 4	
(B) 2 1 3 4	
(C) 3 4 1 2	
(D) 3 4 2 1	

89. Which of the following is incorrectly matched?

- (A) Rusting - Ferrous ion to ferric ion  
 (B) Decarboxylation - Removal of acid group  
 (C) Combustion - Addition of hydrogen  
 (D) Fermentation - Glucose to ethanol

- பின்வருவனவற்றில் பொருந்தாதது எது?  
 (A) துருப்பிடித்தல் - பெர்ரஸ் அயனி பெர்ரிக் அயனியாக மாறுதல்  
 (B) கார்பாக்சில் நீக்க வினை - அமிலத் தொகுதியை நீக்குதல்  
 (C) எரிதல் - ஹைட்ரஜனைச் சேர்த்தல்  
 (D) நொதித்தல் - குளுக்கோஸ் எத்தனால் ஆக மாறுதல்

90. Inflation denotes the following situation

- (A) Price level rises - money value falls  
 (B) Price level rises - money value rises  
 (C) Price level falls - money value falls  
 (D) Price level falls - money value rises  
 பணவீக்கம் கீழ்க்கண்ட நிலையைக் குறிக்கும்  
 (A) விலைவாசி உயர்வும் - பணத்தின் மதிப்பு வீழ்ச்சியும்  
 (B) விலைவாசி உயர்வும் - பணத்தின் மதிப்பு உயர்வும்  
 (C) விலைவாசி வீழ்ச்சியும் - பணத்தின் மதிப்பு வீழ்ச்சியும்  
 (D) விலைவாசி வீழ்ச்சியும் - பணத்தின் மதிப்பு உயர்வும்

91. Which metal will melt on palm of the hand?

- (A) Mercury (B) Gold  
 (C) Gallium (D) Silver  
 உள்ளங்கையில் வைக்கும்போது உருகக்கூடிய உலோகம் எது?  
 (A) பாதரசம் (B) தங்கம்  
 (C) காலியம் (D) வெள்ளி

92. Which one of the following rocks belongs to Sedimentary Rock?

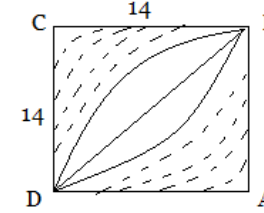
- (A) Basalt (B) Limestone  
 (C) Marble (D) Slate  
 கொடுக்கப்பட்டுள்ள பாறைகளில், படிவுப்பாறை வகையைச் சார்ந்த பாறை எது?  
 (A) பசாலை (B) கண்ணாம்புப் பாறை  
 (C) பளிங்குப் பாறை (D) சிலேட்



TNPSC

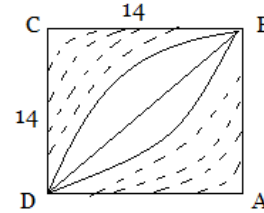
VAO - General Knowledge -2012

93. In the adjoining figure the arcs  $\overline{BD}$ , have A and C as centres. Find the area of shaded portions.



- (A) 82 (B) 72 (C) 42 (D) 84

கொடுக்கப்பட்டுள்ள படத்தில் வட்ட வில்கள்  $\overline{BD}$  யின் மையங்கள் A மற்றும் C எனில், நிழலிட்ட பகுதியின் பரப்பு காண்க.



- (A) 82 (B) 72 (C) 42 (D) 84

94. Consider the following statements :

- Assertion (A) : There are more female terracotta figurines than those of male in Indus Valley Civilization.  
 Reason (R) : Women enjoyed a superior position in the Harappan age.  
 (A) Both (A) and (R) are true and (R) is the correct explanation for (A)  
 (B) Both (A) and (R) are true and (R) is not the correct explanation for (A)  
 (C) (A) is true, (R) is false  
 (D) (A) is false, (R) is true

கீழ்க்கண்ட வாக்கியங்களைக் கவனி : கூற்று (A) : சிந்து சமவெளி நாகரீக கடுமட்பாண்டங்களில் ஆண் உருவத்தை விட

- பெண் உருவங்கள் அதிகமாக அமைந்துள்ளன. காரணம் (R) : ஹரப்பா காலத்தில் பெண்கள் மேம்பட்ட நிலையில் இருந்தனர்.  
 (A) (A) மற்றும் (R) இரண்டும் சரி. மேலும் (R) என்பது (A)-விற்கு சரியான விளக்கம்  
 (B) (A) மற்றும் (R) இரண்டும் சரி. மேலும் (R) என்பது (A)-விற்கு சரியான விளக்கமல்ல  
 (C) (A) சரி, (R) தவறு  
 (D) (A) தவறு, (R) சரி

95. Match List I and List II correctly and select your answer using the codes given below :

List I	List II
(a) Bauxite	1. Uranium
(b) Galena	2. Titanium
(c) Pitch Blende	3. Aluminium
(d) Rutile	4. Lead

(a) (b) (c) (d)	
(A) 3 4 2 1	
(B) 3 4 1 2	
(C) 4 3 1 2	
(D) 2 1 4 3	

பட்டியல் I-ஐ பட்டியல் II-உடன் பொருத்தி கீழே கொடுக்கப்பட்டுள்ள குறியீடுகளைக் கொண்டு சரியான விடையை தேர்ந்தெடு :

பட்டியல் I	பட்டியல் II
(a) பாக்கைட்	1. யுரேனியம்
(b) கலீனா	2. டைட்டேனியம்
(c) பிட்ச் பிளண்ட்	3. அலுமினியம்
(d) ரூடைல்	4. லெட்

(a) (b) (c) (d)	
(A) 3 4 2 1	
(B) 3 4 1 2	
(C) 4 3 1 2	
(D) 2 1 4 3	

96. Match List I and List II correctly and select your answer using the codes given below :

**TNPSC****VAO - General Knowledge -2012**

- (A) Service to Poor is service to God  
1. Sri Narayana Guru
- (B) Suddhi Movement  
2. Ramalinga Vallalar
- (C) Jceva Karunya  
3. Vivekanandar
- (D) Dharma Paribalana Yogam  
4. Swami Dhayananda Saraswathi

	(a)	(b)	(c)	(d)
(A)	2	3	1	4
(B)	2	4	1	3
(C)	3	4	2	1
(D)	3	2	1	4

பட்டியல் I-ஐ பட்டியல் II-உடன் பொருத்தி கீழே கொடுக்கப்பட்டுள்ள குறியீடுகளைக் கொண்டு சரியான விடையை தேர்ந்தெடு :

- (a) மக்கள் தொண்டே மகேசன் தொண்டு  
1. ஸ்ரீநாராயண குரு
- (b) கத்தி இயக்கம்  
2. இராமலிங்க வள்ளலார்
- (c) ஜீவ காருண்யம்  
3. விவேகானந்தர்
- (d) தர்ம பரிபாலன யோகம்  
4. சுவாமி தயானந்த சரஸ்வதி

	(a)	(b)	(c)	(d)
(A)	2	3	1	4
(B)	2	4	1	3
(C)	3	4	2	1
(D)	3	2	1	4

97. Which one of the following is correctly matched?

1. Atmiya Sabha - Olcott
2. Young Bengal Movement - Raja Ram Mohan Roy
3. Nirankari Movement - Henry Vivian Derozio
4. Ghader Party - Lala Har Dyal
- (A) 1 (B) 2 (C) 3 (D) 4

கீழ்க்கண்டவற்றில் எது சரியாக பொருந்துகிறது?

1. ஆத்மிய சபை - ஆல்காட்
2. இளம் வங்காள இயக்கம் - இராஜாராம் மோகன்ராம்
3. நிரங்காரி இயக்கம் - ஹென்றி விவியன் டெரோசா
4. காதர் கட்சி - லாலா ஹர்தயான்
- (A) 1 (B) 2 (C) 3 (D) 4

98. Who has written the Drama "Thanneer Thanneer"?

- (A) Komal Swaminathan (B) Bala Chandar
- (C) Anna Durai (D) Pammal Sambantha Mudhaliyar

'தண்ணீர் தண்ணீர்' என்ற நாடக நூலின் ஆசிரியர் யார்?

- (A) கோமல் சாமிநாதன் (B) பாலச்சந்தர்
- (C) அண்ணாதுரை (D) பம்மல் சம்பந்த முதலியார்

99. Match List I and List II correctly and select your answer using the codes given below :

- | List I                | List II                      |
|-----------------------|------------------------------|
| (a) Veerama munivar   | 1. Achupani                  |
| (b) Kalduvel          | 2. Sathuragarathi            |
| (c) G.U.Pope          | 3. Oppilakkanam              |
| (d) Scegan Palku Iyer | 4. Translation of Tirukkural |

	(a)	(b)	(c)	(d)
(A)	2	3	4	1
(B)	1	3	4	2
(C)	3	4	1	2
(D)	2	4	3	1

பட்டியல் I-ஐ பட்டியல் II-உடன் பொருத்தி கீழே கொடுக்கப்பட்டுள்ள குறியீடுகளைக் கொண்டு சரியான விடையை தேர்ந்தெடு :

- | பட்டியல் I       | பட்டியல் II     |
|------------------|-----------------|
| (a) வீரமாமுனிவர் | 1. அச்சப்பணி    |
| (b) கால்டுவெல்   | 2. சதுரகராதி    |
| (c) ஜி.யூ.போப்   | 3. ஒப்பிலக்கணம் |

**TNPSC****VAO - General Knowledge -2012**

- (d) சீகன் பால்கு ஐயர் 4. திருக்குறள் மொழிபெயர்ப்பு
- |     | (a) | (b) | (c) | (d) |
|-----|-----|-----|-----|-----|
| (A) | 2   | 3   | 4   | 1   |
| (B) | 1   | 3   | 4   | 2   |
| (C) | 3   | 4   | 1   | 2   |
| (D) | 2   | 4   | 3   | 1   |

100. Where in Tamilnadu, a bench of the Madras High Court is situated?

- (A) Chennai (B) Coimbatore
- (C) Trichy (D) Madurai

தமிழ்நாட்டில், சென்னை உயர்நீதி மன்றத்தின் கிளை எங்கு அமையப்பெற்றுள்ளது?

- (A) சென்னை (B) கோயம்புத்தூர்
- (C) திருச்சி (D) மதுரை



**TNPSC****VAO - General Tamil - 2012****101.** அகர வரிசைப்படி சொற்களை சீர் செய்யக் :

- (A) நடட்டம், நாட்டம், நொடித்தல், நோட்டம்  
 (B) நாட்டம், நடட்டம், நோட்டம், நொடித்தல்  
 (C) நொடித்தல், நோட்டம், நடட்டம், நாட்டம்  
 (D) நோட்டம், நொடித்தல், நாட்டம், நடட்டம்

**102.** ஓறுத்தார் க்க கொருநாளை இன்பம் பொறுத்தார்க்குப் பொன்றும் துணையும் புகழ் இதில் - ஓறு என்னும் வேர்ச்சொல் எந்த இலக்கணத்தோடு வந்துள்ளது?

- (A) ஓறுத்தார் - வினைமுற்று  
 (B) ஓறுத்தார் - வினையாலணையும் பெயர்  
 (C) ஓறுத்தார் - வியங்கோள் வினைமுற்று  
 (D) ஓறுத்தார் - தொழிற்பெயர்

**103.** உவமைத் தொடர்கள் :

1. உடலும் உயிரும் போல  
 2. அச்சில் வார்த்தாற் போல  
 3. அணி வகுத்தாற் போல  
 4. வேம்பும் அரகும் போல

பின்வருவனவற்றுள் இத்தொடருக்குப் பொருத்தமானதைத் தேர்க் :

- (A) ஒரே பொருளுடையன  
 (B) 2, 3, 4 - ஒரே பொருளுடையன  
 (C) 1, 2, 3 மட்டும் ஒரே பொருளுடையன  
 (D) 1, 2, 4 மட்டும் ஒரே பொருளுடையன

**104.** படு - என்னும் வேர்ச்சொல்லின் தொழிற்பெயரை தேர்ந்தெடுக்க :

- (A) பட்ட (B) பட்டு  
 (C) படுதல் (D) பட்டவன

**105.** நல் - என்னும் வேர்ச்சொல்லின் வினையெச்சத்தை தேர்ந்தெடுக்க :

- (A) நல்கு (B) நல்கிய  
 (C) நல்குதல் (D) நல்குவார்

**106.** கட்டளை வாக்கியம் குறித்து

- கீழ்க்கண்டவற்றுள் சரியானது எது?  
 (A) வினாப்பொருள் தரும் வாக்கியம்  
 (B) விழைவு வேண்டல் வாழ்த்தல் வைதல் ஆகியவற்றுள் ஒன்றைத் தெரிவிக்கும் வாக்கியம்  
 (C) ஒரு செய்தியைத் தெரிவிக்கும் வாக்கியம்  
 (D) தனி வாக்கியங்கள் பல தொடர்ந்து வருவது

**107.** வழுவச் சொற்களற்ற வாக்கியத்தைத் தேர்வு செய்யக் :

- (A) வத்தல் அருகே கோடாரி இருந்தது  
 (B) வற்றல் அருகே கோடாரி இருந்தது  
 (C) வற்றல் அருகே கோடாரி இருந்தது  
 (D) வலதுபக்கம் சீயக்காய் இருக்கிறது

**108.** 'பேடிகை வானான்மை போலக் கெடும்' எது?

- (A) அதிவேக முயற்சி (B) முயற்சியின்மை  
 (C) முயற்சி (D) அழியும்

**109.** பொருந்தா இணையைக் கண்டறிக் :

- (A) மதிமுகம் - முகமதி  
 (B) கனிவாய் - வாய்க்கனி  
 (C) முகப்பூ - பூமுகம்  
 (D) மலரடி - அடிமலர்

**110.** 'தம்பிரான் தோழர்' என அழைக்கப்பட்டவர்

- (A) அப்பர் (B) சுந்தரர்  
 (C) திருஞானசம்பந்தர் (D) மாணிக்கவாசகர்

**111.** பட்டியல் I - ஐ பட்டியல் II உடன் பொருத்தி கீழே கொடுக்கப்பட்டுள்ள குறியீடுகளைக் கொண்டு சரியான விடையைத் தேர்ந்தெடுக்க .**105.** நல் - என்னும் வேர்ச்சொல்லின் வினையெச்சத்தை தேர்ந்தெடுக்க :

- (A) நல்கு (B) நல்கிய  
 (C) நல்குதல் (D) நல்குவார்

**TNPSC****VAO - General Tamil - 2012****பட்டியல் I**

(a) செய்யத்தொடர்

(b) உணர்ச்சி வாக்கியம்

(c) கட்டளை வாக்கியம்

(d) வினா வாக்கியம்

**பட்டியல் II**

1. உண்மைக்கு

அறிவில்லை அலைவா?

2. மாணவர் சிறந்த

முறையில் தேர்வு

எழுதினர்

3. ஆஹா! என்னே

அழகு!

4. அனைவரும்

தாய்மொழியைப்

போற்றுக

(a) (b) (c) (d)

(A) 2 3 4 1

(B) 3 4 2 1

(C) 1 2 3 4

(D) 4 1 2 3

**112.** பின்வருவனவற்றில் எது தி. ஜானகிராமனால்

எழுதப்படாத புதினம்?

(A) செம்பருத்தி (B) மரப்பசு

(C) அன்பே ஆரமுதே (D) பாலும் பாவையும்

**113.** சரியான மரபுத் தொடர்களை தேர்வு செய்யக் :

(A) ஆந்தை கத்த கழுதை அறை கிளி கரைந்தது

(B) ஆந்தை அறை கழுதை கணைக்க கிளி

கொஞ்சியது

(C) குதிரை கணைக்க குயில் கூவ சிங்கம்

முழங்கியது

(D) புலி உறும் மயில் அகவ யானை கத்தியது

**114.** "யாதானும் நாடாமால் ஊராமால் என்னொருவன்

சாந்துணையும் கல்லாத வாறு"

- இக்குறளின் அடிப்படையில் சீர் இயைபினைக் கட்டுக

(A) யாதானும் - நாடாமால்

(B) நாடாமால் - ஊராமால்

(C) ஊராமால் - என்னொருவன்

(D) யாதானும் - சாந்துணையும்

**115.** Gripe - என்ற ஆங்கிலச் சொல்லுக்கு நேரான தமிழ்ச் சொல்லைத் தேர்ந்தெடுக்க :

- (A) சண்டையிடு (B) துன்புறுத்து  
 (C) பயமுட்டுகிற (D) பயங்கரமான

**116.** பொருந்தாச் சொல்லைக் கண்டறிக.

- (A) விழி (B) பழி (C) ஒழி (D) ஆழி

**117.** பிறமொழிச் சொற்களற்ற வாக்கியங்களைத் தேர்வு செய்யக் :

1. மேஸ்திரியிடம் அலமாரி ஜன்னல் சாவி  
 2. தலைமைத் தொழிலாளிடம் நெடும்பேழை பலகணி திறவுகோல்  
 3. பஜார் மைதானத்தில் ஜமக்காளம்  
 4. கடைத்தெரு திறந்தவெளித் திடலிலி விரிப்பு  
 (A) 1 மற்றும் 3 (B) 2 மற்றும் 3  
 (C) 2 மற்றும் 4 (D) 1 மற்றும் 4

**118.** வழுவச் சொற்களற்ற வாக்கியங்களைத் தேர்வு செய்யக் :

1. அருவாமணையின் அருகில் அண்ணாக் கயிறு இருந்தது.  
 2. அவரைக்காய் மற்றும் சிகைக்காய் வாங்கினேன்.  
 3. தாழ்வாரத்தில் துடைப்பம் இருந்தது.  
 4. நஞ்சை நிலத்தில் வேர்வை சிந்தி உழைத்தான்.  
 (A) 1 மற்றும் 2 (B) 2 மற்றும் 3  
 (C) 3 மற்றும் 4 (D) 1 மற்றும் 4

**119.** அகர வரிசைப்படி சொற்களை சீர் செய்யக் :

- (A) மடங்கல், முடங்கல், மொட்டு, மோனை  
 (B) முடங்கல், மடங்கல், மோனை, மொட்டு  
 (C) மொட்டு, மோனை, மடங்கல், முடங்கல்  
 (D) மோனை, மொட்டு, முடங்கல், மடங்கல்





## TNPSC VAO - General Tamil - 2012

120. அகர வரிசைப்படி சொற்களை சீர் செய்ய்க :

- (A) முடவன், மீனவர், மாடு, மடம்  
(B) மாடு, மீனவர், முடவன், மடம்  
(C) மீனவர், மாடு, மடம், முடவன்  
(D) மடம், மாடு, மீனவர், முடவன்

24. பொருத்துக :

- (a) Rinse 1. சிற்றலை  
(b) Riot 2. பட்டை  
(c) Rind 3. கழுவ  
(d) Rimple 4. கலகம்

21. இலக்கணக் குறிப்புக்குப் பொருந்தாதச் சொல்லைக் கண்டறிக : 'வினையாலணையும் பெயர்'

- (A) உடையான் (B) ஈந்தார்  
(C) உற்றார் (D) வையார்

- (a) (b) (c) (d)  
(A) 3 4 2 1  
(B) 4 3 2 1  
(C) 2 3 4 1  
(D) 1 4 2 3

22. சரியான மரபுத் தொடரைத் தேர்க :

- (A) சவுக்குத் தோப்பு அருகே ஆலங்காடு இருக்கிறது  
(B) சவுக்குத் தோட்டம் அருகே ஆலந்தோப்பு இருக்கிறது  
(C) பனந்தோப்பு அருகே பலாக்காடு இருக்கிறது  
(D) பனந்தோட்டம் அருகே பலாத்தோப்பு இருக்கிறது

25. "பகைபாவம் அச்சம் பறி என நான்கும்

- இகவாஆம் இல்லறப்பான் கண்" -  
இக்குறளின் முதலடியில் அமைந்துள்ள மோனை  
(A) இணை மோனை (B) பொழிப்பு மோனை  
(C) கூழை மோனை (D) மேற்கதுவாய் மோனை

26. வழுஉச் சொற்களற்ற வாக்கியங்களைத் தேர்வு செய்க :

1. சிலவுக்குப் பாவக்காய் விற்றான்  
2. செலவுக்குப் பாகற்காய் விற்றான்  
3. நஞ்சை நிலத்தில் வேர்வை சித்த முயற்சித்தார்  
4. நன்செய் நிலத்தில் வியர்வை சித்த முயன்றார்  
(A) 1 மற்றும் 2 (B) 2 மற்றும் 4  
(C) 2 மற்றும் 3 (D) 3 மற்றும் 4

27. பின்வரும் பாடலின் ஆசிரியரைப் பொருத்துக

- (a) தமிழன் என்றோர்  
இளமுண்டு தனியே  
அவற்கொரு குணமுண்டு 1. கவிமணி

23. வாக்கியங்களைக் கவனி :

- கூற்று(A) : (எ.கா.) அரசன் புலவரைக் கண்டான்;  
அவரை வரவேற்றான் ; பரிசு வழங்கினான்.  
காரணம்(R) : தனி வாக்கியங்கள் பல தொடர்ந்து வரும் ஓர் எழுவாய், பலபயனிலை களைப் பெற்றுவரும் இதுவே தொடர் வாக்கியம். இவற்றுள் எது சரி?  
(A) (A) தவறு, ஆனால் (R) சரி  
(B) (A) மற்றும் (R) இரண்டும் சரி. மேலும் (R) என்பது (A) விற்கு சரியான விளக்கம்  
(C) (A) சரி. ஆனால் (R) தவறு  
(D) (A) மற்றும் (R) இரண்டும் தவறு. மேலும் (R) என்பது (A) விற்கு தவறான விளக்கம்



## TNPSC VAO - General Tamil - 2012

(b) முப்பது கோடி

- முகமுடையான் உயிர்  
மொய்ப்புற ஒன்றுடையான் 2.நாமக்கல் கவிஞர்

(c) எங்கள் பகைவர் எங்கோ  
மறைந்தார் இங்குள்ள  
தமிழர்கள் ஒன்றாதல் கண்டே3. பாரதியார்

(d) மங்கையாராய் பிறப்பதற்கே  
நல்ல மாதவம் செய்திட  
வேண்டும்மா 4. பாரதிதாசன்

- (a) (b) (c) (d)  
(A) 1 4 2 3  
(B) 3 1 2 4  
(C) 2 3 4 1  
(D) 4 2 3 1

28. கீழ்க்கண்டவற்றுள் சரியானது எது?

- (A) வாணிதாசன் - கொடியமுல்லை  
(B) கண்ணதாசன் - எழிலோவியம்  
(C) சுத்தானந்த பாரதியார் - தைப்பாவை  
(D) முடியரசன் - பாரதசக்தி மகாகாவியம்

29. அகர வரிசைப்படி சொற்களை சீர் செய்ய்க :

- (A) அது, அஃது, ஐந்து, எதுகை  
(B) அஃது, அது, எதுகை, ஐந்து  
(C) அஃது, எதுகை, அது, ஐந்து  
(D) எதுகை, அஃது, ஐந்து, அது

30. பிரித்தெழுதுக : கழற்கன்பு

- (A) கழல் + அன்பு (B) கழற்கு + அன்பு  
(C) கழள் + அன்பு (D) கழன் + அன்பு

31. ஒலி வேறுபாடு அறிந்து சரியான பொருளை தேர்க.

- அலரி** **அலரி**  
(A) விரிந்து - கூவி  
(B) பூ - கூச்சம்  
(C) ஒருவகைச் செடி - பயந்து  
(D) பயம் - கூச்சல்

32. எவ்வகை வாக்கியம்?

'நான் நாளை மதுரை செல்வேன்' என்று நன்மாறன் கூறினான். குடியரசு தலைவர் சென்னைக்கு வருகைத் தந்தார். அனைவரும் தாய்மொழியைப் போற்றுக.

- (A) அயற்கூற்று வாக்கியம், வினா வாக்கியம், செய்தி வாக்கியம்  
(B) நேர்கூற்று வாக்கியம், உடன்பாட்டு வாக்கியம், செய்தி வாக்கியம்  
(C) நேர்கூற்று வாக்கியம், செய்தி வாக்கியம், கட்டளை வாக்கியம்  
(D) கட்டளை வாக்கியம், செய்தி வாக்கியம், அயற்கூற்று வாக்கியம்

33. எது செய்தி வாக்கியம் இல்லை?

- (A) மாணவர்கள் சிறந்த முறையில் தேர்வு எழுதினர்  
(B) குடியரசுத் தலைவர் சென்னைக்கு வருகை தந்தார்  
(C) மாணவர்கள் சீருடையில் பள்ளிக்கு வருக  
(D) திருக்குறளை எழுதியவர் திருவள்ளூர்

34. உணர்ச்சி வாக்கியம் குறித்து கீழ்க்கண்டவற்றுள் சரியானது எது?

- (A) மகிழ்ச்சி , துன்பம், வியப்பு போன்ற உள்ளத்து உணர்வுகள் வெளிப்படுமாறு அமைவது



## TNPSC VAO - General Tamil - 2012

- (B) ஒரு செய்தியைத் தெளிவாகத் தெரிவிக்கும் வாக்கியம்  
(C) வினாப்பொருள் தரும் வாக்கியம்  
(D) தனி வாக்கியங்கள் பல தொடர்ந்து வருவது

35. தன் வினை வாக்கியத்தைக் கண்டறிக :

- (A) பரிதிமாற் கலைஞர் வடமொழியும், தமிழும் பயின்றார்  
(B) பரிதிமாற் கலைஞர் வடமொழியும், தமிழும் பயிற்றுவித்தார்  
(C) பரிதிமாற் கலைஞர் வடமொழியும், தமிழும் பயிலார்  
(D) பரிதிமாற் கலைஞரால் வடமொழியும், தமிழும் பயிற்றுவிக்கப்பட்டது

36. மாமேதை என இந்திய சட்டத்துறையில் அழைக்கப்பெற்றவர்

- (A) காந்தியடிகள் (B) நேரு  
(C) அம்பேத்கார் (D) இராஜாஜி

37. வேதனையில் சிக்காத

- (A) கரையான் புற்றெடுக்கக் கருநாகம் குடி புகுந்தது போல  
(B) இஞ்சி தின்ற குரங்கு போல  
(C) ஆப்பசைத்த குரங்கு போல  
(D) உடும்புப் பிடி போல

38. வினா வாக்கியம் குறித்து கீழ்க்கண்டவற்றுள் சரியானது எது?

- (A) வினாப்பொருள் தரும் வாக்கியம்  
(B) ஓர் எழுவாய் அல்லது ஒன்றுக்கு மேற்பட்ட எழுவாய் ஒரு பயனிலையைக் கொண்டு முடியும்  
(C) ஒரு செய்தியைத் தெளிவாக தெரிவிக்கும் வாக்கியம்  
(D) ஒன்றுக்கு மேற்பட்ட துணை வாக்கியங்களுடன் சேர்ந்து வரும்

39. பொருத்துக :

நூல்	ஆசிரியர்
(a) பார்த்திபன் கனவு	1. சூரதா
(b) தமிழ்ச்சோலை	2. வைரமுத்து
(c) தேன்மழை	3. கல்கி
(d) கள்ளிக்காட்டு	4. திரு. வி. க.
இதிகாசம்	
(a) (b) (c) (d)	
(A) 2 3 4 1	
(B) 3 4 1 2	
(C) 4 2 1 3	
(D) 1 4 2 3	

40. பொருத்துக :

(a) முதல் மூன்று தேவாரத் திருமுறைகள்	1. திருநாவுக்கரசர்
(b) 4, 5, 6 - ஆம் திருமுறைகள்	2. ஆண்டாள்
(c) ஏழாம் திருமுறை	3. திருஞானசம்பந்தர்
(d) திருப்பாவை	4. சுந்தரர்
(a) (b) (c) (d)	
(A) 3 1 4 2	
(B) 2 4 1 3	
(C) 4 3 2 1	
(D) 1 2 4 3	

41. சரியான மரபுத் தொடரைத் தேர்வு செய்க :

- கற்குவியல் அருகே சாவிக்கொத்து கிடந்தது
  - கற்கூட்டம் அருகே சாவிக்குவியல் கிடந்தது
  - வேலங்காடு அருகே மாட்டு மந்தையைப் பார்த்தேன்
  - வேலங்காடு அருகே மாட்டுக் கூட்டத்தைப் பார்த்தேன்
- (A) 1 மற்றும் 3 (B) 1 மற்றும் 4  
(C) 2 மற்றும் 4 (D) 1 மற்றும் 2



## TNPSC VAO - General Tamil - 2012

42. பொருத்துக :

- (a) கபிலரால் குறிஞ்சிப்பாட்டு இயற்றப்பட்டது  
1. உணர்ச்சி வாக்கியம்  
(b) குறிஞ்சிப்பாட்டைக் கபிலர் எழுதினார்  
2. வினா வாக்கியம்  
(c) என்னே! குறிஞ்சிப்பாட்டின் சுவை!  
3. செய்ப்பாட்டு வினை  
(d) குறிஞ்சிப்பாட்டைக் கபிலர் எழுதினாரா?  
4. செய் வினை
- |                 |
|-----------------|
| (a) (b) (c) (d) |
| (A) 3 4 1 2     |
| (B) 1 2 3 4     |
| (C) 2 3 4 1     |
| (D) 4 3 2 1     |

43. ஒலி வேறுபாடு அறிந்து சரியான பொருளை தேர்க.

தலை	தளை
(A) முகம்	- முதல்
(B) உறுப்பு	- கட்டு
(C) மூடி	- சேர்த்தல்
(D) காதுகள்	- ஒருமை

44. பிறமொழிச் சொற்களற்ற வாக்கியத்தைத் தேர்வு செய்க :

- (A) அங்கத்தினர் கவனம் ஆராதனையில் இல்லை  
(B) உறுப்பினர் கவனம் வழிபாட்டில் இல்லை  
(C) கிராமத்தில் அபூர்வமான விரதம் இருந்தான்  
(D) சிற்றூரில் புதுமையான நோன்பு இருந்தான்

45. கொடுக்கப்பட்டுள்ள குறட்பாவில் அடிக் கோட்டிச் சொற்களுக்குப் பொருத்தமான இலக்கணக் குறிப்புகள் தேர்க :

அருமை உடைத்தென்று அசாவாமை வேண்டும் பெருமை முயற்சி தரும்.

- (A) முற்றும்மை, பலர்பால் வினைமுற்று  
(B) வியங்கோள் வினைமுற்று, தொழிற்பெயர்  
(C) முற்றும்மை, குறிப்பு வினைமுற்று  
(D) சிறப்புமை, வியங்கோள் வினைமுற்று

46. எது தனிவாக்கியம் இல்லை?

- (A) திரு. வி. க. பெண்களைப் போற்றினார்  
(B) கம்பன், வள்ளுவன், இளங்கோ ஆகியோர் இயற்கையைப் போற்றினர்  
(C) முருகன், கந்தன், வேலன் ஆகியோர் மதுரைக்கு சென்றனர்  
(D) அரசன் புலவரைக் கண்டான். அவரை வரவேற்றான். பரிசு வழங்கினான்

47. செய்யாமற் செய்த உதவிக்கு வையகமும்

- வானகமும் ஆற்றல் அரிது - பின்வரும் இலக்கணக் குறிப்பில் எது இக்குறளுக்குப் பொருத்தியுள்ளது?  
(A) எண்ணும்மை (B) சொல்லிசை அளபெடை  
(C) முற்றும்மை (D) உம்மைத்தொகை

48. எது எதிர்ச்சொல்?

- மிகைநாடி மிக்கச் செயல்"  
(A) மிகை x மிக்க (B) குற்றம் x நாடி  
(C) குணம் x குற்றம் (D) மிக்க x செயல்

49. 'ஒருமை-பன்மை' - பிழைகளற்ற

- வாக்கியங்களைக் கண்டறிக :  
1. என் எழுதுகோல் இதுவல்ல  
2. என் எழுதுகோல் இதுவன்று  
3. உடைகள் கிழிந்துவிட்டது  
4. உடைகள் கிழிந்துவிட்டன  
(A) 1 மற்றும் 3 (B) 2 மற்றும் 4  
(C) 3 மற்றும் 4 (D) 1 மற்றும் 4

**TNPSC****VAO - General Tamil - 2012**

50. கீழ்க்கண்டவற்றுள் தொடர் வாக்கியம் குறித்து சரியானது எது?  
 (A) தனி வாக்கியங்கள் பல தொடர்ந்து வரும் ஓர் எழுவாய். புல பயனிலைகளைப் பெற்று வரும்  
 (B) மகிழ்ச்சி, துன்பம், வியப்பு போன்ற உள்ளத்து உணர்வுகள் வெளிப்படு மாறு அமைவது  
 (C) வினாப் பொருள் தரும் வாக்கியம்  
 (D) ஒரு செய்தியைத் தெளிவாகத் தெரிவிக்கும் வாக்கியம்

51. பின்வருவனவற்றில் எது நாமக்கல் வெ. இராமலிங்கம் பிள்ளை அவர்களின் நூல் அன்று?  
 (A) சந்தனப் பேழை (B) சங்கொலி  
 (C) அவனும் அவளும் (D) தமிழன் இதயம்

52. "மதிமன்னும் மாயவன் வாள்துக்கும் கதிர்சேர்ந்த ரூயிறு சக்கரம் ஒக்கும்" - மேற்கண்ட பாடலில் அமைந்துள்ள தொடைகளின் அடிப்படையில் எது சரியான கூற்று?  
 (A) அடி எதுகை வந்துள்ளது  
 (B) சீர் எதுகை வந்துள்ளது  
 (C) அடியெதுகையும் அடிஇயையும் வந்துள்ளது  
 (D) சீர்மோனை மட்டும் வந்துள்ளது

53. Diligence - என்ற ஆங்கிலச் சொல்லுக்கு கீழ்க்காணும் விடைகளில் எது தவறானது?  
 (A) உழைப்பு (B) சிரத்தை  
 (C) ஊக்கம் (D) அக்கறை

54. பொருந்தா இணையைக் கண்டறிக :  
 (A) தண் - குளிர்  
 (B) கார் - கருமை  
 (C) மறு - குற்றம்  
 (D) வீறு - விளக்கு

55. பொருந்தா இணையைக் கண்டறிக :  
 (A) Illusion - மெய் தோற்றம்  
 (B) Illumine - வெளிச்சமாக்கு  
 (C) Ill-will - கெட்ட எண்ணம்  
 (D) Image - பிரதிமை
56. வாக்கிய அமைப்பினைக் கண்டறிக :  
 மாணவர்கள் சீருடையில் பள்ளிக்கு வருக - எவ்வகை வாக்கியம் எனச் சுட்டுக.  
 (A) சுட்டளை வாக்கியம்  
 (B) உடன்பாட்டு வாக்கியம்  
 (C) உணர்ச்சி வாக்கியம்  
 (D) செய்தி வாக்கியம்

57. செய்ப்பாட்டு வினைச் சொற்றொடரைக் கண்டறிக :  
 (A) நாடகக் கலைஞர்கள் நாட்டுப்பற்றை வளர்த்தனர்  
 (B) நாட்டுப்பற்று நாடகக் கலைஞர்களால் வளர்க்கப்பட்டது  
 (C) வளர்த்தனர் நாட்டுப்பற்றை நாடகக் கலைஞர்கள்  
 (D) நாட்டுப்பற்றை நாடகக் கலைஞர் வளர்ப்பார்

58. பொருந்தா இணையைக் கண்டறிக :  
 (A) கொண்டல் - கிழக்கினின்றும் வீசும்  
 (B) தென்றல் - தெற்கினின்றும் வீசும்  
 (C) புயல் - மேற்கிலிருந்து வீசும்  
 (D) வாடை - வடக்கினின்றும் வீசும்

59. வரிசைப்படுத்துக :  
 (A) மிளகு, சுக்கு, திப்பிலி, திரிகடுகம்  
 (B) திப்பிலி, மிளகு, சுக்கு, திரிகடுகம்  
 (C) திரிகடுகம், சுக்கு, மிளகு, திப்பிலி  
 (D) திப்பிலி, சுக்கு, மிளகு, திரிகடுகம்

**TNPSC****VAO - General Tamil - 2012**

60. சொற்களை ஒழுங்குபடுத்தி சொற்றொடராக்குதல். கீழ்க்கண்டவற்றில் எது சரியானது?  
 (A) பொழுது சேவல் விழித்தான் கண் கூவி விடிந்தது  
 (B) பொழுது சேவல் கூவி விடிந்து கண் விழித்தான்  
 (C) சேவல் கூவி பொழுது விடிந்து விழித்தான் கண்  
 (D) சேவல் கூவி பொழுது விடிந்து கண் விழித்தான்

61. ஒருமை பன்மை பிழையற்ற வாக்கியத்தைக் கண்டறிக :  
 (A) புலி வந்தன எருதுகள் ஓடியது  
 (B) அதுகள் இங்கே உள்ளது  
 (C) மாமரம் பூத்துக் காய்த்துக் கனிந்து குலுங்கியது  
 (D) தமிழ்நாட்டு அணி போட்டியில் வென்றன

62. 'நல்லதாய் தந்தைஏவ நானிது செய்யபெற்றேனென்று' - இப்பாடல் வரியில் உம்மைத் தொகை இடம்பெற்றுள்ள சொற்றொடர் எது?  
 (A) நானிது (B) பெற்றேனென்று  
 (C) தந்தைஏவ (D) நல்ல தாய் தந்தை

63. பெயர்ச்சொல்லின் வகையறிக : "வாழ்க்கை"  
 (A) பண்புப்பெயர் (B) காலப்பெயர்  
 (C) இடப்பெயர் (D) தொழிற்பெயர்

64. பொருத்துக :  
 (a) மக்கள் பெரியாரைப் போற்றுகின்றனர்  
 1. செய்தி வாக்கியம்  
 (b) பெரியார் மக்களால் போற்றப்படுகின்றார்  
 2. உணர்ச்சி வாக்கியம்

- (c) என்னே! பெரியாரின் பொதுநலத் தொண்டு செய்வனை  
 (d) பெரியாரை அனைத்து மக்களும் போற்றுவர்  
 4.செய்ப்பாட்டு வினை  
 (a) (b) (c) (d)  
 (A) 1 2 3 4  
 (B) 2 1 4 3  
 (C) 3 4 2 1  
 (D) 4 2 3 1

65. "ஒன்றாமை ஒன்றியார் கண்படிவன் எஞ்ஞான்றும் பொன்றாமை ஒன்றல் அரிது" - இக்குறளில் அடி எதுகை எது?  
 (A) ஒன்றாமை - ஒன்றியார்  
 (B) கண்படிவன் - எஞ்ஞான்றும்  
 (C) பொன்றாமை - ஒன்றல்  
 (D) ஒன்றாமை - பொன்றாமை

66. "சுற்றத்தாற் சுற்றப் படவொழுகல் செல்வந்தான் பெற்றத்தாற் பெற்ற பயன்" - இக்குறளில் இணைமோனையாக அமைவது எது?  
 (A) சுற்றத்தால் - சுற்ற  
 (B) பெற்றத்தால் - பெற்ற  
 (C) பெற்ற - பயன்  
 (D) சுற்ற - செல்வந்தான்

67. பின்வரும் இலக்கணக் குறிப்புக்குப் பொருந்தாத சொல்லைக் கண்டறிக : 'உருவகம்'  
 (A) நூற்கடல் (B) நாண்வேலி  
 (C) மரப்பாவை (D) கற்பகக் கனி

68. பெயர்ச்சொல்லின் வகை எதுவென அறிக : "இவள்"  
 (A) குடிப்பெயர் (B) சினைப்பெயர்  
 (C) காலப்பெயர் (D) சுட்டுப்பெயர்



TNPSC

VAO - General Tamil - 2012

69. "தாமரை" பெயர்ச்சொல்லின் வகை அறிக  
 (A) சினைப்பெயர் (B) குணப்பெயர்  
 (C) காலப்பெயர் (D) பொருள்பெயர்

70. பண்புப்பெயர்ச்சொல்லினை பொருத்துக :  
 (a) செம்மை 1. சுவைப்பண்பு  
 (b) கூம்பு 2. நிறப்பண்பு  
 (c) கிலோமீட்டர் 3. வடிவப்பண்பு  
 (d) காரம் 4. அளவுப்பண்பு  
 (a) (b) (c) (d)  
 (A) 2 3 4 1  
 (B) 3 4 1 2  
 (C) 1 3 4 2  
 (D) 4 3 1 2

71. சொற்களை ஒழுங்குபடுத்தி சொற் றொடராக்குதல், கீழ்க்கண்டவற்றில் எது சரியானது?  
 (A) துலங்கிடும் குளிர்ந்த பார்வை துரும்பென மெலிந்த தேகம்  
 (B) குளிர்ந்த பார்வை துலங்கிடும் துரும்பென மெலிந்த தேகம்  
 (C) துரும்பென மெலிந்த தேகம் துலங்கிடும் குளிர்ந்த பார்வை  
 (D) துரும்பென துலங்கிடும் தேகம் மெலிந்த குளிர்ந்த பார்வை

72. சொற்களை ஒழுங்குபடுத்தி சொற் றொடராக்குதல் கீழ்க்கண்டவற்றில் எது சரியானது?  
 (A) புலப்படுத்தியுள்ளார் நுட்பமான இசையின் இலக்கணத்தை  
 (B) இசையின் புலப்படுத்தியுள்ளார் இலக்கணத்தை நுட்பமான  
 (C) இசையின் நுட்பமான இலக்கணத்தைப் புலப்படுத்தியுள்ளார்  
 (D) நுட்பமான இசையின் புலப்படுத்தி உள்ளார் இலக்கணத்தை

73. சொற்களை ஒழுங்குபடுத்தி சொற் றொடராக்குதல். கீழ்க்கண்டவற்றில் எது சரியானது?  
 (A) கல்வியில் புதுப்புதுத் துறைகள் நாள்தோறும் உருவாகிக் கொண்டே வருகின்றன  
 (B) நாள்தோறும் கல்வியில் புதுப்புதுத் துறைகள் உருவாகிக் கொண்டே வருகின்றன  
 (C) நாள்தோறும் புதுப்புதுத் துறைகள் கல்வியில் உருவாகிக் கொண்டே வருகின்றன  
 (D) புதுப்புதுத் துறைகள் நாள்தோறும் கல்வியில் உருவாகிக் கொண்டே வருகின்றன

74. பின்வரும் இலக்கணக் குறிப்புக்குப் பொருந்தாத சொல்லைக் கண்டறிக :  
 'ஒரு பொருட் பன்மொழி'  
 (A) காத்தோம்பல் (B) வளர்சோலை  
 (C) ஒரு தனி (D) இளஞ்சிறுமிகள்

75. பொருந்தா இணையைக் கண்டறிக :  
 (A) மனப்பால் குடித்தல் - கற்பனை செய்தல்  
 (B) மதில்மேல் பூனை - நிச்சயம் இல்லாமை  
 (C) தாளம் போடுகிறான் - இன்பப்படுகிறான்  
 (D) கங்கு கரையில்லை - எல்லையில்லை

76. பொருந்தா இணையைக் கண்டறிக :  
 (A) புந்தி - பூங்கா  
 (B) கான் - அடவி  
 (C) படிற்று - வஞ்சம்  
 (D) வேணி - சடை

77. விடைக்கேற்ற வினாவைத் தேர்க :  
 "கூடலில் ஆய்ந்த ஒண்தீந் தமிழின்"  
 (A) கூடல் நகரம் எங்குள்ளது?  
 (B) கூடல் மாநகரின் சிறப்பு என்ன?  
 (C) தமிழினால் ஏற்பட்டுள்ள பயனைக் கூறு  
 (D) தமிழாய்வு எங்கு நடைபெற்றது?



TNPSC

VAO - General Tamil - 2012

78. பிரித்தெழுதுக : பிணிநோயுற்றோர்  
 (A) பிணிநோய் + உற்றோர்  
 (B) பிணி + நோய் + உற்றோர்  
 (C) பிணி + நோயுற்று + ஓர்  
 (D) பிணி + நோயுற்றோர்
- (b)வினா வாக்கியம் 2.பாலு கந்தனை வணங்கினான்  
 (c)கட்டளை வாக்கியம் 3.குழந்தைக்கு என்ன தெரியும்?  
 (d)கலவை வாக்கியம் 4.எழுந்து நில்!

79. அகர வரிசைப்படி சொற்களை சீர் செய்க.  
 (a) (b) (c) (d)  
 (A) பூண், பாண், ஞாண், ஊண்  
 (B) பாண், பூண், ஊண், ஞாண்  
 (C) ஊண், ஞாண், பாண், பூண்  
 (D) ஞாண், ஊண், பூண், பாண்

80. சொற்களை ஒழுங்குபடுத்தி சொற்றொடராக்குதல்:  
 (A) பண்பு எனப்படுவது பாடறிந்து ஒழுக்குதல்  
 (B) பாடறிந்து ஒழுக்குதல் எனப்படுவது பண்பு  
 (C) ஒழுக்குதல் எனப்படுவது பாடறிந்த பண்பு  
 (D) பாடறிந்து பண்பு எனப்படுவது ஒழுக்குதல்
83. பின்வரும் இலக்கணக் குறிப்புக்குப் பொருந்தாத சொல்லைக் கண்டறிக : 'பெயரெச்சம்'  
 (A) ஆன்ற (B) புரிந்த  
 (C) புக்கு (D) நீங்கிய

81. எது கலவை வாக்கியம் இல்லை?  
 (A) யார் கல்விச் செல்வம் பெறுகிறார்களோ அவர்கள் வாழ்வில் வளம் பெறுவர்  
 (B) பவானி அயராது படித்ததால் வாழ்க்கையில் வளம் பலபெற்று வெற்றி வாகைச் சூடினார்  
 (C) காயத்ரி லஷ்மி அறிவியல் புத்தகங்களைப் படித்ததால் விஞ்ஞானியாகத் திகழ்கிறார்  
 (D) முதல்வர் டில்லிக்குச் செல்கிறார்
84. இலக்கணக் குறிப்புச் சொல்லைத் தேர்க :  
 'உம்மைத் தொகை'  
 (A) குணக்குறி (B) முழங்கு முரசு  
 (C) பொருபுலி (D) நாநலம்

85. ஒருமை-பன்மை பிழைகளற்ற வாக்கியங் களைக் கண்டறிக :  
 1. ஒவ்வொரு ஊர்களிலும் தொலைக்காட்சிப் பெட்டி உள்ளது  
 2. தொல்காப்பியம் என்ற இலக்கண நூல் தொன்மையானது  
 3. ஒவ்வொரு ஊரிலும் தொலைக்காட்சிப் பெட்டி உள்ளது  
 4. தொல்காப்பியம் எனும் இலக்கண நூல் தொன்மையானது  
 (A) 1 மற்றும் 4 (B) 2 மற்றும் 4  
 (C) 3 மற்றும் 4 (D) 1 மற்றும் 3
82. பட்டியல் I ஐ பட்டியல் II உடன் பொருத்தி, கீழே கொடுக்கப்பட்டுள்ள குறியீடுகளைக் கொண்டு சரியான விடையைத் தேர்ந்தெடு :  
 பட்டியல் I பட்டியல் II  
 (a)தனிவாக்கியம் 1.யார் கல்விச் செல்வம் பெறுகிறார்களோ அவர்கள் வாழ்வு வளம் பெறும்





## TNPSC VAO - General Tamil - 2012

86. சந்திப் பிழை இல்லாத தொடரைத் தேர் :

- (A) அன்பெனப் படுவது தன்கிளைச் செறாமை  
(B) அன்பென படுவது தன்கிளை செறாமை  
(C) பொறையெனப் படுவது போற்றாரைப் பொறுத்தல்  
(D) பொறையென படுவது போற்றாரைப் பொறுத்தல்

87. இயல் - என்னும் வேர்ச்சொல்லின் வினை எச்சத்தை தேர்ந்தெடுக :

- (A) இயன்ற (B) இயல்க  
(C) இயன்ற (D) இயலல்

88. விடைக்கேற்ற வினாவைத் தேர் :

- பொறியின்மை யார்க்கும் பழியன்று அறிவறிந்து ஆள்வினை இன்மை பழி  
(A) ஆள்வினை இன்மை எது?  
(B) ஆள்வினை பொருள் தருக  
(C) ஆள்வினையால் வரும் பெருமை எது?  
(D) ஆள்வினை இன்மையால் என்ன நேரும்?

89. 'உயிரளபெடையின்' வகைகள் - எத்தனை?

- (A) இரண்டு (B) மூன்று  
(C) நான்கு (D) ஐந்து

90. பொருத்துக :

- |               |                     |
|---------------|---------------------|
| (a) Digest    | 1. விரல் சம்பந்தமான |
| (b) Digestion | 2. சுருக்கம்        |
| (c) Digit     | 3. ஜீரணமாதல்        |
| (d) Digital   | 4. விரவிடை          |
- |       |     |     |     |
|-------|-----|-----|-----|
| (a)   | (b) | (c) | (d) |
| (A) 4 | 3   | 2   | 1   |
| (B) 3 | 4   | 2   | 1   |
| (C) 1 | 3   | 4   | 2   |
| (D) 2 | 3   | 4   | 1   |

91. விடைக்கேற்ற வினாவைத் தேர் :

- "தீங்குடை மனப்போக்கர் வாழும் நாட்டில் தென்படுமோ மொழியுணர்ச்சி"  
(A) மொழியுணர்ச்சி எங்கு தென்படாது?  
(B) தீங்குடை மனப்போக்கர் யார்?  
(C) மனப்போக்கு யாருக்குச் சரியாக இருக்க வேண்டும்?  
(D) மொழியுணர்ச்சியால் வரும் பயன் என்ன?

92. விடைக்கேற்ற வினாவைத் தேர் :

- "நீடிய பிணியால் வருந்துகின்றோர் என் நேர்உறக் கண்டுளந் துடித்தேன்"  
(A) நீடிய பிணி எது?  
(B) நேர் உறக் கண்டால் என்னவாகும்?  
(C) நீடிய பிணி ஏன் வருகிறது?  
(D) யாரைக் கண்டு உள்ளம் துடிக்கிறது?

93. சிறுகதை அமைப்புடன் முதலில் தோன்றிய சிறுகதை நூல் எது?

- (A) மங்கையர்க்கரசியின் காதல் முதலிய கதைகள்  
(B) குளத்தங்கரை அரசமரம் சொன்ன கதை  
(C) பஞ்ச தந்திரக் கதைகள்  
(D) அபிநவக் கதை

94. புரட்சித் துறவி என அழைக்கப்படுபவர்

- (A) இளங்கோவடிகள் (B) மணிமேகலை  
(C) விவேகானந்தர் (D) இராமலிங்கம்

95. 'பிஞ்சிலே பழுத்தது போல' - உவமைத் தொடருக்குப் பொருத்தமான பொருளை எழுதுக.

- (A) திட்டமிடாமை  
(B) அறிவு சிறப்புடன் சிறு வயதிலேயே இருத்தல்  
(C) முதிர்ச்சியின்மை  
(D) பிறர்மேல் ஆளுமை செலுத்தல்



## TNPSC VAO - General Tamil - 2012

96. எது தவறு?

- (A) ஓட்டைச் சட்டியானாலும் இனிக்கும்  
(B) பட்ட காலில் படும், கெட்ட குடியே கெடும்  
(C) அன்பான நண்பனை ஆபத்தில் அறி  
(D) மரணம் நாட்காட்டி பார்க்காது

97. கொடுக்கப்பட்டுள்ள குறட்பாவில் அடிக்கோடிட்டச் சொற்களுக்குப் பொருத்தமான இலக்கணக் குறிப்புகள் தேர் :

- ஆக்கமுங் கேடும் அதனால் வருதலால் காத்தோம்பல் சொல்லின்கண் சோர்வு.  
(A) முற்றும்மை, ஒரு பொருட்பன்மொழி, வினைத்தொகை  
(B) பண்புத்தொகை, ஒரு பொருட்பன்மொழி, பெயரெச்சம்  
(C) முதனிலைத் திரிந்த தொழிற்பெயர், ஒருபொருட் பன்மொழி, தொழிற்பெயர்  
(D) முதனிலைத் திரிந்த தொழிற்பெயர், வினைத்தொகை, தொழிற்பெயர்

98. விடைக்கேற்ற வினாவைத் தேர் :

- "குழவி பிணியின்றி வாழ்தல் இனிதே"  
(A) குழவிக்கு என்ன வேண்டும்?  
(B) குழவிக்கு இனிதாவது யாது?  
(C) பிணியின்றி வாழ்தல் இனிதா?  
(D) இனிமையான வாழ்வு எது?

99. "மடநடை மஞ்சை அகவ கடல்முகந்து" - இத்தொடரில் அமைந்துள்ள தொடைகளின்படி பின்வருவனவற்றுள் எது சரியான கூற்று?

- (A) இத்தொடரில் சீர்மோனை வந்துள்ளது  
(B) இத்தொடரில் சீர்யெதுகை வந்துள்ளது  
(C) இத்தொடரில் சீர்மோனையும் சீர்எதுகையும் வந்துள்ளன  
(D) இத்தொடரில் அடிமோனையும் அடிஎதுகையும் வந்துள்ளன



101. Find out the odd word (Noun).  
 (A) splendid (B) splendidly  
 (C) splendour (D) splendent
102. Find out the odd word (Verb).  
 (A) Fame (B) Familiar  
 (C) Familiarity (D) Familiarize
103. Fill in the blanks with suitable tense form.  
 I \_\_\_\_\_ so many interruptions  
 this morning that I scarcely \_\_\_\_\_  
 any work  
 (A) had had, have done  
 (B) have had, had done  
 (C) has had, had done  
 (D) had had, did
104. Find out the odd word-adverb.  
 (A) Joy (B) Jouflul  
 (C) Joyousness (D) Joyously
105. Fill in the blanks with the correct tense form.  
 Though they \_\_\_\_\_ not happy with  
 the service of the hotel, they \_\_\_\_\_  
 quiet.  
 (A) are, kept (B) were, kept  
 (C) had, were keeping (D) were, had kept
106. Which one the following is a correct  
 sentence?  
 (A) Edison discovered electricity  
 (B) Edison was invented electricity  
 (C) Edison invented electricity  
 (D) Edison invented by electricity

107. Give the suitable order of articles in the  
 blanks of the given passage. Choose the correct  
 code given below.  
 Rahim read \_\_\_\_\_ interesting story  
 in a library about \_\_\_\_\_ "Previce  
 and Giant". \_\_\_\_\_ story had  
 \_\_\_\_\_ good moral in it.  
 (A) a, a, the, a (B) an, the, a, the  
 (C) an, a, a, the (D) an, the, the, a
108. Give the suitable order of articles in the  
 blanks of the given passage. Choose the correct  
 code given below.  
 \_\_\_\_\_ certain dove by name Chitrani  
 had built \_\_\_\_\_ nest on \_\_\_\_\_  
 top of \_\_\_\_\_ big mountain.  
 (A) a, a, the, a (B) a, the, a, the  
 (C) the, a, a, the (D) a, the, a, a
109. Give the suitable order of articles in the  
 blanks of the given passage. Choose the correct  
 code given below.  
 Tauson sang \_\_\_\_\_ song. It was  
 \_\_\_\_\_ song of fire. It was in deepak  
 rag. \_\_\_\_\_ emperor listened to  
 \_\_\_\_\_ song.  
 (A) a, the, an, a (B) a, a, the, the  
 (C) a, the, an, the (D) the, the, an, a
110. Find out the appropriate comparative degree  
 for the following sentence.  
 pallava architecture is the most intrinsic one.  
 (A) pallava architecture is a more intrinsic one  
 (B) pallava architecture is more intrinsic than  
 any other architecture  
 (C) pallava had more intrinsic architecture  
 (D) pallavas architecture is more intrinsic than  
 most other architecture



111. Choose the correct synonym of the underlined  
 word.  
 The nerves form an astoundingly intricate  
 network carrying message to all parts of our  
 body.  
 (A) delicate (B) appreciate  
 (C) participate (D) complicated
112. Match the following synonyms from Column A  
 with Column B and select the correct answer  
 from the given codes.
- |                 |                 |
|-----------------|-----------------|
| <b>Column A</b> | <b>Column B</b> |
| (a) Existence   | 1. Feeds        |
| (b) Alert       | 2. Lucky        |
| (c) Fortunate   | 3. Attentive    |
| (d) Nourishes   | 4. Living       |
- |       |     |     |     |
|-------|-----|-----|-----|
| (a)   | (b) | (c) | (d) |
| (A) 4 | 3   | 2   | 1   |
| (B) 2 | 4   | 1   | 3   |
| (C) 3 | 1   | 4   | 2   |
| (D) 4 | 3   | 1   | 2   |
113. Homophones:  
 Match the Homophones with their related  
 meanings and select the answer from the codes  
 given below:
- |            |                    |
|------------|--------------------|
| (a) Former | 1. Organized       |
| (b) Flower | 2. Agriculturist   |
| (c) Formal | 3. First Mentioned |
| (d) Farmer | 4. Part of a plant |
- |       |     |     |     |
|-------|-----|-----|-----|
| (a)   | (b) | (c) | (d) |
| (A) 1 | 4   | 3   | 2   |
| (B) 3 | 4   | 1   | 2   |
| (C) 4 | 3   | 2   | 1   |
| (D) 3 | 2   | 1   | 4   |
114. Match the followings:
- |             |          |
|-------------|----------|
| (a) Fellow  | 1. ian   |
| (b) Grammar | 2. le    |
| (c) Gold    | 3. ship  |
| (d) stone   | 4. heart |
|             | 5. en    |
- |       |     |     |     |
|-------|-----|-----|-----|
| (a)   | (b) | (c) | (d) |
| (A) 3 | 1   | 5   | 2   |
| (B) 3 | 4   | 5   | 1   |
| (C) 3 | 1   | 5   | 4   |
| (D) 3 | 1   | 4   | 5   |
115. Find out the odd.
- |                 |               |
|-----------------|---------------|
| 1. Antibiotic   | 2. Antisocial |
| 3. Antiphonetic | 4. Antithesis |
- |       |       |       |       |
|-------|-------|-------|-------|
| (A) 4 | (B) 3 | (C) 1 | (D) 2 |
|-------|-------|-------|-------|
116. Choose the correct synonym of the  
 underlined word from the options given below:  
 The sheep would shudder.  
 (A) folder (B) shiver  
 (C) shower (D) sober
117. Which of the following plural form is not  
 correct?  
 Match the Homophones with their related  
 meanings and select the answer from the codes  
 given below:
- |                 |             |
|-----------------|-------------|
| (A) Chiefs      | (B) Peaches |
| (C) Passers-bys | (D) duties  |
118. Match the statements given in Column A with  
 the given question tags in Column B and select  
 the correct answer from the codes given below.
- |                                 |                 |
|---------------------------------|-----------------|
| <b>Column A</b>                 | <b>Column B</b> |
| (a) I suppose she knows Bengali | 1. does she?    |
| (b) Manoj likes icecream        | 2. doesn't he?  |
| (c) Kala doesn't like fish      | 3. does he?     |
| (d) Kannan likes apples         | 4. doesn't she? |



TNPSC

VAO - GENERAL ENGLISH - 2012

- |       |     |     |     |
|-------|-----|-----|-----|
| (a)   | (b) | (c) | (d) |
| (A) 1 | 3   | 4   | 2   |
| (B) 4 | 2   | 1   | 2   |
| (C) 3 | 4   | 2   | 1   |
| (D) 1 | 2   | 4   | 2   |

119. Match the following phrases given in Column A with their meaning in Column B.

Column A	Column B
(a) Go crazy	1. Transport
(b) Send off	2. Attend
(c) Come back	3. Becomemad
(d) Take care of	4. Return

(a)	(b)	(c)	(d)
(A) 4	3	2	1
(B) 2	4	1	3
(C) 3	2	4	1
(D) 1	3	2	4

120. Find the odd sentence which does not belong to the same sentence pattern.

121. Match the following phrases/idioms given in Column A with their meaning in Column B.

Column A	Column B
(a) wipe out	1. Nonsense
(b) Turn off	2. To deal with something
(c) See about	3. Destroy
(d) Double-Dutch	4. Switch off

- |       |     |     |     |
|-------|-----|-----|-----|
| (a)   | (b) | (c) | (d) |
| (A) 3 | 4   | 2   | 1   |
| (B) 3 | 2   | 4   | 1   |
| (C) 3 | 1   | 2   | 4   |
| (D) 1 | 4   | 2   | 3   |

122. Match the following Homophones with their related meanings, and choose the correct answer from the codes given below:

Homophones	Meanings
(a) Ryot	1. Uproar
(b) Rite	2. Amount
(c) Rate	3. Religious ceremony
(d) Riot	4. Farmer

- |       |     |     |     |
|-------|-----|-----|-----|
| (a)   | (b) | (c) | (d) |
| (A) 2 | 1   | 4   | 3   |
| (B) 4 | 3   | 1   | 2   |
| (C) 4 | 3   | 2   | 1   |
| (D) 4 | 2   | 1   | 3   |

123. Which of the sentence has the correct article usage?

124. Choose the correct Antonym for the underlined word from the options given: The inhabitants were in a profound sleep.



TNPSC

VAO - GENERAL ENGLISH - 2012

125. Choose the correct Antonym for the underlined word from the options given: White was a lanky construction Entrepreneur.

126. Match the following words given in Column A with their Antonyms in Column B and select the correct answer from the codes given below:

Column A	Column B
(a) Mutiny	1. Cowardice
(b) Valour	2. Peace
(c) Tyrant	3. Calm
(d) Agitate	4. Kind

(a)	(b)	(c)	(d)
(A) 4	1	3	2
(B) 2	1	4	3
(C) 3	2	1	4
(D) 1	2	3	4

127. Find out the odd word-Adverb

- |                 |               |
|-----------------|---------------|
| (A) abnormally  | (B) abnormal  |
| (C) abnormality | (D) abnormity |

128. Fill in the blank with correct 'homophone'.

- A \_\_\_\_\_ smell came from the kitchen.
- |           |          |
|-----------|----------|
| (A) fowl  | (B) fool |
| (C) foule | (D) foul |

129. Choose the appropriate passive voice for the following sentence.

They write books, print them and sell them.

130. Give the suitable order of articles in the blanks of the given passage. Choose the correct code given below.

\_\_\_\_\_ idle brain is \_\_\_\_\_ devil's work shop. This shows we should keep on working \_\_\_\_\_ more we work \_\_\_\_\_ less we are idle.

131. Give the suitable order of articles in the blanks of the given passage. Choose the correct code given below.

\_\_\_\_\_ workers formed \_\_\_\_\_ union for themselves. Soon they fought for \_\_\_\_\_ increase in their pay \_\_\_\_\_ management was against the union.

132. Which of the following is correctly matched with the underlined word?

No one could notice the error in my essay.

133. Match the following synonym from Column A with Column B and select the correct answer from the given codes.

Column A	Column B
(a) Miracle	1. Beat
(b) Avarice	2. Wonder
(c) Obscure	3. Greed
(d) Thrash	4. Vague



**TNPSC**  
**VAO - GENERAL ENGLISH - 2012**

(a) (b) (c) (d)

- (A) 1 4 2 3  
(B) 2 1 3 4  
(C) 4 2 3 1  
(D) 2 3 4 1

138. Match the following:

- |                 |                           |
|-----------------|---------------------------|
| (a) Hot potato  | 1. Important person       |
| (b) Hard boiled | 2. Sudden feeling of heat |
| (c) Hot shot    | 3. Passionate             |
| (d) Hot blooded | 4. Without feeling        |
|                 | 5. Difficult situation    |

134. Identify the complex sentence.

- (A) Rahim is an intelligent boy  
(B) Rahim, who is an intelligent boy is my favourite  
(C) Rahim is my favourite boy and he is intelligent  
(D) Rahim is intelligent and he is my favourite

(a) (b) (c) (d)

- (A) 5 1 3 2  
(B) 4 5 2 1  
(C) 5 4 1 3  
(D) 4 5 1 2

135. Choose the correct synonym of the underlined word

He worshipped me with utmost reverence.

- (A) remembrance (B) relevance  
(C) great respect (D) flippant

139. Choose the correct question tag.

- Don't smoke.  
(A) won't you? (B) don't you?  
(C) do you? (D) will you?

136. Which of the following plural form is not correct?

- (A) oases (B) maid-servants  
(C) terminuses (D) fairies

140. Identify the sentence with the correct question tag.

- (A) Let us begin the work. Shall we?  
(B) You will receive the parcel tomorrow. Will you?  
(C) We will reach the place tomorrow. Can't we?  
(D) Let us complete it. Can we?

137. Match the following:

- |                |               |
|----------------|---------------|
| (a) Rendezvous | 1. Container  |
| (b) Repository | 2. Disapprove |
| (c) Reprimand  | 3. Refresh    |
| (d) Rejuvenate | 4. Persuade   |

(a) (b) (c) (d)

- (A) 4 1 2 3  
(B) 3 5 4 2  
(C) 5 1 2 3  
(D) 5 2 1 3

141. Pick out the sentence with SVOC pattern.

- (A) Birds love to sing  
(B) Boys refused  
(C) They elected him the secretary  
(D) Respect the elders

142. Identify the sentence with the correct question tag.



**TNPSC**  
**VAO - GENERAL ENGLISH - 2012**

- (A) George purchased a new laptop does he?  
(B) Lucy has a chance of getting it has she?  
(C) Bharathi has collected more than 500 songs had she?  
(D) Beena has a good collection hasn't she?

143. Fill in the blank with a suitable infinitive.

He wept \_\_\_\_\_ the desolation caused by the flood.

- (A) seeing (B) to be seen  
(C) to see (D) having seen

144. Match the following words given in Column A with their meanings in Column B.

Column A

- (a) Alms  
(b) Forlorn  
(c) Prey  
(d) Punch

(a) (b) (c) (d)

- (A) 1 2 3 4  
(B) 2 1 4 3  
(C) 3 2 1 4  
(D) 2 1 3 4

Column B

1. Lonely  
2. Offerings  
3. Hit  
4. Victim

147. Choose the appropriate active voice for the following sentence.

The window should not have been broken by the children.

- (A) Breaking the window should have been by the children  
(B) The children should not break the window  
(C) The children should not have broken the window  
(D) The children should have been breaking the window

145. Which one of the following is a correct sentence?

- (A) He is so tired and that he can not walk  
(B) He is so tired that he can walk  
(C) He is so tired that he cannot walk  
(D) He is very tired to walk slowly

146. When we went home to the countryside. For example, Christmas Eve was wonderful, because it meant two week's vacation

\_\_\_\_\_ and not just two week's vacation, but two weeks of festivities and treats : Cookies, candy and nougats. We had a lot of them at my house.

Pick out the incorrect statements

1. Lot of tasty items are prepared at his home during christmas  
2. He always like vacation and tasty snacks  
3. He loves cookies. candy and nougats but not the festival  
4. He hesitates to go to his home during Christmas

(A) 3 and 1 (B) 3 and 4

(C) 3 and 2 (D) none of these

148. Comprehension:

Giraffes are timid animals and run from danger. If they are cornered they protect themselves by kicking with their powerful feet. Though Giraffe is boun with small horns, they grow larger as it gets older.

- The unique feature of Giraffe.  
(A) timid (B) powerful feet  
(C) horns grow in size (D) kick with powerful feet





**TNPSC**  
**VAO - GENERAL ENGLISH - 2012**

149. Match the following words given in Column A with their Antonyms in Column B and select the answer from the codes given below:

Column A		Column B	
(a) Survivor		1. Frozen	
(b) Remote		2. Lazy	
(c) Molten		3. Near by	
(d) Industrious		4. Victim	
(a) (b) (c) (d)		(a) (b) (c) (d)	
(A) 2 4 3 1			
<b>(B) 4 3 1 2</b>			
(C) 1 2 3 4			
(D) 3 1 4 2			

150. Match Column A with Column B.

Column A		Column B	
(a) When you have finished your work		1. all rose to their feet	
(b) Don't talk			
(c) No sooner did he see us		3. while she is singing	
(d) As he came into the room		4. you may go home	
(a) (b) (c) (d)		(a) (b) (c) (d)	
(A) 4 2 1 3			
<b>(B) 4 3 2 1</b>			
(C) 4 1 2 3			
(D) 3 4 1 2			

151. Which one of the following has the correct infinitive?

- (a) The critic went on explaining how the film ended

(b) The critic went on to explaining how the film ended

**(c) The critic went on to explain how the film ended**

(d) The critic went on to have explained how the film ended

152. Identify the degree and choose the correct answer.

Very few boys are as industrious as Latif.  
(A) superlative degree (B) comparative degree  
**(C) positive degree** (D) none of these

153. Fill in the blank with suitable present participle.

I heard him \_\_\_\_\_ a song.  
(A) sing (B) to sing  
(C) having singing **(D) singing**

154. Identify the comparative degree.

(A) **Actions speak more than words**  
(B) Words are the best than actions  
(C) Actions speak as much as words  
(D) Words and actions speak a lot

155. Identify the degree.

(A) positive (B) comparative  
**(C) superlative** (D) none

156. Change the following into comparative degree.

No other subject is as difficult as statistics.  
(A) Statistics is comparatively difficult than other subjects  
(B) Statistics is a more difficult subject than most of them



**TNPSC**  
**VAO - GENERAL ENGLISH - 2012**

(C) Statistics is a difficult subject

**(D) Statistics is more difficult than any other subjects**

(C) 4 2 3 1

(D) 1 3 4 2

157. Which one of the following sentence has past participle in it?

- (A) **Deceived by his friends, he lost all hope**  
(B) As he had been deceived by his friends he lost all hope  
(C) He lost all his hope because he was deceived by his friends  
(D) He was deceived by his friends and so he lost all hope

161. Which one of the following sentence has a participle in it?

- (A) **Loudly knocking at the gate he demanded admission**  
(B) He is loudly knocking at the gate and demanded admission  
(C) He has been loudly knocking at the gate and demanded admission  
(D) He loudly knocks at the gate and demands admission

158. Fill up the blank with perfect participle

\_\_\_\_\_ him President the people gave him their loyal support.  
(A) Have elected (B) To elect  
(C) Electing **(D) Having elected**

162. Homophones:

A good human being should be \_\_\_\_\_ in his approach.  
(A) **humane** (B) humen  
(C) human (D) humour

159. Identify the sentence.

Except that he hurt his hand, he was lucky  
(A) **complex** (B) simple  
(C) compound (D) none

163. Match the homophones with their related meanings and select the answer from the codes given below.

Homophones	Meanings
(a) Descent	1. Respectable
(b) Decent	2. To disagree
(c) Deceit	3. Downward
(d) Dissent	4. To cheat

160. Match the following words given in Column A with their Antonums in Column B and select the correct answer from the codes given below:

Column A	Column B
(a) Triumph	1. Withdraw
(b) Bestow	2. Remembered
(c) Forgotten	3. Punishment
(d) Reward	4. Defeat
(a) (b) (c) (d)	(a) (b) (c) (d)
(A) 3 2 4 1	
<b>(B) 4 1 2 3</b>	

(a) (b) (c) (d)	
(A) <b>3 1 4 2</b>	
(B) 1 2 3 4	
(C) 1 3 4 2	
(D) 4 2 1 3	



164. Which of the following plural form is not correct? and select the correct answer from the codes given.

- (A) proofs (B) echoes (C) lookers-on (D) looker-ons
(a) Let's meet again 1. isn't he?
(b) He is writing 2. does he?
(c) He does not write 3. won't he?
(d) He will write 4. shall we?

166. Which of the following plural form is not correct?

- (A) sons-in-laws (B) sons-in-law
(C) chimneys (D) armies
(a) (b) (c) (d)
(A) 1 3 4 2
(B) 3 1 2 4
(C) 4 1 2 3
(D) 1 2 3 4

167. Match Column A with Column B to make meaningful sentences by using correct preposition. 170. Find the sentence in while the underlined word is used as an adjective.

- Column A Column B
(a) Ramu put a jacket 1. Under a tree
(b) Latha is standing 2. Below the water surface
(c) He picked a flower 3. Over his shirt
(d) The whale is 4. From the garden
(a) (b) (c) (d)
(A) 3 1 4 2
(B) 3 1 2 4
(C) 3 2 4 1
(D) 2 1 4 3

168. Pick out the sentence with a wrong question tag. (A) Let's go to the beach, shall we? (B) Let me see the register, can I? (C) There is a park in that area, isn't there? (D) Somebody has raised the issue, hasn't they?

169. Match the following statements given in Column A with their question tags in Column B
(a) flowers, butterfly, sheep
(b) flowers, butterfly, sheeps
(c) flowers, butterflies, sheeps



(D) flowers, butterflies, sheeves

174. Match Column A with Column B.

- Column A Column B
(a) Where ignorance is bliss 1. He did not succeed
(b) He tried hard but 2. For he is a conscientious man
(c) I called him but 3. It is folly to be wise
(d) He must have done his duty 4. He gave me no answer
(a) (b) (c) (d)
(A) 3 1 4 2
(B) 3 4 1 2
(C) 3 4 2 1
(D) 1 2 3 4

175. The city of Venice is situated on many small islands close to one another. Its streets are canals and its numerous palaces and residences are built on water. Lights gleame from the open windows of palaces and churches, and their reflection in the water gave the city the appearance of something charming and enchanting.

- Which option does not suit the passage?
(A) The city is colourful and attractive
(B) Its streets are narrow, travelling by bus around the city will be an enchanting one
(C) Many islands are close to one another there.
(D) Venice is synonymous with palaces and churches

176. The house itself looked empty. The doors and windows were locked. The front Verandah bare. Unfurnished. But the Skyblue Plymouth with chrome tailfins was still parked outside and inside, Baby Kochamma was still alive. The passage describes

- 1. emptiness 2. unplcasantness
3. solitude 4. none of these
(A) 1,2 (B) 2,3
(C) 1,2,3 (D) None of these

177. Comprehension:

Like humans birds and animals use tools. For instance Egyptian vultures pick up rocks with their bills. They hurl the rocks at Ostrich eggs. If the egg does not break they will repeat the pounding.

- How do the vultures break the eggs of Ostrich?
(A) by bitting with a rod
(B) by biting with their teeth
(C) c) by pelting stones
(D) by stamping with their legs

178. All the tube lights \_\_\_\_\_ with CFL.

- (A) have been replace (B) have replaced
(C) have to be replaced (D) has been replaced

179. Find out the passive voice from the options:

- (A) The rabbits are beautiful
(B) The rabbits are allowed to roam here
(C) The rabbits are playful
(D) The rabbits are active

180. Match Column A with column B.



TNPSC

VAO - GENERAL ENGLISH - 2012

Column A

Column B

- (a) If you had invited me 1. You will not be allowed for the exams
- (b) Unless you pay the fee 2. You may be convicted
- (c) If you don't tell the truth 3. I would have told you
- (d) If I knew the truth 4. I would have come for the party

(a)	(b)	(c)	(d)
(A) 4	1	3	2
(B) 3	4	1	2
(C) 4	1	2	3
(D) 1	2	3	4

- Venice. They reached their home town only after 24 years. Find out the irrelevant statements.
1. They travelled by train
  2. They travelled many years
  3. They used small yachts
  4. They failed to reach their motherland
- (A) 1, 2, 3                      (B) 2, 3, 4  
**(C) 1, 3, 4**                      (D) none of these

- 183.** Change into superlative degree.  
 No other area in Chennai is as polluted as Anna Nagar.
- (A) Anna Nagar is less polluted in Chennai  
 (B) Anna Nagar is the least polluted area in Chennai  
**(C) Anna Nagar in Chennai is the most polluted area**  
 (D) Anna Nagar is more polluted than most other areas in Chennai

- 184.** Identify the positive degree.
- (A) Kalidasa is the most famous Sanskrit Poet  
 (B) Kalidasa is more famous than all other Sanskrit poets  
**(C) My car is not so attractive as yours**  
 (D) Ram is stable

- 185.** Fill in the blanks with suitable gerund.
- I like \_\_\_\_\_ poetry.
- (A) reading**                      (B) to read  
 (C) to reading                      (D) having read

- 186.** Fill in the blanks with suitable infinitive.
- The counsel rose \_\_\_\_\_ the court.
- (A) to be addressed  
 (B) to have addressed

- 181.** Social customs play an important role. Chocolates and other sweets are standard gifts now-a-days. In preparing dinner for guests, most hostesses serve their most elaborate menus - and these are generally highest in calorie content. Certainly that staple of modern life, the cocktail party, has contributed its share of bulging figures, especially in western countries. Not only is alcohol itself high in calories, but so are the cheesic dips, peanuts and potato chips. What is the passage about?
- (A) food adulteration    (B) food habits  
 (C) children health        **(D) obesity**

- 182.** Marco Polo, his father and uncle joined the train and set out for home by sea. They visited sumatra, the Andaman islands and Ceylon. Finally, the fleet reached the Persian Gulf. From there the three travellers hastened home to



TNPSC

VAO - GENERAL ENGLISH - 2012

(C) to address

(D) to have been addressing

- 187.** Fill in the blank with gerund.
- \_\_\_\_\_ questions is easier than answering them.
- (A) to ask                      (B) having asked  
 (C) to asking                      **(D) asking**

- 188.** Match the following homophones with their related meanings and select the correct answer from the codes given below.

Homophones	Meanings
(a) Ingenious	1. Franks and innocent
(b) Igneous	2. Not famous
(c) Inglorious	3. Clever
(d) Ingenuous	4. Solidified magma

(a)	(b)	(c)	(d)
(A) 3	4	2	1
(B) 3	2	1	4
(C) 3	1	4	2
(D) 2	1	3	4

- 189.** Homophones:
- Match the homophones with their related meanings and select the answer from the codes given below.
- |           |                           |
|-----------|---------------------------|
| (a) Break | 1. Baked clay             |
| (b) Brook | 2. To separate to pieces  |
| (c) Brake | 3. A small stream         |
| (d) Brick | 4. A device for retarding |
- |       |     |     |     |
|-------|-----|-----|-----|
| (a)   | (b) | (c) | (d) |
| (A) 2 | 1   | 4   | 3   |
| (B) 3 | 2   | 4   | 1   |
| (C) 2 | 3   | 4   | 1   |
| (D) 2 | 1   | 3   | 4   |

- 190.** Fill up the blank with suitable preposition given below as options:  
 The rules and regulations apply \_\_\_\_\_ all the students.
- (A) for    **(B) to**    (C) from    (D) with

- 191.** Fill in the blanks with appropriate preposition given below as options:  
 There being no evidence \_\_\_\_\_ him, he was acquitted.
- (A) in    (B) for    (C) to    **(D) against**

- 192.** Fill up the blank with suitable preposition given below as options:  
 He works hard \_\_\_\_\_ get promoted.
- (A) as to    (B) for    (C) through    **(D) in order to**

- 193.** Match Column A with Column B to make meaningful sentences

Column A	Column B
(a) I walked	1. past me hurriedly
(b) He drove	2. through in the exam
(c) She took	3. towards him slowly
(d) I got	4. over the job happily

(a)	(b)	(c)	(d)
(A) 3	2	4	1
(B) 3	1	4	2
(C) 3	1	4	2
(D) 3	4	1	2

- 194.** Identify the sentence which has an adjective?
- (A) Character is influenced by surroundings  
**(B) She is an efficient student**  
 (C) The cat ate the rat  
 (D) He often visited me

**TNPSC****VAO - GENERAL ENGLISH - 2012****195.** Find out meaning for the underlined wordI don't feel any resentment towards them.

1. bitter            2. angry            3. unhappy  
4. unfair            5. boast

- (A) 1, 2, 3, and 5            (B) 2, 3, 4, and 5  
(C) 1, 2, 3 and 4            (D) 1, 2, 4 and 5

**196.** Match the following:

Phrasal verbs		Usage	
(a) Pay off		1. or you cannot take things from her	
(b) Pay for		2. they may find it difficult to pass	
(c) Made for		3. its perfectly matching	
(d) Make way		4. he should not come again	
		5. its interesting	
(a)	(b)	(c)	(d)
(A) 4	1	3	5
(B) 4	3	1	5
(C) 4	1	3	2
(D) 4	5	3	2

**198.** Identify the simple sentence.

- (A) If I make a promise I keep it  
(B) **I make a promise only to keep it**  
(C) I make a promise and I keep it  
(D) Make a promise and keep it

**199.** Match the following words given in Column A with their meanings in Column B

Column A	Column B		
(a) Scornful	1. Shiver with cold		
(b) Mettle	2. Made in imitation		
(c) Shudder	3. Sarcastic		
(d) Counterfeit	4. Courage		
(a)	(b)	(c)	(d)
(A) 1	4	3	2
(B) 4	1	3	2
(C) 3	4	1	2
(D) 1	3	4	2

**200.** Identify the sentence which does not contain a verb.

- (A) I need a pen  
(B) She wrote a test  
(C) **A little water in the jug**  
(D) He bought a car

**101.** Among the following statements which of them is/are found to be wrong?

1. Iron is highly malleable and ductile.  
2. Gold is highly malleable and ductile.  
3. Lithium is the lightest metal.  
(A) 2 and 3            (B) **1 only**  
(C) 2 only            (D) 1, 2 and 3

கீழ்க்காணும் கூற்றுகளில் எது/எவை தவறான கூற்று ஆகும்?

1. இரும்பு மெல்லிய தகடாகவும், மெல்லிய கம்பியாகவும் மாற்றக்கூடியது.

**TNPSC****VAO - GENERAL ENGLISH - 2012****2.** தங்கம் மெல்லிய தகடாக, மெல்லிய கம்பியாக மாற்றக்கூடிய உலோகம்.

3. வித்தியம் என்பது ஓர் இலேசான உலோகம்  
(A) 2 மற்றும் 3            (B) **1 மட்டும்**  
(C) 2 மட்டும்            (D) 1, 2 மற்றும் 3

**102.** Match the List I with List II correctly and select your answer using the codes given below

List I -State	List II -Tourist Centre
(a) Andhrapradesh	1. Ajantha, Ellora
(b) Jharkhand	2. Chithana Vasal
(c) Maharashtra	3. Chandrapura Birds Sanctuary
(d) Tamilnadu	4. Golconda Fort

**Codes :**  
(a) (b) (c) (d)

- (A) 2 4 1 3  
(B) 4 3 2 1  
(C) **4 3 1 2**  
(D) 3 2 4 1

பட்டியல் I-ஐ பட்டியல் II-உடன் பொருந்தி கீழே கொடுக்கப்பட்டுள்ள குறியீடுகளைக் கொண்டு

சரியான விடையைத் தேர்ந்தெடு :

பட்டியல் I - மாநிலம் பட்டியல் II - சுற்றுலாத்தலம்

- (a) ஆந்திரப் பிரதேசம் 1. அஜந்தா, எல்லோரா  
(b) ஜார்கண்ட் 2. சித்தன்னவாசல்  
(c) மகாராஷ்டிரா 3. சந்திராபுரவை சரணாலயம்  
(d) தமிழ்நாடு 4. கோல்கொண்டா கோட்டை

குறியீடுகள்:  
(a) (b) (c) (d)

- (A) 2 4 1 3  
(B) 4 3 2 1  
(C) **4 3 1 2**  
(D) 3 2 4 1

**103.** Match the List I with List II correctly and select your answer using the codes given below

List I	List II		
(a) Roentgen	1. Swimming rule		
(b) Henry Bequrel	2. Nuclear fission		
(c) Ottohaun	3. X-rays		
(d) Ampere	4. Radiation		
(a)	(b)	(c)	(d)
(A) 1	2	3	4
(B) 4	3	1	2
(C) <b>3</b>	<b>4</b>	<b>2</b>	<b>1</b>
(D) 2	3	4	1

பட்டியல் I-ஐ பட்டியல் II-உடன் பொருந்தி கீழே கொடுக்கப்பட்டுள்ள குறியீடுகளைக் கொண்டு சரியான விடையைத் தேர்ந்தெடு :

**பட்டியல் I**            **பட்டியல் II**

- (a) ராண்ட்ஜன் 1. நீச்சல் விதி  
(b) ஹென்றி பெக் கொரல் 2. அணுக்கரு பிளவு  
(c) ஆட்டோஹான் 3. X-கதிர்கள்  
(d) ஆம்பியர் 4. கதிரியக்கம்
- (a) (b) (c) (d)
- (A) 1 2 3 4  
(B) 4 3 1 2  
(C) **3 4 2 1**  
(D) 2 3 4 1

**104.** Which one of the following is correctly matched?

- (A) Troposphere 1. ions are found  
(B) **Stratosphere** 2. **conductive for airplanes to fly**  
(C) Mesosphere 3. weather patterns  
(D) Thermosphere 4. protects the earth from falling metcors

கீழ் கொடுக்கப்பட்டவைகளில் எது சரியாக பொருந்தியுள்ளது?

- (A) ட்ரோப்போஸ்பியர் 1. அயனிகள் உள்ளன

**TNPSC****VAO - GENERAL ENGLISH - 2012**

- (B) ஸ்ட்ரடோஸ்பியர் 2. விமானங்கள் வேகமாக பறப்பதற்கு ஏற்ற சாதகமான சூழ்நிலை
- (C) மிஸோஸ்பியர் 3. வானிலைநிகழ்வுகள்
- (D) தெர்மோஸ்பியர் 4. புவியை விண்கற்களிலிருந்து பாதுகாப்பது

105. Assertion (A) : Lightning flash is seen first and thunder sound is heard next.

Reason (R) : Light travels million times faster than sound.

(A) Both (A) and (R) are true (R) is the correct explanation of (A)

(B) Both (A) and (R) are true (R) is not the correct explanation of (A)

(C) (A) is true but (R) is false

(D) (A) is false but (R) is true

துணிபு (A) : மின்னல் கண்ணுக்கு தெரிந்த பின்னரே இடியின் சத்தம் கேட்கிறது.

காரணம் (R) : ஒளியானது ஒலியை விட மில்லியன் மடங்கு அதிவேகமாகப் பயணம் செய்கிறது

(A) (A) மற்றும் (R) சரி மற்றும் (R) என்பது (A)-விற்கு சரியான விளக்கம்

(B) (A) மற்றும் (R) சரி மற்றும் (R) என்பது (A) விற்கு சரியான விளக்கம் அல்ல

(C) (A) சரி ஆனால் (R) தவறு

(D) (A) தவறு ஆனால் (R) சரி

106. Select the appropriate pairs of words:

- (a) Cutting - Hibiscus
- (b) Layering - Jasmine
- (c) Yeast - Fragmentation
- (d) Conidia - Mucor

(A) (a), (b), (c) - correct

(B) (b), (c), (d), (e) - correct

(C) (c), (d), (e) - correct

(D) (a), (b), (c), (d) - correct

பின்வருவனவற்றுள் எது சரியான ஜோடி?

(a) வெட்டப்பட்ட தண்டுப் பகுதி - ஹைமஸ்கஸ்

(b) பதியம் போடுதல் - மல்லிகை

(c) ஒட்டுப் போடுதல் - மா

(d) ஈஸ்ட் துண்டாதல்

(e) கொனிட்யா மிபூக்கர்

(A) (a), (b), (c) - சரி (B) (b), (c), (d), (e) - சரி

(C) (c), (d), (e) - சரி (D) (a), (b), (c), (d) - சரி

107. The electrical appliances of our home are all connected in a \_\_\_\_\_ circuit.

(A) parallel (B) series

(C) either parallel or series

(D) parallel and series alternatively

வீட்டில் உபயோகிக்கும் மின்சாதனங்கள் அனைத்தும் எவ்வகையான மின் இணைப்பை பெற வேண்டும்?

(A) இணையாக

(B) தொடர்பாக

(C) இணையாகவோ அல்லது தொடரிணைப்பாகவோ

(D) ஒன்று இணையாகவும் மற்றொன்று தொடரிணைப்பாகவும்

108. Every Bank has to keep certain minimum cash balance with R.B.I. is called

(A) Variable Reserve Ratio

(B) Cash Reserve Ratio

(C) Cash Discount Ratio

(D) Trade Discount Ratio

இந்திய ரிசர்வ் வங்கியிடம் ஒவ்வொரு வங்கியும் ஒரு குறிப்பிட்ட தொகையை ரொக்க இருப்பாக வைப்பது \_\_\_\_\_ என்று பெயர்.

(A) மாறுபடும் காப்பு விகிதம்

(B) ரொக்க காப்பு விகிதம்

(C) ரொக்கத் தள்ளுபடி விகிதம்

**TNPSC****VAO - GENERAL ENGLISH - 2012**

(D) வியாபாரத் தள்ளுபடி விகிதம்

109. The Duty levied while transporting goods from state to state

(A) Export duty (B) Octroi duty

(C) Customs duty (D) Import duty

பொருட்கள் மாநிலத்திலிருந்து மாநிலம் கொண்டு செல்லும் போது வசூலிக்கப்படும் வரி

(A) ஏற்றுமதி வரி (B) நகர்நுழை வரி

(C) சங்க வரி (D) இறக்குமதி வரி

110. In Tamilnadu the centre for Stem Cell Research is located at

(A) Chennai (B) Coimbatore

(C) Vellore (D) Madurai

தமிழ்நாட்டில் ஸ்டெம் செல் ஆராய்ச்சி நிறுவனம் அமைந்துள்ள இடம் எது?

(A) சென்னை (B) கோயம்புத்தூர்

(C) வேலூர் (D) மதுரை

111. Consider the following statements:

Assertion : The term "Lemuria" was first used by salter

Reason : A submerged continent (Lemuria) where Tamils survived in pre-historic age

Now select your answer according to the codes below :

(A) Both (A) and (R) are true and (R) is the correct explanation of (A)

(B) Both (A) and (R) are true but (R) is not the correct explanation of (A)

(C) (A) is true but (R) is false

(D) (A) is false but (R) is true

கீழ்க்கண்ட வாக்கியங்களைக் கவனிக்கவும் :

கூற்று : லெமுரியா என்ற வார்த்தையை

முதலில் உபயோகித்தவர் ஸ்லேட்டர்

காரணம் : வரலாற்றுக்கு முந்தைய கால தமிழர்கள் ஒன்றிணைக்கப்பட்ட கண்டத்தில் (லெமுரியா)

வாழ்ந்தனர்

சரியான விடையைத் தேர்ந்தெடுக்கவும்.

(A) கூற்று மற்றும் காரணம் சரி. கூற்றுக்கான காரணமும் சரி

(B) கூற்று மற்றும் காரணம் சரி. கூற்றுக்கான காரணமும் தவறு

(C) கூற்று சரி - காரணம் தவறு

(D) கூற்று தவறு - காரணம் சரி

112. Which one of the following is correctly matched?

Officers of Village Administration in Epic Age called

(a) Dasagrami 1. 100 Villages

(b) Vimsatipa 2. 10 Villages

(c) Satagrami 3. 20 Villages

(d) Adhipati 4. 1000 Villages

(a) (b) (c) (d)

(A) 3 4 1 2

(B) 2 3 1 4

(C) 1 3 2 4

(D) 4 1 2 3

கீழ் கொடுக்கப்பட்டுள்ளவற்றுள் எது சரியாக பொருந்துகிறது?

காவிய காலத்தில் கிராம நிர்வாக அதிகாரிகள் கீழ்க்கண்டவாறு அழைக்கப்பட்டார்கள்

(a) தசகிராமி 1. 100 கிராமங்கள்

(b) விம்சதிபா 2. 10 கிராமங்கள்

(c) சதகிராமி 3. 20 கிராமங்கள்

(d) அதிபதி 4. 1000 கிராமங்கள்

(a) (b) (c) (d)

(A) 3 4 1 2

(B) 2 3 1 4

(C) 1 3 2 4





**TNPSC**  
**VAO - GENERAL ENGLISH - 2012**

(D) 4 1 2 3

113. "Inam Ennum Eemap Punaiyaich Suduvathu - Ethu"?

- (A) Sinam (B) Dhanam  
(C) Pakai (D) Nakai  
"இனம் என்னும் ஏமாப்புணையைச் சுடுவது" - எது?  
(A) சினம் (B) தனம்  
(C) பகை (D) நகை

114. Who is the first grammarian in Sanskrit language?

- (A) Vaalmeeeki (B) Viyaasara  
(C) Thandi (D) Paanini

வடமொழி இலக்கண ஆசிரியர்களுள் முதன்மையானவர் யார்?

- (A) வால்மீகி (B) வியாசர்  
(C) தண்டி (D) பாணினி

115. Classify the 'Ettuthokai, Noolkal' in number as Akam, Puram and Akapuram

- (A) 3 : 3 : 2 (B) 5 : 2 : 1  
(C) 6 : 1 : 1 (D) 4 : 4 : 0

எட்டுத் தொகை நூல்களின் எண்ணிக்கையை அகம், புறம், அகப்புறம் என வரிசைப்படுத்துக.

- (A) 3 : 3 : 2 (B) 5 : 2 : 1  
(C) 6 : 1 : 1 (D) 4 : 4 : 0

116. Choose the correct ones :

The traditional Thanjavur Doll automatically rights itself even after it is pushed and tilted around

1. It has a very low center of gravity  
2. It has a rounded base  
3. It has high center of gravity  
4. It has a flat base

- (A) Both 1 and 2 are correct  
(B) Both 2 and 4 are correct  
(C) Both 3 and 4 are correct  
(D) Both 1 and 2 are false

தஞ்சாவூர் தலையாட்டி பொம்மையை தள்ளினாலும் சாய்த்தாலும் தன் பழைய நிலையை அடைகிறது

1. அதன் புவியீர்ப்பு மையம் தாழ்ந்த நிலையில் உள்ளது  
2. அடிபாகம் உருண்டையானது  
3. அதன் புவியீர்ப்பு மையம் உயர்ந்த நிலையில் உள்ளது  
4. அதன் அடிபாகம் தட்டையானது

- (A) (1) மற்றும் (2) சரி (B) (2) மற்றும் (4) சரி  
(C) (3) மற்றும் (4) சரி (D) (1) மற்றும் (2) தவறு

117. Which one of the following statement is incorrect regarding nuclear fission?

- (A) It is a chain-reaction  
(B) Performed under controlled conditions  
(C) It takes place at a very high temperature  
(D) Neutrons are emitted during the reaction

கீழே கொடுக்கப்பட்ட வாக்கியங்களில் எது அணுக்கரு பிளப்பு பற்றி தவறான தகவலை தருகிறது?

- (A) இது ஒரு சங்கிலி தொடர்வினை  
(B) இதனை கட்டுப்படுத்தி நிகழ்த்தலாம்  
(C) இது மிக அதிகமான வெப்பநிலையில் நடக்கிறது  
(D) இவ்வினை நடைபெறும்போது நியூட்ரான்கள் வெளிவிடப்படுகிறது

118. Which is the correct statement?

1. Rainfall varies from place to place and time to time. It is thus the season occur.  
2. Temperature varies from place to place and time to time. It is thus the season occur.



**TNPSC**  
**VAO - GENERAL ENGLISH - 2012**

3. Climate varies from place to place and time to time. It is thus the season occur.  
(A) 1 only (B) 2 only  
(C) 3 only (D) 1 and 2 only

சரியான விடையை தேர்ந்தெடு :

1. மழை புவியில் ஆண்டு முழுவதும் ஒரே மாதிரியாக இல்லாமல் இடத்திற்கு இடம், காலத்திற்கு காலம் வேறுபடுவதற்கு காரணம் பருவ காலங்கள் தோன்றுவது ஆகும்.  
2. வெப்பநிலை புவியில் ஆண்டு முழுவதும் ஒரே மாதிரியாக இல்லாமல் இடத்திற்கு இடம், காலத்திற்கு காலம் வேறுபடுவதற்கு காரணம் பருவ காலங்கள் தோன்றுவது ஆகும்.  
3. காலநிலை புவியில் ஆண்டு முழுவதும் ஒரே மாதிரியாக இல்லாமல் இடத்திற்கு இடம், காலத்திற்கு காலம் வேறுபடுவதற்கு காரணம் பருவ காலங்கள் தோன்றுவது ஆகும்.  
(A) 1 மட்டும் (B) 2 மட்டும்  
(C) 3 மட்டும் (D) 1 மற்றும் 2 மட்டும்

119. Choose the correct answer :

Reason for 70% of coral reefs killed in Lakshadweep and Andaman islands.

- (A) Global warming  
(B) Acid rain  
(C) Ozone layer depletion  
(D) Smog

சரியான விடையைத் தேர்ந்தெடுக்கவும் : இலட்சத் தீவு மற்றும் அந்தமான் தீவுகளில் 70% பவளப் பாறைகள் அழிய காரணம்

- (A) உலக வெப்பமயமாதல்  
(B) அமில மழை  
(C) ஓசோன் அடுக்கு சீரழிவு  
(D) நச்சுப் புகை

120. Which one of the following is not permanent member of security council?

- (A) U.S.A. (B) India  
(C) France (D) U.K.

கீழே கொடுக்கப்பட்டுள்ளவைகளில் எது ஐக்கிய நாடுகள் சபையில் நிரந்தர உறுப்பு நாடு அல்ல?

- (A) அமெரிக்கா (B) இந்தியா  
(C) பிரான்ஸ் (D) இங்கிலாந்து

121. Who was the Pioneer of Ballad in Tamil?

- (A) Ottakuthar (B) Irattai Pulavar  
(C) Kalamega Pulavar (D) Pugazenthi Pulavar

தமிழ்க்கதைப் பாடலின் முன்னோடியாகக் கருதக்கவர் யார்?

- (A) ஓட்டக்கூத்தர் (B) இரட்டைப்புலவர்  
(C) காளமேகப்புலவர் (D) புகழேந்திப் புலவர்

122. Match the following in correct answer :

- (a) 07 1. Periya Puranam  
(b) 10 2. Kalampagam  
(c) 18 3. Ula  
(d) 63 4. Pillai Tamil

(a) (b) (c) (d)

- (A) 3 4 2 1  
(B) 1 2 3 4  
(C) 4 1 2 3  
(D) 2 3 4 1

பட்டியல் I-ஐ பட்டியல் II-உடன் பொருத்தி, கீழே கொடுக்கப்பட்டுள்ள குறியீடுகளைக் கொண்டு சரியான விடையைத் தேர்ந்தெடு :

- பட்டியல் I** **பட்டியல் II**  
(a) 07 1. பெரியபுராணம்  
(b) 10 2. கலம்பகம்  
(c) 18 3. உலா  
(d) 63 4. பிள்ளைத்தமிழ்



**TNPSC**  
**VAO - GENERAL ENGLISH - 2012**

- (a) (b) (c) (d)  
(A) 3 4 2 1  
(B) 1 2 3 4  
(C) 4 1 2 3  
(D) 2 3 4 1

123. Which of the following statement is not correct?

- (A) Metals are malleable and ductile  
(B) Metals are good conductors of heat and electricity  
(C) Metals are non-sonorous  
(D) Metals are hard with high melting points

(C) Metals are non-sonorous

(D) Metals are hard with high melting points கீழ்க்காணும் கூற்றுகளில் எது சரியான கூற்று அல்ல?

- (A) உலோகங்களை தகடாகவும், கம்பியாகவும் மாற்ற இயலும்  
(B) உலோகங்கள் சிறந்த மின்கடத்தியாகவும், வெப்பக்கடத்தியாகவும் செயல்படுகின்றன  
(C) உலோகங்கள் ஒலி ஏற்படுத்துவதில்லை  
(D) உலோகங்கள் கடினமானவை மேலும் அதிக உருகுநிலை உடையவை

124. Match the following correctly :

**Column A**

- (a) Chloroplast  
(b) Chromoplast  
(c) Leucoplast  
(d) Lysosome  
(e) Chromatin reticulum

**Column B**

1. Nucleus  
2. Tubers  
3. Leaves  
4. Flowers, fruits  
5. Suicidal bags

- (a) (b) (c) (d) (e)  
(A) 3 4 2 5 1  
(B) 3 2 5 1 4  
(C) 3 5 1 2 4  
(D) 5 1 3 4 2

**பொருத்துக :**

**பட்டியல் I**

- (a) குளோரோபிளாஸ்ட்  
(b) குளோரோபிளாஸ்ட்

**பட்டியல் II**

1. உட்கரு  
2. கிழங்கு

- (c) வியூக்கோபிளாஸ்ட் 3. இலை  
(d) லைசோசோம் 4. மலர், கனி  
(e) குளோமேட்டின் வலை 5. தற்கொலை பை

- (a) (b) (c) (d) (e)  
(A) 3 4 2 5 1  
(B) 3 2 5 1 4  
(C) 3 5 1 2 4  
(D) 5 1 3 4 2

125. The life span of human thrombocyte is \_\_\_\_\_ days/weeks.

- (A) 5 - 9 days (B) 2 - 3 weeks  
(C) 5 - 9 weeks (D) 2 - 3 days

மனித இரத்த பிளேட்லெட்டுகளின் வாழ்நாள் காலம் \_\_\_\_\_ நாட்கள்/வாரங்கள்

- (A) 5 - 9 நாட்கள் (B) 2 - 3 வாரங்கள்  
(C) 5 - 9 வாரங்கள் (D) 2 - 3 நாட்கள்

126. Consider the following statements :

(a) During respiration, oxygen is taken in and carbondioxide is given out.

(b) All the organisms are aerobes.  
Of these

- (A) (a) alone is correct (B) (b) alone is correct  
(C) both are correct (D) both are wrong

கீழ்க்கண வாக்கியங்களை கவனி :

(a) சுவாசித்தலின் போது ஆக்ஸிஜன் எடுத்துக் கொள்ளப்பட்டு, கார்பன்டைஆக்ஸைடு வெளியிடப்படுகிறது

(b) அனைத்து உயிரிகளும் காற்று சுவாசிகள் இவற்றுள்

- (A) (a) மட்டும் சரி (B) (b) மட்டும் சரி  
(C) இரண்டுமே சரி (D) இரண்டுமே தவறு



**TNPSC**  
**VAO - GENERAL ENGLISH - 2012**

127. Biological control of mosquito larvae can be done by  
(A) **Compusea and lepister fishes**  
(B) Earthworm  
(C) Snails (D) Tilapia

கொசுக்களின் வார்வாக்களைக் கட்டுப்படுத்த பயன்படுத்தப்படும் உயிரிகள் \_\_\_\_\_

- (A) கம்பூசியா மற்றும் லெபிஸ்டர் மீன்கள்  
(B) மண்புழு  
(C) நத்தைகள்  
(D) டிலேபியா மீன்

129. Match the following :

- (A) Resumption of rent free tenure 1. Lord Wellesley  
(B) General services enlistment Act 2. Lord Dalhousie  
(C) Subsidiary Treaties 3. Lord Bentinck  
(D) Doctrine of Lapse 4. Lord Canning

128. Match List I and II correctly and select your answer using the codes given below

**List I (Country) List II (Parliament)**

- (a) England 1. Federal Assembly  
(b) America 2. Parliament  
(c) Japan 3. Congress  
(d) Switzerland 4. Dict

Codes :

- (a) (b) (c) (d)  
(A) 4 2 3 1  
(B) 2 3 4 1  
(C) 2 3 1 4  
(D) 4 2 1 3

பட்டியல் I-ஐ பட்டியல் II- உடன் பொருத்திக்ீழே

கொடுக்கப்பட்டுள்ள குறியீடுகளைக் கொண்டு சரியான விடையைத் தேர்ந்தெடு :

**பட்டியல் I(நாடுகள்) பட்டியல் II(பாராளுமன்றம்)**

- (a) இங்கிலாந்து 1. பெடரல் அசெம்பிளி  
(b) அமெரிக்கா 2. பாராளுமன்றம்  
(c) ஜப்பான் 3. காங்கிரஸ்  
(d) சுவிட்சர்லாந்து 4. டயட்

குறியீடுகள் :

- (a) (b) (c) (d)  
(A) 4 2 3 1

- (a) (b) (c) (d)  
(A) 3 4 1 2  
(B) 4 1 2 3  
(C) 1 2 3 4  
(D) 2 3 4 1

பொருத்துக :

- (A) வங்காள நில குத்தகைச் சட்டம் 1. வெவ்லெசலி பிரபு  
(B) பொதுப் பணிப்படைச் சட்டம் 2. டல்ஹூசிய பிரபு  
(C) துணைப்படைத் திட்டம் 3. பெண்டிங் பிரபு  
(D) நாடு இழக்கும் கொள்கை 4. கானிங் பிரபு

130. Match List I and II correctly and select your answer using the codes given below :

**List I List II**

**TNPSC****VAO - GENERAL ENGLISH - 2012**

- (a) Junakhan 1. Shersha  
(b) Kasimalik 2. Jahangir  
(c) Fareeth Khan 3. Mohammad-bin-Thuqlak  
(d) Saleem 4. Kiyasudheen

(a) (b) (c) (d)

(A) 2 1 3 4

(B) 3 1 2 4

(C) 3 2 4 1

**(D) 3 4 1 2**

பட்டியல் I-ஐ பட்டியல் II- உடன் பொருத்திக்ழே  
கொடுக்கப்பட்டுள்ள குறியீடுகளைக் கொண்டு  
சரியான விடையைத் தேர்ந்தெடு :

**பட்டியல் I****பட்டியல் II**

- (a) ஜானாகான் 1. ஜெர்ஷா  
(b) காஸிமாலிக் 2. ஜகாங்கீர்  
(c) பரீத்கான் 3. முகமது பின் துக்ளக்  
(d) சலீம் 4. கியாகதீன்

(a) (b) (c) (d)

(A) 2 1 3 4

(B) 3 1 2 4

(C) 3 2 4 1

**(D) 3 4 1 2**

131. Which one of the following texts shows us that  
"Sati" was practiced by the Aryans?

- (a) Rig Veda (b) Yajur Veda  
(c) Sama Veda (d) Atharva Veda

(A) a (B) b (C) c **(D) d**

ஆரியர்களிடம் உடன்கட்டை ஏறும் பழக்கம்  
இருந்தது என்பதை எதன் மூலம் நாம் அறிகிறோம்?

- (a) ரிக் வேதம் (b) யஜூர் வேதம்  
(c) சாம வேதம் (d) அதர்வன வேதம்

(A) a (B) b (C) c **(D) d**

132. Identify the place where coral reefs are found  
in Tamilnadu

- (A) Gulf of Kutch **(B) Gulf of Mannar**  
(C) Lakshdweep (D) Nicobar Island  
தமிழ்நாட்டில் பவளப்பாறைகள் காணப்படும் இடம்  
(A) கட்ச வளைகுடா **(B) மன்னார் வளைகுடா**  
(C) இலட்சத் தீவுகள் (D) நிக்கோபார் தீவுகள்

133. "Karpukkadam Poonda Jththeivum Allathu  
Porputaith Theivam Yaam Kandilamaal" - Who  
is referred in these lines?

- (A) Seethai **(B) Kannagi**  
(C) Madhavi (D) Manimegalai

"கற்புக்கடம் பூண்ட இததெய்வம் அல்லது  
பொற்புடைத் தெய்வம் யாம் கண்டிலமால்" - இந்த  
வரிகள் கட்டுவது யாரை?

- (A) சீதை **(B) கண்ணகி**  
(C) மாதவி (D) மணிமேகலை

134. 'Vezham, Pidi, Vengai, ey' -  
Choose the correct equivalent parallel  
meanings of these nouns.

- (A) Singam, Yaanai, Puli, Veethal  
(B) Yaanai, Kaipatrutha, Puli, Veethal  
**(C) Yaanai, Penyaanai, Puli, Mullam Pantri**  
(D) Vetri, Yaanai, Puli, Peruthal

"வேழம் பிடி வேங்கை எய்" -  
இப்பெயர்ச் சொற்களுக்கு இணையான  
பொருள்களைத் தெரிவு செய்க

- (A) சிங்கம், யானை, புலி, வீசுதல்  
(B) யானை, கைப்பற்றுதல், புலி, அடைதல்  
**(C) யானை, பெண்யானை, புலி, முள்ளம்பன்றி**  
(D) வெற்றி, யானை, புலி, பெறுதல்

135. Genetic Engineering is employed in the  
production of

1. Hormones 2. Enzymes  
3. Interferon 4. Monoclonal antibodies

(A) 1 and 2 are correct  
(B) 2 and 3 are correct

**TNPSC****VAO - GENERAL ENGLISH - 2012**

- (C) 1, 2 and 4 are correct  
(D) **1, 2, 3 and 4 are correct**  
மரபுப் பொறியியல் செயல்நூட்பம் பின்வரு  
வனவற்றை உற்பத்தி செய்ய பயன்படுகிறது  
1. ஹார்மோன்கள் 2. நொதிகள்  
3. இண்டர்ஃபெரான்  
4. மோனோகுளோனல் ஆன்டிபாடிகள்

(A) 1 மற்றும் 2 சரி (B) 2 மற்றும் 3 சரி  
(C) 1, 2 மற்றும் 4 சரி **(D) 1,2,3 மற்றும் 4 சரி**

136. The percentage of Gold in 24-carat gold is  
(A) 75% **(B) 100%** (C) 91.6% (D) 50%  
24 கேரட் தங்கத்தில் உள்ள தங்கத்தின் சதவீதம்  
(A) 75% **(B) 100%** (C) 91.6% (D) 50%

137. Match the List I with List II and select the  
correct answer using the code given below the  
list :

**List I****List II**

- (a) Venus 1. Ringed planet  
(b) Saturn 2. Red planet  
(c) Uranus 3. Spins slowly backward  
(d) Mars 4. Rolling planet

(a) (b) (c) (d)  
**(A) 3 1 4 2**

(B) 3 1 2 4

(C) 1 3 2 4

(D) 2 4 1 3

பட்டியல் I-ஐ பட்டியல் II- உடன் பொருத்திக்ழே  
கொடுக்கப்பட்டுள்ள குறியீடுகளைக் கொண்டு  
சரியான விடையைத் தேர்ந்தெடு :

- பட்டியல் I** **பட்டியல் II**  
(a) வெள்ளி 1. வளையங்களுடன்  
கூடிய கோள்  
(b) சனி 2. சிவந்த கோள்  
(c) யுரேனஸ் 3. பின்புறமாக சுழலும்  
கோள்

(d) செவ்வாய் 4. உருளும் கோள்  
(a) (b) (c) (d)

**(A) 3 1 4 2**

(B) 3 1 2 4

(C) 1 3 2 4

(D) 2 4 1 3

138. Read the following statements and choose the  
correct answer :

1. The Neolithic period is followed by  
Chalcolithic period when Copper and  
Bronze came to be used.

2. The new technology of smelting metal ore is  
an important development

- (A) **1 and 2 are correct**  
(B) 1 is correct and 2 is correct  
(C) 1 and 2 are incorrect  
(D) 1 is correct and 2 is correct

கீழ்க்கொடுக்கப்பட்டு உள்ளவைகளை படித்து,  
சரியான விடையை தேர்வு செய்க.

1. புதிய கற்காலத்திற்கு பிறகு செம்பு காலம்  
துவங்கியது செம்பும், பித்தளையும்,  
உபயோகப்படுத்தப்பட்டது.

2. புதிய தொழில் நுட்பமான "உருக்கும் முறை"  
ஒரு முக்கிய வளர்ச்சியாக அமைந்தது.

- (A) **1 மற்றும் 2 சரியான கூற்று**  
(B) 1 சரியான கூற்று மற்றும் 2 தவறான  
கூற்றுகள்

(C) 1 மற்றும் 2 தவறான கூற்றுகள்

(D) 1 தவறான கூற்று மற்றும் 2 சரியான கூற்று

139. Match the List I with List II and select the  
correct answer using the code given below the  
list :

**List I - Rivers** **List II - Water Falls**

- (a) Cauvery 1. Yenna  
(b) Sharavati 2. Sivasumudram  
(c) Mahabaleswar 3. Dhuandhar  
(d) Narmada 4. Jog



**TNPSC**  
**VAO - GENERAL ENGLISH - 2012**

(a) (b) (c) (d)

- (A) 2 4 1 3  
(B) 4 3 2 1  
(C) 3 2 4 1  
(D) 1 3 2 4

பட்டியல் I-ஐ பட்டியல் II- உடன் பொருத்திசரியான விடையை தேர்ந்தெடுத்து அதற்கு முன் உள்ள குறியீட்டை வரிசைப்படுத்து

**பட்டியல் I- ஆறுகள்**      **பட்டியல் II- நீர்வீழ்ச்சி**

- (a) காவிரி      1. யன்னா  
(b) ஷராவதி      2. சிவசமுத்திரம்  
(c) மகாபலேஸ்வரர்      3. தான்தர்  
(d) நர்மதா      4. ஜோக்

(a) (b) (c) (d)

- (A) 2 4 1 3  
(B) 4 3 2 1  
(C) 3 2 4 1  
(D) 1 3 2 4

140. Which one of the following is a "Pathu Pattu" Book?

- (A) Pathirtru Pathu      (B) Paripadal  
(C) Patina Palai      (D) Puranauru

கீழ்வரும் நூல்களுள் பத்துப்பாட்டு நூல் எது?

- (A) பதிற்றுப்பத்து (B) பரிபாடல்  
(C) பட்டினப்பாலை (D) புறநானூறு

141. How many varieties of flowers are mentioned in "Kurinjipattu"?

- (A) 96      (B) 92      (C) 99      (D) 90

குறிஞ்சிப்பாட்டில் எத்தனை வகை மலர்கள் குறிப்பிடப்பட்டுள்ளன?

- (A) 96      (B) 92      (C) 99      (D) 90

142. Which Epic was written with the worship of nature in the beginning?

- (A) Valaiyapathi      (B) SeevagaCinthamani

(C) Silappathikaram      (D) Mani Megalai

இயற்கை வாழ்த்தோடு தொடங்கி எழுதப்பெற்ற காப்பியம் எது?

- (A) வளையாபதி      (B) சீவகசிந்தாமணி  
(C) சிலப்பதிகாரம்      (D) மணிமேகலை

143. Where is 'Prakui' language spoken?

- (A) Tamilnadu      (B) Balusisthanam  
(C) Rajmahal      (D) Bihar

பிராகுயி என்ற மொழி பேசப்படும் பகுதி எது?

- (A) தமிழ்நாடு      (B) பலுசிஸ்தானம்  
(C) இராஜ்காகால்      (D) பீகார்

144. Assertion (A) : X-rays are not deflected by electric and magnetic fields.

Reason (R) : X-rays do not have charged particles

- (A) (A) is correct (R) is wrong  
(B) (A) is wrong (R) is correct  
(C) (A) and (R) are wrong  
(D) (A) and (R) are correct

துணிவு (A) : X- கதிர்கள் மின் மற்றும் காந்தப் புலங்களால் விலக்கப்படுவதில்லை.

காரணம் (R) : X- கதிர்கள் மின்னூட்டம் அற்றவை.

- (A) (A) சரி (R) தவறு      (B) (A) தவறு (R) சரி  
(C) (A) மற்றும் (R) தவறு      (D) (A) மற்றும் (R) சரி

145. Match the List I with List II and select the correct answer using the code given below :

- |                 |                |
|-----------------|----------------|
| <b>List I</b>   | <b>List II</b> |
| (a) Amoeba      | 1. spores      |
| (b) Paramaecium | 2. flagellum   |
| (c) Euglena     | 3. pseudopodia |
| (d) Plasmodium  | 4. cilia       |



**TNPSC**  
**VAO - GENERAL ENGLISH - 2012**

(a) (b) (c) (d)

- (A) 3 4 2 1  
(B) 4 3 1 2  
(C) 1 2 3 4  
(D) 4 2 1 5

பட்டியல் I-ஐ பட்டியல் II- உடன் பொருத்திகீழே கொடுக்கப்பட்டுள்ள குறியீடுகளைக் கொண்டு சரியான விடையைத் தேர்ந்தெடு :

**பட்டியல் I**      **பட்டியல் II**

- (a) அயீபா      1. ஸ்போர்கள்  
(b) பாரமீசியம்      2. கசையிழை  
(c) யூக்ளிளா      3. போலிக் கால்கள்  
(d) பிளாஸ்மோடியம்      4. சிலியா

(a) (b) (c) (d)

- (A) 3 4 2 1  
(B) 4 3 1 2  
(C) 1 2 3 4  
(D) 4 2 1 3

146. Match the organs of UNO with their relative fields :

- |            |                         |
|------------|-------------------------|
| (a) UNIFEM | 1. Food and agriculture |
| (b) JAEA   | 2. Development of women |
| (c) UNFPA  | 3. Atomic energy        |
| (d) FAO    | 4. Population           |

(a) (b) (c) (d)

- (A) 2 3 4 1  
(B) 3 4 2 1  
(C) 2 1 3 4  
(D) 2 1 4 3

ஐ.நா. சபையின் கீழ்க்கண்ட நிறுவனங்களோடு அவற்றுடன் தொடர்புடைய செயல்பாடுகளை பொருத்துக :

- |            |                          |
|------------|--------------------------|
| (a) UNIFEM | 1. உணவு மற்றும் விவசாயம் |
| (b) IAFA   | 2. பெண்கள் முன்னேற்றம்   |
| (c) UNFPA  | 3. அணு ஆற்றல்            |
| (d) FAO    | 4. மக்கள் தொகை           |

(a) (b) (c) (d)

- (A) 2 3 4 1  
(B) 3 4 2 1  
(C) 2 1 3 4  
(D) 2 1 4 3

147. The highest inflow of Foreign Direct Investment of India (FDI) comes from

- (A) USA      (B) UK  
(C) Singapore      (D) Mauritius

இந்தியாவின் அந்நிய நேரடி முதலீடு கீழ்க்கண்ட எந்த நாட்டிலிருந்து அதிகமாக பெறப்படுகிறது?

- (A) USA (அமெரிக்க ஐக்கிய நாடு)  
(B) UK (ஐக்கிய அரசு)  
(C) சிங்கப்பூர்      (D) மொரிஷியஸ்

148. Which one of the following statement is wrong?

- (A) Great revolt took place during the period of Lord Canning  
(B) Census was taken during the period of Lord Rippon  
(C) Great Famine took place during the period of Lord Litton  
(D) First World War took place during the period of Lord Karzon

கீழ்க்கண்டவற்றில் தவறான கூற்று எது?

- (A) கானிங் பிரபு ஆட்சிக்காலத்தில் பெரும்புரட்சி ஏற்பட்டது  
(B) ரிப்பன் பிரபு ஆட்சிக்காலத்தில் மக்கள்தொகை கணக்கெடுப்பு துவக்கப்பட்டது  
(C) லிட்டன் பிரபு ஆட்சிக்காலத்தில் பெரும் பஞ்சம் ஏற்பட்டது  
(D) கர்சன் பிரபு ஆட்சிக்காலத்தில் முதல் உலகப்போர் ஏற்பட்டது

149. Which one of the following is correctly matched?



**TNPSC****VAO - GENERAL ENGLISH - 2012**

- (a) Amarasimman 1. Chinese Pilgrimage  
 (b) Varaga Battar 2. Ayur Vedha  
 (c) Dhanvanthivi 3. Dictionary  
 (d) Fahiyen 4. Sun, Earth

- (a) (b) (c) (d)  
 (A) 4 2 3 1  
 (B) 3 2 1 4  
 (C) 1 3 2 4  
 (D) 3 4 2 1

பின்வருவனவற்றுள் எது சரியாக பொருந்துகிறது?

- (a) அமரசிம்மன் 1. சீன தூதுவர்  
 (b) வராக பட்டர் 2. ஆயுர் வேதம்  
 (c) தன்வந்திரி 3. அகராதி  
 (d) பாகியான் 4. சூரியன்

- (a) (b) (c) (d)  
 (A) 4 2 3 1  
 (B) 3 2 1 4  
 (C) 1 3 2 4  
 (D) 3 4 2 1

150. Which one of the following is correctly matched?

1. Lion of Punjab - Lokamanyar  
 2. Swadeshi Movement - A.O. Hume  
 3. Bharathamatha Association - Nilakanta Bramachari  
 4. Home Rule Movement - W. C. Bannerjee

- (A) 1 (B) 2 (C) 3 (D) 4  
 கீழ்க்கண்டவற்றில் எது சரியாக பொருந்துகிறது?  
 1. பஞ்சாபின் சிங்கம் - லோகமான்யர்  
 2. சுதேசி இயக்கம் - A. O. ஹியூம்  
 3. பாரதமாதா சங்கம் - நீலகண்ட பிரமச்சாரி  
 4. தன்னாட்சி இயக்கம் - W. C. பானர்ஜி  
 (A) 1 (B) 2 (C) 3 (D) 4

151. Consider the following statements:

1. H<sup>+</sup> ion concentration is 0.001 m and pH value 3.  
 2. H<sup>+</sup> ion concentration is 0.01 m and pH value 1.

Which one of the statements given above is/are wrong?

- (A) (1) only (B) (2) only  
 (C) Both (1) and (2) (D) Neither (1) nor (2)

கீழ்க்கண்ட வாக்கியங்களை கவனிக்கவும் :

1. H<sup>+</sup> அயனியின் செறிவு 0.001 m எனில் pH மதிப்பு 3.  
 2. H<sup>+</sup> அயனியின் செறிவு 0.01 m எனில் pH மதிப்பு 1.

மேலே உள்ள வாக்கியங்களில் எவை தவறானது?

- (A) (1) மட்டும் (B) (2) மட்டும்  
 (C) (1) மற்றும் (2) (D) (1) மற்றும் (2) இல்லை

152. Match the following :

- (a) Mahatma Gandhi 1. Utopia  
 (b) Jawaharlal Nehru 2. A.D. 2000  
 (c) Thomas Moore 3. Discovery of India  
 (d) Dr. M. Varadharajan 4. My Experiments With Truth

- (a) (b) (c) (d)  
 (A) 2 3 4 1  
 (B) 3 2 1 4  
 (C) 1 2 3 4  
 (D) 4 3 1 2

பொருத்துக :

- (a) மகாத்மா காந்தி 1. உட்டோபியா  
 (b) ஜவஹர்லால் நேரு 2. கி.பி. 2000  
 (c) தாமஸ் மூர் 3. இந்தியாவின் கண்டுபிடிப்பு  
 (d) முனைவர் மு. வரதராஜன் 4. சத்திய சோதனை

- (a) (b) (c) (d)

**TNPSC****VAO - GENERAL ENGLISH - 2012**

- (A) 2 3 4 1  
 (B) 3 2 1 4  
 (C) 1 2 3 4  
 (D) 4 3 1 2

153. What is the use of Remote sensing satellites?

1. To guide ships  
 2. Estimation of crop yields  
 3. Used for radio and television  
 4. To measure clouds  
 (A) I and IV are correct (B) II is only correct  
 (C) III and IV are correct (D) IV is only correct  
 தொலை உணர்வு செயற்கை துணைக்கோளின் பயன் என்ன?

1. கப்பல்களை வழி நடந்த  
 2. விவசாய உற்பத்தியை மதிப்பிட  
 3. ரேடியோ மற்றும் தொலைகாட்சியில் பயன்படுகிறது  
 4. மேகங்களைக் கணக்கிட  
 (A) I மற்றும் IV சரி (B) II மட்டும் சரி  
 (C) III மற்றும் IV சரி (D) IV மட்டும் சரி

154. Which of the following four major emerging economies called 'BRIC'?

- (A) Brazil, Russia, Indonesia, China  
 (B) Brazil, Russia, India, China  
 (C) Brazil, Rumania, India, China  
 (D) Bangladesh, Russia, India, China  
 கீழ்க்கண்ட எந்த நான்கு வளரும் பொருளாதார நாடுகள் 'BRIC' என்று அழைக்கப்படுகின்றன?  
 (A) பிரேசில், ரஷ்யா, இந்தோனேசியா, சீனா  
 (B) பிரேசில், ரஷ்யா, இந்தியா, சீனா  
 (C) பிரேசில், ருமேனியா, இந்தியா, சீனா  
 (D) பங்களாதேஷ், ரஷ்யா, இந்தியா, சீனா

155. Antibodies collected from different organisms are used to get \_\_\_\_\_ type of immunity.

- (A) Artificial, Active immunity  
 (B) Artificial, Passive immunity  
 (C) Natural, Active immunity  
 (D) Natural, Passive immunity  
 பிற உயிரினமிருந்து பிரித்தெடுக்கப்பட்ட எதிர்ப்பொருள் மனிதருக்கு நோய்த் தடுப்பூசியாகப் போடப்படும் இது எவ்வகை தடுப்பு முறை?  
 (A) செயற்கையான, செயல்மிகு நோய் தடுப்பு முறை  
 (B) செயற்கையான, மந்தமான நோய் தடுப்பு முறை  
 (C) இயற்கையான செயல்மிகு நோய் தடுப்பு முறை  
 (D) இயற்கையான மந்தமான நோய் தடுப்பு முறை

156. Which one of the following vegetation is mostly found in the plateau regions of India?

1. Hill vegetation 2. Deciduous vegetation  
 3. Desert vegetation 4. Sunderbans  
 (A) I only (B) II only  
 (C) III only (D) Both I and II  
 இந்திய பீடபூமியில் அதிகமாக காணப்படும் தாவரம்

1. மலைத்தாவரங்கள்  
 2. இலையுதிர் தாவரங்கள்  
 3. பாலைவன தாவரங்கள்  
 4. சதுப்புநிலத் தாவரங்கள்  
 மேலே கொடுக்கப்பட்ட சொற்றொடரில் சரியான விடையை தேர்ந்தெடு :  
 (A) I மட்டும் (B) II மட்டும்  
 (C) III மட்டும் (D) I மற்றும் II

157. Indian Citizenship is acquired by  
 (A) Birth and Registration  
 (B) Nationalization and incorporation of a territory  
 (C) Only by descent



**TNPSC****VAO - GENERAL ENGLISH - 2012**

(D) All are correct

இந்திய குடியரிமையை எவ்வாறு பெறலாம்?

(A) பிறப்பு மற்றும் பதிவு மூலமாக

(B) இயற்கையாக மற்றும் ஏதேனும் ஒரு நிலப்பரப்பு

இணைவது மூலமாக

(C) வம்ச வழியில் மட்டும்

(D) மேற்கூறிய அனைத்தும் சரியே

(C) Panchali Sapadham (D) Manon Maniyam

‘நீராருங் கடலுடுத்த நிலமடந்தைக்

கெழிலொழுகும்’ - தமிழ்த்தாய் வாழ்த்து

இடம்பெற்றுள்ள நூல் எது?

(A) திருக்குறள் (B) தொல்காப்பியம்

(C) பாஞ்சாலி சபதம் (D) மனோன்மனியம்

**158.** Match List I with List II correctly and select your answer using the codes given below :**List I**

- (a) Phodou  
(b) Dhokri  
(c) Konkani  
(d) Mythili

(a) (b) (c)

- (A) 2 3 1  
(B) 3 1 4  
(C) 1 2 4  
(D) 4 3 2

**List II**

1. Jammu and Kashmir  
2. Bihar  
3. Assam  
4. Goa

(d)

- 4  
2  
3  
1

பட்டியல் I-ஐ பட்டியல் II-உடன் பொருத்தி, கீழே கொடுக்கப்பட்டுள்ள குறியீடுகளைக் கொண்டு சரியான விடையைத் தேர்ந்தெடு :

**பட்டியல் I**

- (a) போடோ  
(b) டோக்ரி  
(c) கொங்கனி  
(d) மைதிலி

(a) (b) (c)

- (A) 2 3 1  
(B) 3 1 4  
(C) 1 2 4  
(D) 4 3 2

**பட்டியல் II**

1. ஜம்மு மற்றும் காஷ்மீர்  
2. பீகார்  
3. அசாம்  
4. கோவா

(d)

- 4  
2  
3  
1

**159.** “Nerarum Kadaludutha Nelamadanthai Ezilozigum” - Whivh one of the following book contain these Tamilthai Vazthu Padal?

(A) Thirukkural (B) Tholkappiyam

**160.** Which one of the following events connected with 1857 revolt is correctly matched?

1. Proclaimed as the Emperor of India during the revolt 1857 - Bahadur Shah II  
2. Kanpur was recaptured by - Commander Johnson  
3. Hanged on charges of Rebellion - Rani Lakshmi Ba  
4. One of the lieutenants of Begums of Oudh - Tantia Tope

(A) 1 (B) 2 (C) 3 (D) 4

1857 கலகம் தொடர்பான நிகழ்வுகளில் கீழ்க்கண்டவற்றில் எது சரியாகப் பொருந்துகிறது?

1. 1857 கலகத்தின் போது இந்தியாவின் பேரரசராக அறிவிக்கப்பட்டார் - இரண்டாம் பகதூர் ஷா  
2. கான்பூரை மீண்டும் கைப்பற்றினார் - பிரிட்டிஷ் தளபதி ஜான்சன்  
3. கிளர்ச்சியில் ஈடுபட்டதற்காக தூக்கிலிடப்பட்டார் - இராணி லட்சுமி பாய்  
4. அயோத்தி பேசும்களின் படைத் தலைவர்களில் ஒருவர் - தாந்தியா தோபே

(A) 1 (B) 2 (C) 3 (D) 4

**161.** Which one of the following pair is correctly matched?

1. Saranath - Buddha's birth place

**TNPSC****VAO - GENERAL ENGLISH - 2012**

2. Lumbini - Buddha got enlightenment

3. Bodh Gaya - First Sermon

4. Kusi Nagar - Buddha's death place

(A) I (B) II (C) III (D) IV  
கீழ்க்கொடுக்கப்பட்டுள்ளவற்றுள் எது மிகச் சரியாக பொருந்துகிறது?

1. சாரநாத் - புத்தர் பிறந்த இடம்

2. லும்பினி - புத்தர் ஞானம் பெற்ற இடம்

3. புத்தகயா - முதல் போதனை

4. குஷிநகர் - புத்தர் இறந்த இடம்

(A) I (B) II (C) III (D) IV

**162.** Consider the following table :

Year :	2008	2009	2010	2011
Sales (crores) :	15	25	32	54

The year in which the sales registered a sharp increase over that of the preceding year is

(A) 2008 (B) 2009 (C) 2010 (D) 2011

கீழ்க்காணும் அட்டவணையை கவனம் கொள்க.

வருடம்	: 2008	2009	2010	2011
விற்பனை (கோடியில்) :	15	25	32	54

எந்த வருடம், அதன் முந்தைய வருடத்தைக் காட்டிலும் விற்பனை மிக அதிகரித்துள்ளது?

(A) 2008 (B) 2009 (C) 2010 (D) 2011

**163.** In an examination for every correct answer 2 marks are awarded for every wrong answer  $\frac{1}{2}$ 

mark is reduced. If a student answer all 120 questions and secures 45 marks then the no. of correct answered questions is

(A) 45 (B) 42 (C) 36 (D) 38

ஒரு தேர்வில் ஒவ்வொரு சரியான விடைக்கு இரண்டு மதிப்பெண்கள் வழங்கப்படுகிறது.

ஒவ்வொரு தவறான விடைக்கு  $\frac{1}{2}$  மதிப்பெண் குறைக்கப்படுகிறது. ஒரு மாணவன் அனைத்து 120 வினாக்களுக்கும் விடையளித்து 45 மதிப்பெண்களைப் பெறுகிறான் எனில், சரியாக விடையளித்த வினாக்களின் எண்ணிக்கை

(A) 45 (B) 42 (C) 36 (D) 38

**164.** Bio-chemically significant enzymes are drived from \_\_\_\_\_

(A) macrobes (B) microbes

(C) insuli (D) protein

உயிரி வேதியியல் முறையில் எந்த என்சைம் பிரித்தெடுக்கப்பட்டது?

(A) மேக்ரோபெஸ் (B) மைக்ரோபைஸ்

(C) இன்சலின் (D) புரதம்

**165.** Find x in

5	9	6	84
7	3	7	70
8	6	4	56
5	x	3	36

(A) 4 (B) 7 (C) 9 (D) 3

x இன் மதிப்பு காண்க

5	9	6	84
7	3	7	70
8	6	4	56
5	x	3	36

(A) 4 (B) 7 (C) 9 (D) 3

**166.** Choose the correct order of hierarchy in the classification of animals :

(A) Class - genus - species - order

(B) Order - species - class - genus

(C) Class - - order - genus - species

**TNPSC****VAO - GENERAL ENGLISH - 2012**

(D) Species - class - genus - order  
விலங்குகளை வகைப்படுத்தும் முறையில் சரியான படிநிலை அமைப்பை எழுதுக :

- (A) வகுப்பு - இனம் - சிறப்பினம் - வரிசை  
(B) வரிசை - சிறப்பினம் - வகுப்பு - இனம்  
(C) வகுப்பு - வரிசை - இனம் - சிறப்பி  
(D) சிறப்பினம் - வகுப்பு - இனம் - வரிசை

167. Right atrium of our heart receives blood from \_\_\_\_\_ blood vessel.

- (A) pulmonary vein (B) vena cava  
(C) aorta (D) pulmonary trunk

மனித இதயத்தின் வலது ஏட்ரிய அறை \_\_\_\_\_ இரத்த நாளம் மூலம் இரத்தத்தை பெறுகின்றது.

- (A) நுரையீரல் சிரை (B) பெருஞ்சிரைகள்  
(C) பெருந்தமனி (D) நுரையீரல் முக்கிய தமனி

168. Colloids play an important role in our daily life. Identify the colloid in which liquid is dispersed in solid

- (A) Curd (B) Indian ink  
(C) Milk (D) Paint

கூழ்மங்கள் என்பது நம் அன்றாட வாழ்வில் மிகவும் முக்கியத்துவம் வாய்ந்தது. கீழ்க்காணும் எக்கூழ்மத்தில் திண்மத்தினுள் திரவம் காணப்படுகிறது

- (A) தயிர் (B) இந்தியன் இங்க்  
(C) பால் (D) பெயின்ட்

169. The largest tropical Savanna grass land are seen in

- (A) Australia (B) Africa  
(C) Asia (D) America

மிகப்பெரிய அயனமண்டல சவானா புல்வெளி காணப்படுவது

- (A) ஆஸ்திரேலியா (B) ஆபிரிக்கா  
(C) ஆசியா (D) அமெரிக்கா

170. The chairman of the union public service commission is appointed by

- (A) The President (B) The Prime Minister  
(C) The Chief Minister (D) The Governor

மத்திய பணியாளர் தேர்வாணையத்தின் தலைவரையாரால் நியமிக்கப்படுகிறார்?

- (A) குடியரசுத் தலைவர் (B) பிரதம அமைச்சர்  
(C) முதலமைச்சர் (D) ஆளுநர்

171. Which one of the following is not considered as a method of calculating National Income?

- (A) Product method (B) Income method  
(C) Budget method (D) Expenditure method

பின்வருவனவற்றுள் எது நாட்டு வருமானத்தைக் கணக்கிடும் சரியான முறை அல்ல என்று தேர்ந்தெடுக்கவும்?

- (A) உற்பத்தி முறை (B) வருமான முறை  
(C) வரவு செலவு திட்ட முறை (பட்ஜெட் முறை)  
(D) செலவின முறை

172. Match the following Indian towns with their Industrial product.

- |                |                   |
|----------------|-------------------|
| (a) Ahmedabad  | 1. Tea Processing |
| (b) Kolkata    | 2. Cotton Textile |
| (c) Darjeeling | 3. Glass Industry |
| (d) Firoza bad | 4. Jute Industry  |

- |       |     |     |     |
|-------|-----|-----|-----|
| (a)   | (b) | (c) | (d) |
| (A) 4 | 3   | 2   | 1   |
| (B) 3 | 4   | 1   | 2   |
| (C) 2 | 1   | 3   | 4   |
| (D) 2 | 4   | 1   | 3   |

**TNPSC****VAO - GENERAL ENGLISH - 2012**

கீழ்க்கண்ட இந்திய நகரங்களை அவற்றோடு தொடர்புடைய தொழில்களோடு பொருத்துக :

- |                |                           |
|----------------|---------------------------|
| (a) அகமதாபாத்  | 1. தேயிலைப்பதப்படுத்துதல் |
| (b) கொல்கத்தா  | 2. பஞ்சாலைத் தொழில்       |
| (c) டார்ஜிலிங் | 3. கண்ணாடித் தொழில்       |
| (d) பிரோஜாபாத் | 4. சணல் தொழில்            |

- |       |     |     |     |
|-------|-----|-----|-----|
| (a)   | (b) | (c) | (d) |
| (A) 4 | 3   | 2   | 1   |
| (B) 3 | 4   | 1   | 2   |
| (C) 2 | 1   | 3   | 4   |
| (D) 2 | 4   | 1   | 3   |

173. A hemisphere and cone have equal bases and equal height. Then their volumes be in the ratio

- (A) 2 : 1 (B) 1 : 2 (C) 3 : 2 (D) 2 : 3

ஒரு அரைக்கோளமும், கூம்பும் ஒரே அடிப்பக்கமும், ஒரே உயரமும் பெற்றிருப்பின் அவற்றின் கன அளவுகளின் விகிதம்

- (A) 2 : 1 (B) 1 : 2 (C) 3 : 2 (D) 2 : 3

174. Match List I and List II and select the correct answer using the code given below the lists :

- |                 |   |
|-----------------|---|
| <b>List I</b>   | <b>List II</b>  |
| (a) Horn silver | 1. MgCO <sub>3</sub> CaCO <sub>3</sub>                |
| (b) Argmtite    | 2. AgCl   |
| (c) Bauxite     | 3. Ag <sub>2</sub> S                                  |
| (d) Dolomite    | 4. Al <sub>2</sub> O <sub>3</sub> · 2H <sub>2</sub> O |

- Codes :
- |       |     |     |     |
|-------|-----|-----|-----|
| (a)   | (b) | (c) | (d) |
| (A) 2 | 4   | 1   | 3   |
| (B) 2 | 3   | 4   | 1   |
| (C) 3 | 2   | 4   | 1   |
| (D) 3 | 1   | 2   | 4   |

வரிசை I மற்றும் வரிசை II ஆகியவற்றை, கொடுக்கப்பட்ட குறியீடுகளை பயன்படுத்தி சரியாக பொருத்துக :

- |                    |  |
|--------------------|--|
| <b>வரிசை I</b>     | <b>வரிசை II</b>                          |
| (A) ஹார்ன் சில்வர் | 1. MgCO <sub>3</sub> · CaCO <sub>3</sub> |

- (B) அர்ஜென்டைட் 2. AgCl  
(C) பாக்கைட் 3. Ag<sub>2</sub>S  
(D) டோலமைட் 4. Al<sub>2</sub>O<sub>3</sub> · 2H<sub>2</sub>O

- குறியீடுகள் :
- |       |     |     |     |
|-------|-----|-----|-----|
| (a)   | (b) | (c) | (d) |
| (A) 2 | 4   | 1   | 3   |
| (B) 2 | 3   | 4   | 1   |
| (C) 3 | 2   | 4   | 1   |
| (D) 3 | 1   | 2   | 4   |

175. Which one of the following is correctly matched?

- (A) International Atomic Energy Agency : Geneva  
(B) International Labour Organisation : Madrid, Spain

- (C) United Nations University : Japan  
(D) World Tourism Organisation : Vienna

- கீழ்க்கண்டவற்றில் எது சரியாக பொருந்துகிறது?  
(A) சர்வதேச அணுசக்தி அமைப்பு : ஜெனிவா  
(B) உலக தொழிலாளர் அமைப்பு : மேட்டரைட், ஸ்பெயின்  
(C) ஐக்கிய நாடுகளின் பஸ்கலைக்கழகம் : ஜப்பான்  
(D) உலக சுற்றுலா அமைப்பு : வியன்னா

176. Energy is stored as which molecule in mitochondria so that it is known as 'Energy Currency' of the cell

1. Glucose 2. Proteing  
3. ATP 4. ADP

- (A) 1 and 2 (B) Only 3  
(C) Only 4 (D) 3 and 4

ஆற்றல் பின்வரும் எந்த மூலக்கூறு வடிவில் மைட்டோகாண்டிரியாவில் சேமிக்கப்படுகிறது. இது செல்லின் ஆற்றல் நாணயம் எனப்படுகிறது.

1. குளுக்கோஸ் 2. புரதம்  
3. ATP 3. ADP

**TNPSC****VAO - GENERAL ENGLISH - 2012**

- (A) 1 மற்றும் 2 சரி (B) 3 மட்டும் சரி  
(C) 4 மட்டும் சரி (D) 3 மற்றும் 4 சரி

177. Which one of the following districts where natural gas is available in Tamil Nadu?

- (A) Trichy (B) Salem  
(C) Dharmapuri (D) Tanjore

தமிழ்நாட்டில் எந்த மாவட்டத்தில் இயற்கை எரிவாயு கிடைக்கிறது?

- (A) திருச்சி (B) சேலம்  
(C) தர்மபுரி (D) தஞ்சாவூர்

178. Island's of Pacific Ocean is called as "Ring of Fire" because -

Consider the statements

1. Volcanic island's are in large numbers.  
2. Majority of volcanoes are active.

Select the correct answer using the given codes :

- (A) 1 only (B) 2 only  
(C) Both 1 and 2 (D) Neither 1 nor 2

பசுபிக் பெருங்கடலில் உள்ள தீவு கூட்டங்களை "நெருப்பு வளையம்" என அழைக்கிறோம் ஏனெனில்

1. எரிமலைகளுள் தீவுக்கூட்டங்கள் ஏராளமாக உள்ளது.

2. பெரும்பாலான எரிமலைகள் செயல்படும் எரிமலைகளாகும்.

கொடுக்கப்பட்டுள்ள குறியீட்டை பயன்படுத்தி சரியான விடையைத் தேர்ந்தெடு :

- (A) 1 மட்டும் (B) 2 மட்டும்  
(C) 1 மற்றும் 2 (D) 1 இல்லையென்றால் 2

179. The Consumer Protection Act 1986 - covers

- (A) Goods and services relating to private sector only

(B) Goods and services relating to public sector only

(C) Goods and services relating to private public and cooperative sector

(D) Goods and services relating to Government only

நுகர்வோர் பாதுகாப்புச் சட்டம் 1986, எதற்கானது?

(A) தனியார் துறை சார்ந்த பொருள் மற்றும் சேவை தொடர்பானது

(B) அரசுத் துறை சார்ந்த பொருள் மற்றும் சேவை தொடர்பானது

(C) அரசு, தனியார் மற்றும் கூட்டுறவு துறை சார்ந்த பொருள் மற்றும் சேவை தொடர்பானது

(D) அரசாங்க பொருள் மற்றும் சேவைக்கானது

180. Match List I with List II :

**List I - States**

**List II - Number of State Assembly Seats**

- (a) Andhra Pradesh 1. 140  
(b) Karnataka 2. 234  
(c) Tamil Nadu 3. 224  
(d) Kerala 4. 294

(a) (b) (c) (d)

(A) 4 3 2 1

(B) 2 3 4 1

(C) 4 3 1 2

(D) 1 3 4 2

பட்டியல் I பட்டியல் II பொருத்துக :

பட்டியல் I-மாநில அரசு பட்டியல் II-மாநில அவையின் உறுப்பினர் எண்ணிக்கை

(a) ஆந்திர பிரதேஷ் 1. 140

(b) கர்நாடகா 2. 234

(c) தமிழ்நாடு 3. 224

**TNPSC****VAO - GENERAL ENGLISH - 2012**

- (d) கேரளா 4. 294

(a) (b) (c) (d)

(A) 4 3 2 1

(B) 2 3 4 1

(C) 4 3 1 2

(D) 1 3 4 2

181. Match the following :

(a) Agro based industry 1. Iron and Steel industry

(b) Forest based industry 2. Television

(c) Mineral based industry 3. Paper industry

(d) Electronic industry 4. Cotton textile industry

(a) (b) (c) (d)

(A) 4 3 1 1

(B) 4 2 1 3

(C) 1 3 4 2

(D) 1 4 3 2

பொருத்துக :

(a) வேளாண் சார்ந்த தொழில் 1. இரும்பு, எஃகு தொழிற்சாலை

(b) வனம் அல்லது காடு சார்ந்த தொழில் 2. தொலைக்காட்சி

(c) கனிம வளம் சார்ந்த தொழில் 3. காகித ஆலை

(d) மின்னியல் தொழில் 4. பருத்தி ஆலை

(a) (b) (c) (d)

(A) 4 3 1 1

(B) 4 2 1 3

(C) 1 3 4 2

(D) 1 4 3 2

182. Which one of the following articles prohibits the employment of children below the age of 14 in any factory or mine?

(A) Article 23 (B) Article 24

(C) Article 21 A (D) Article 64

கீழ்க்கண்டவற்றுள் எந்த அரசியலமைப்பு விதியின்படி 14 வயதுக்கு உட்பட்ட சிறுவர்களை தொழிற்சாலை மற்றும் சுரங்க வேலைகளில் அமர்த்துவது தடை செய்யப்பட்டுள்ளது

(A) விதி 23 (B) விதி 24

(C) விதி 21 A (D) விதி 64

183. Match List I with List II correctly and select your answer using the codes given below :

**List I**

**List II**

- (a) Pyrometer 1. Pressure of gases  
(b) Lactometer 2. High temperature  
(c) Manometer 3. Intensity of light  
(d) Photometer 4. Density of milk

(a) (b) (c) (d)

(A) 4 3 1 2

(B) 2 4 1 3

(C) 2 4 3 1

(D) 3 4 2 1

பட்டியல் I-ஐ பட்டியல் II-உடன் பொருத்தி கீழே கொடுக்கப்பட்டுள்ள குறியீடுகளைக் கொண்டு சரியான விடையைத் தேர்ந்தெடு :

**பட்டியல் I**

**பட்டியல் II**

- (a) பைரோ மீட்டர் 1.வாயுக்களின் அழுத்தம்  
(b) லாக்டோ மீட்டர் 2. உயர் வெப்பநிலை  
(c) மேனோ மீட்டர் 3. ஒளியின் செறிவு  
(d) போட்டோ மீட்டர் 4. பாலின் அடர்த்தி

(a) (b) (c) (d)

(A) 4 3 1 2

(B) 2 4 1 3

**TNPSC****VAO - GENERAL ENGLISH - 2012**

- (C) 2 4 3 1  
(D) 3 4 2 1

184. The price of a commodity becomes 16 times in a period of 4 years. The percentage increase per year is

- (A) 100 (B) 40 (C) 60 (D) 20

ஒரு பொருளின் விலை 4 வருடங்களில் 16 மடங்காகிறது எனின். வருடாந்திர சதவீத உயர்வு  
(A) 100 (B) 40 (C) 60 (D) 20

185. Green House effect is due to increase in

1. Carbon-di-oxide 2. Nitrous oxide  
3. Methane 4. Sulphur-di-oxide

(A) 1 is correct (B) 1 and 2 correct

(C) 1, 2 and 3 correct (D) All are correct

பின்வருவனவற்றுள் எதன் அதிகரிப்பின் விளைவால் கண்ணாடி வீடு விளைவு நடைபெறும்?

1. கார்பன்-டை-ஆக்சைடு  
2. நைட்ரஸ் ஆக்சைடு  
3. மீத்தேன்  
4. சல்பர்-டை-ஆக்சைடு

(A) 1 மட்டும் சரி (B) 1 மற்றும் 2 சரி

(C) 1, 2 மற்றும் 3 சரி (D) எல்லாம் சரி

186. Optical fibres are used as medium for telecommunications. It is made from

- (A) dispersion glass (B) Nylon fibre  
(C) Thin copper wire (D) Plastic wire

ஒளியியற் இழைகள் தொலைபேக்குவரத்திற்கு ஊடகமாக அமைகிறது. அவ்விழைகள் எதிலிருந்து தயாரிக்கப்படுகிறது என்றால்

- (A) சிதறடிக்கப்பட்ட கண்ணாடி  
(B) நைலான் இழைகள்  
(C) மெல்லிய தாமிர கம்பி  
(D) பிளாஸ்டிக் இழைகள்

187. Match Column A with Column B.

**Column A**

- (A) Formic acid  
(B) Acetic acid  
(C) Lactic acid  
(D) Butyric acid

(a) (b) (c) (d)

(A) 3 4 1 2

(B) 3 1 4 2

(C) 2 3 4 1

(D) 4 3 1 2

கலம் 'அ' பின்வருவனவற்றினை சரியாக கலம் 'ஆ' வுடன் பொருத்துக.

**கலம் 'அ'**

- (a) பார்மிக் அமிலம்  
(b) அசிட்டிக் அமிலம்  
(c) லாக்டிக் அமிலம்  
(d) பியூட்டிக் அமிலம்

(a) (b) (c) (d)

(A) 3 4 1 2

(B) 3 1 4 2

(C) 2 3 4 1

(D) 4 3 1 2

**Column B**

1. Vinegar  
2. Butter  
3. Red ant  
4. Milk

**கலம் 'ஆ'**

1. வினிகர்  
2. வெண்ணெய்  
3. சிவப்பு எறும்பு  
4. பால்

188. Match List I and II correctly and select your answer using the codes given below :

**List I**

- (a) De- Broglie  
(b) Heisenberg  
(c) Einstein  
(d) Dalton

(a) (b) (c) (d)

(A) 2 3 1 4

**List II**

1. E = mc<sup>2</sup>  
2. Atomic theory  
3. Wave nature of particles

4.  $\Delta H, \Delta P, \geq \frac{h}{4\pi}$

(a) (b) (c) (d)

(A) 2 3 1 4

**TNPSC****VAO - GENERAL ENGLISH - 2012**

- (B) 2 1 3 4  
(C) 3 4 1 2  
(D) 3 4 2 1

பொருத்துக : வகை 1 மற்றும் 2 சரியாக குறிப்பு எண்களை பயன்படுத்தி பொருத்துக.

**வகை 1**

- (a) டி-பிராக்ளே  
(b) ஹெய்சன் பெர்க்  
(c) ஐன்ஸ்டீன்

(d) லால்டன்

(a) (b) (c) (d)

(A) 2 3 1 4

(B) 2 1 3 4

(C) 3 4 1 2

(D) 3 4 2 1

**வகை 2**

1. E = mc<sup>2</sup>  
2. அணுகொள்கை  
3. துகளின் அலைப்பண்பு

4.  $\Delta H, \Delta P, \geq \frac{h}{4\pi}$

189. Which of the following is incorrectly matched?

- (A) Rusting - Ferrous ion to ferric ion  
(B) Decarboxylation - Removal of acid group  
(C) Combustion - Addition of hydrogen  
(D) Fermentation - Glucose to ethanol

பின்வருவனவற்றில் பொருந்தாதது எது?

- (A) துருப்பிடித்தல் - பெர்ரஸ் அயனி பெர்ரிக் அயனியாக மாறுதல்  
(B) கார்பாக்சில் நீக்க வினை - அமிலத் தொகுதியை நீக்குதல்  
(C) எரிதல் - ஹைட்ரஜனைச் சேர்த்தல்  
(D) நொதித்தல் - குளுக்கோஸ் எத்தனால் ஆக மாறுதல்

190. Inflation denotes the following situation

- (A) Price level rises - money value falls  
(B) Price level rises - money value rises  
(C) Price level falls - money value falls  
(D) Price level falls - money value rises

பணவீக்கம் கீழ்க்கண்ட நிலையைக் குறிக்கும்

- (A) விலைவாசி உயர்வும் - பணத்தின் மதிப்பு வீழ்ச்சியும்  
(B) விலைவாசி உயர்வும் - பணத்தின் மதிப்பு உயர்வும்  
(C) விலைவாசி வீழ்ச்சியும் - பணத்தின் மதிப்பு வீழ்ச்சியும்  
(D) விலைவாசி வீழ்ச்சியும் - பணத்தின் மதிப்பு உயர்வும்

191. Which metal will melt on palm of the hand?

- (A) Mercury (B) Gold  
(C) Gallium (D) Silver

உள்ளங்கையில் வைக்கும்போது உருக்கூடிய உலோகம் எது?

- (A) பாதரசம் (B) தங்கம்  
(C) காலியம் (D) வெள்ளி

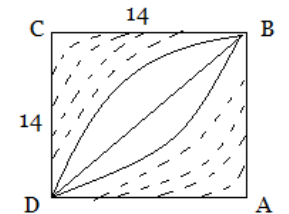
192. Which one of the following rocks belongs to Sedimentary Rock?

- (A) Basalt (B) Limestone  
(C) Marble (D) Slate

கொடுக்கப்பட்டுள்ள பாறைகளில் படிவுப்பாறை வகையைச் சார்ந்த பாறை எது?

- (A) பசால்ட் (B) சுண்ணாம்புப் பாறை  
(C) பளிங்குப் பாறை (D) சிலேட்

193. In the adjoining figure the arcs  $\overline{BD}$ , have A and C as centres. Find the area of shaded portions.

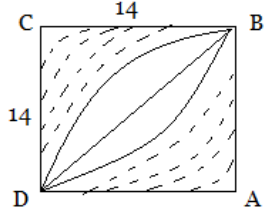


- (A) 82 (B) 72 (C) 42 (D) 84



**TNPSC****VAO - GENERAL ENGLISH - 2012**

கொடுக்கப்பட்டுள்ள படத்தில் வட்ட வில்கள்  $\overline{BD}$  - யின் மையங்கள் A மற்றும் C எனில், நிழலிட்ட பகுதியின் பரப்பு காண்க.



- (A) 82 (B) 72 (C) 42 (D) 84

194. Consider the following statements :

Assertion (A): There are more female terracotta figurines than those of male in Indus Valley Civilization.

Reason (R) : Women enjoyed a superior position in the Harappan age.

- (A) Both (A) and (R) are true and (R) is the correct explanation for (A)  
 (B) Both (A) and (R) are true and (R) is not the correct explanation for (A)  
 (C) (A) is true, (R) is false  
 (D) (A) is false, (R) is true

கீழ்க்கண்ட வாக்கியங்களைக் கவனி :

கூற்று (A) : சிந்து சமவெளி நாகரீக கடுமட்பாண்டங்களில் ஆண் உருவத்தை விட பெண் உருவங்கள் அதிகமாக அமைந்துள்ளன.

காரணம் (R) : ஹரப்பா காலத்தில் பெண்கள் மேம்பட்ட நிலையில் இருந்தனர்.

- (A) (A) மற்றும் (R) இரண்டும் சரி. மேலும் (R) என்பது (A)-விற்கு சரியான விளக்கம்  
 (B) (A) மற்றும் (R) இரண்டும் சரி. மேலும் (R) என்பது (A)-விற்கு சரியான விளக்கமல்ல  
 (C) (A) சரி, (R) தவறு  
 (D) (A) தவறு, (R) சரி

195. Match List I and List II correctly and select your answer using the codes given below :

**List I**

- (a) Bauxite  
 (b) Galena  
 (c) Pitch Blende  
 (d) Rutile

**List II**

1. Uranium  
 2. Titanium  
 3. Aluminium  
 4. Lead

- (a) (b) (c) (d)  
 (A) 3 4 2 1  
 (B) 3 4 1 2  
 (C) 4 3 1 2  
 (D) 2 1 4 3

பட்டியல் I-ஐ பட்டியல் II-உடன் பொருத்தி கீழே கொடுக்கப்பட்டுள்ள குறியீடுகளைக் கொண்டு சரியான விடையை தேர்ந்தெடு :

**பட்டியல் I**

- (a) பாக்கைட்  
 (b) கல்னா  
 (c) பிட்ச் பிளண்ட்  
 (d) ரூடைல்

**பட்டியல் II**

1. யுரேனியம்  
 2. டைட்டேனியம்  
 3. அலுமினியம்  
 4. லெட்

- (a) (b) (c) (d)  
 (A) 3 4 2 1  
 (B) 3 4 1 2  
 (C) 4 3 1 2  
 (D) 2 1 4 3

196. Match List I and List II correctly and select your answer using the codes given below :

(A) Service to Poor is service to God

- (B) Suddhi Movement  
 (C) Jceva Karunya

(D) Dharma Paribalana Yogam

1. Sri Narayana Guru  
 2. Ramalinga Vallalar  
 3. Vivekanandar  
 4. Swami Dhayananda Saraswathi

**TNPSC****VAO - GENERAL ENGLISH - 2012**

(a) (b) (c) (d)

- (A) 2 3 1 4  
 (B) 2 4 1 3  
 (C) 3 4 2 1  
 (D) 3 2 1 4

பட்டியல் I-ஐ பட்டியல் II-உடன் பொருத்தி கீழே கொடுக்கப்பட்டுள்ள குறியீடுகளைக் கொண்டு சரியான விடையை தேர்ந்தெடு :

(a) மக்கள் தொண்டே மகேசன் தொண்டு

- (b) கத்தி இயக்கம்  
 (c) ஜீவ காருண்யம்  
 (d) தர்ம பரிபாலன யோகம்
1. ஸ்ரீநாராயண குரு  
 2. இராமலிங்க வள்ளலார்  
 3. விவேகானந்தர்  
 4. சுவாமி தயானந்த சரஸ்வதி

(a) (b) (c) (d)

- (A) 2 3 1 4  
 (B) 2 4 1 3  
 (C) 3 4 2 1  
 (D) 3 2 1 4

197. Which one of the following is correctly matched?

1. Atmiya Sabha - Olcott  
 2. Young Bengal Movement - Raja Ram Mohan Roy  
 3. Nirankari Movement - Henry Vivian Derozio  
 4. Ghader Party - Lala Har Dyal
- (A) 1 (B) 2 (C) 3 (D) 4

கீழ்க்கண்டவற்றில் எது சரியாக பொருந்துகிறது?

1. ஆத்மிய சபை - ஆல்காட்  
 2. இளம் வங்காள இயக்கம் - இராஜாராம் மோகன்ராய்

3. நிரங்காரி இயக்கம் - ஹென்றி விவியன் டெரோசா  
 4. காந்தர் கட்சி - லாலா ஹர்தயால்
- (A) 1 (B) 2 (C) 3 (D) 4

198. Who has written the Drama 'Thanneer Thanneer'?

- (A) Komal Swaminathan  
 (B) Bala Chandar  
 (C) Anna Durai  
 (D) Pammal Sambantha Mudhaliyar
- 'தண்ணீர் தண்ணீர்' என்ற நாடக நூலின் ஆசிரியர் யார்?  
 (A) கோமல் சாமிநாதன் (B) பாலச்சந்தர்  
 (C) அண்ணாதுரை (D) பம்மல் சம்பந்த முதலியார்

199. Match List I and List II correctly and select your answer using the codes given below :

**List I**

- (a) Veerama munivar  
 (b) Kalduvel  
 (c) G.U.Pope  
 (d) Scegan Palku Iyer

**List II**

1. Achupani  
 2. Sathuragarathi  
 3. Oppilakkanam  
 4. Translation of Tirukkural

- (a) (b) (c) (d)  
 (A) 2 3 4 1  
 (B) 1 3 4 2  
 (C) 3 4 1 2  
 (D) 2 4 3 1

பட்டியல் I-ஐ பட்டியல் II-உடன் பொருத்தி கீழே கொடுக்கப்பட்டுள்ள குறியீடுகளைக் கொண்டு சரியான விடையை தேர்ந்தெடு :

- பட்டியல் I**  
 (a) வீரமாமுனிவர்  
 (b) கால்டுவெல்
- பட்டியல் II**  
 1. அச்சுப்பணி  
 2. சதுரகராதி





**TNPSC**

**VAO - GENERAL ENGLISH - 2012**

- (c) ஜி.யூ.போப் 3. ஒப்பிலக்கணம்  
(d) சீகன் பால்கு ஐயர் 4. திருக்குறள்  
மொழிபெயர்ப்பு
- (a) (b) (c) (d)
- (A) 2 3 4 1  
(B) 1 3 4 2  
(C) 3 4 1 2  
(D) 2 4 3 1

**200.** Where in Tamilnadu, a bench of the Madras High Court is situated?

- (A) Chennai (B) Coimbatore  
(C) Trichy (D) Madurai

தமிழ்நாட்டில், சென்னை உயர்நீதி மன்றத்தின் கிளை எங்கு அமையப்பெற்றுள்ளது?

- (A) சென்னை (B) கோயம்புத்தூர்  
(C) திருச்சி (D) மதுரை

