

TNPSC

General Knowledge - 2013

1. Consider the following statements :
1. The closure of Atrio ventricular valves result in "lubb" sound.
 2. The closure of semilunar valves result in "dubb" sound.

Choose the right answer.

- (A) (1) is correct and (2) is wrong
 (B) (1) is wrong and (2) is correct
 (C) Both (1) and (2) are wrong
 (D) Both (1) and (2) are correct

கீழ்க்கண்ட வாக்கியங்களைக் கவனி :

1. ஏட்டியோ வென்டிரிகுலார் வால்வுகள் மூடுவதால் "லப்" என்ற ஒலி தோன்றுகிறது.
2. அரைச் சந்திர வால்வுகள் மூடுவதால் "டப்" என்ற ஒலி தோன்றுகிறது.

சரியான விடையைத் தேர்ந்தெடுக்கவும்.

- (A) (1) சரி (2) தவறு
 (B) (1) தவறு (2) சரி
 (C) (1) மற்றும் (2) தவறு
 (D) (1) மற்றும் (2) சரி

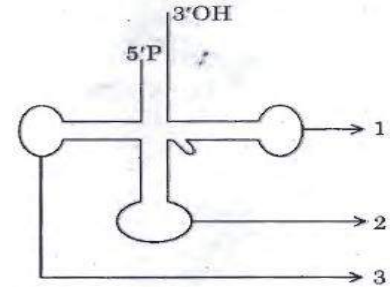
2. Name the vitamin and mineral necessary for blood clotting

- (A) Vitamin D and Calcium
 (B) Vitamin B and Sodium
 (C) Vitamin K and Calcium
 (D) Vitamin C and Iodine

இரத்தம் உறைதலுக்கு அவசியமான வைட்டமின் மற்றும் தாது உப்பை (தனிமத்தை) பெயரிடு

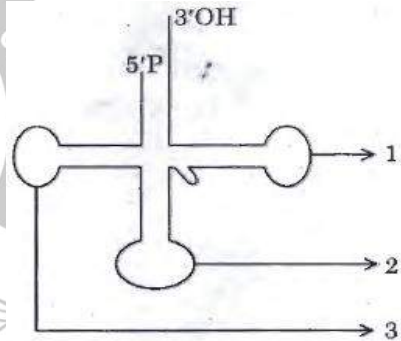
- (A) வைட்டமின் D மற்றும் கால்சியம்
 (B) வைட்டமின் B மற்றும் சோடியம்
 (C) வைட்டமின் K மற்றும் கால்சியம்
 (D) வைட்டமின் C மற்றும் அயோடின்

3. Choose the correct order of the parts marked in the diagram.



- (A) (1) TUC loop (2) Anticodon loop (3) DHU loop
 (B) (1) Anticodon loop (2) TUC loop (3) DHU loop
 (C) (1) TUC loop (2) DHU loop (3) Anticodon loop
 (D) (1) DHU loop (2) Anticodon loop (3) TUC loop

கொடுக்கப்பட்டுள்ள படத்தில் குறிக்கப்பட்டுள்ள பாகங்களின் சரியான வரிசையைத் தேர்ந்தெடுக்கவும்.



- (A) (1) டி.யு.சி. வளையம் (2) எதிர்கோடான் வளையம் (3) டி.எச்.யு. வளையம்
 (B) (1) எதிர்கோடான் வளையம் (2) டி.யு.சி. வளையம் (3) டி.எச்.யு. வளையம்
 (C) (1) டி.யு.சி. வளையம் (2) டி.எச்.யு. வளையம் (3) எதிர்கோடான் வளையம்
 (D) (1) டி.எச்.யு. வளையம் (2) எதிர்கோடான் வளையம் (3) டி.யு.சி. வளையம்

4. Name the gas which is evolved during photosynthesis

- (A) Carbondioxide (B) Nitrogen
 (C) Hydrogen (D) Oxygen



TNPSC

General Knowledge - 2013

ஒளிச்சேர்க்கையின் போது வெளியிடப்படும் வாயு எது?

- (A) கார்பன்-டை-ஆக்சைடு (B) நைட்ரஜன்
(C) ஹைட்ரஜன் (D) ஆக்சிஜன்

(c) தனிநபர் சத்யாகிரகம் 3. 1946

(d) அட்லி பிரபுவின் அறிவிப்பு 4. 1931

(a) (b) (c) (d)

(A) 2 4 1 3

(B) 4 2 1 3

(C) 2 4 3 1

(D) 3 2 1 4

5. Match the following :

- (a) August Offer 1. 1944
(b) C.R. Formula 2. 1945
(c) Wavell Plan 3. 1946
(d) Interim Government 4. 1940

(a) (b) (c) (d)

(A) 4 3 2 1

(B) 3 1 2 4

(C) 4 1 2 3

(D) 1 3 4 2

பொருத்துக :

- (a) ஆகஸ்ட் சலுகை 1. 1944
(b) C. R. திட்டம் 2. 1945
(c) வேவல் திட்டம் 3. 1946
(d) இடைக்கால அரசாங்கம் 4. 1940

(a) (b) (c) (d)

(A) 4 3 2 1

(B) 3 1 2 4

(C) 4 1 2 3

(D) 1 3 4 2

6. Match the following :

- (a) Nehru Report 1. 1940
(b) Second Round Table Conference 2. 1928
(c) Individual Satyagraha 3. 1946
(d) Lord Attlee's Announcement 4. 1931

(a) (b) (c) (d)

(A) 2 4 1 3

(B) 4 2 1 3

(C) 2 4 3 1

(D) 3 2 1 4

கீழ்க்கண்டவற்றை பொருத்துக :

- (a) நேரு அறிக்கை 1. 1940
(b) இரண்டாவது வட்ட மேஜை மாநாடு 2. 1928

7. Consider the following statements :

Assertion (A) : V. O. Chidambaram Pillai established Swadeshi Steam Navigation Company in 1910.

Reason (R) : V. O. Chidambaram Pillai is called as Kappalottiya Tamilan.

(A) Both (A) and (R) are true

(B) Both (A) and (R) are true but (R) is not the correct explanation of (A)

(C) (A) is true (R) is false

(D) (A) is false (R) is true

கீழே உள்ளவற்றைக் கொண்டு சரியான விடையளி :

கூற்று (A) : 1910-ஆம் ஆண்டு வ.உ.சிதம்பரம் பிள்ளை சுதேசிக் கப்பல் கம்பெனியை துவக்கினார்.

காரணம் (R) : கப்பலோட்டிய தமிழன் என்று வ.உ.சிதம்பரம் பிள்ளை அழைக்கப்படுகிறார்.

(A) (A) மற்றும் (R) இரண்டும் உண்மை

(B) (A) மற்றும் (R) இரண்டும் உண்மை ஆனால் (A)-வுக்கு சரியான விளக்கம் (R) இல்லை

(C) (A) உண்மை (R) தவறானவை

(D) (A) தவறானவை (R) உண்மையானவை

8. Point out the wrong statement/statements in the following :

1. V.O. C. born at Ettayapuram.

2. Annie Besant started Theosophical Society.

3. Bharathiyar died at Pondicherry.

4. E.V.R. started Self-Respect Movement.

(A) 1, 3 and 4

(B) 2, 3 and 4

(C) 1, 2 and 4

(D) 1, 2 and 3



TNPSC

General Knowledge - 2013

கீழ்க்கண்ட கூற்றுகளில் தவறானதைச் சுட்டிக்காட்டவும் :

1. வ.உ.சி. எட்டயபுரத்தில் பிறந்தார்.
2. அன்னி பெசன்ட் பிரம்ம ஞான சபையைத் தொடங்கினார்.
3. பாரதியார் பாண்டிச்சேரியில் மரண மடைந்தார்.
4. சுயமரியாதை இயக்கத்தை ஈ.வெ.ரா. தொடங்கினார்.

- (A) 1, 3 and 4 (B) 2, 3 and 4
(C) 1, 2 and 4 (D) 1, 2 and 3

9. Which of the following is incorrectly matched?

- (A) Agricultural crops - Green Revolution
(B) Eggs and poultry - White Revolution
(C) Marine products - Blue Revolution
(D) Horticulture - Golden Revolution

பின்வருவனவற்றுள் பொருந்தாதது எது?

- (A) வேளாண் பயிர்கள் - பசுமை புரட்சி
(B) முட்டை மற்றும் கோழிவளர்ப்பு - வெண்மை புரட்சி
(C) கடல்சார் பொருட்கள் - நீல புரட்சி
(D) தோட்டக்கலை - தங்க புரட்சி

10. Consider the following and select the false ones :

1. India's food problem is concerned with demand and supply of food grains.
2. India's food problem is concerned with quality, distribution and economic reasons.
3. India's food problem is concerned with procurement of food grains.
4. India's food problem is concerned with improper distribution.

- (A) 1 and 2 false (B) 4 alone false
(C) 3 and 4 false (D) 2 and 4 false

கீழ்க்கண்டவற்றுள் தவறானவைகள் எவை?

1. இந்திய உணவுப் பிரச்சினை தன்மை, உணவு தானியங்களின் தேவை அளிப்பை சார்ந்ததாகும்.

2. இந்திய உணவுப் பிரச்சினை தன்மை, தரம், பகிர்வு, பொருளாதாரம் சார்ந்தது.
3. இந்திய உணவுப் பிரச்சினை கொள்முதல் முறையை சிறப்பாக நடைமுறைப்படுத்தாதேயாகும்.
4. இந்தியாவின் உணவுப் பிரச்சினை தன்மை நியாயமான பங்கீடு கிடைக்கச் செய்யாததேயாகும்.

- (A) 1 மற்றும் 2 தவறானது
(B) 4 மட்டும் தவறானது
(C) 3 மற்றும் 4 தவறானது
(D) 1 மற்றும் 3 தவறானது

11. Consider the following table :

Year :1973-74 1987-88 1993-94 1999-2000
Number of Poor in India (in million) :

321 307 320 260

The year in which number of poor in India a sharp increase over that of the preceding year is

- (A) 1973-74 (B) 1987-88
(C) 1993-94 (D) 1999-2000

கீழ்க்கண்ட அட்டவணையை கவனம் கொள்க. வருடம் :

1973-74 1987-88 1993-94 1999-2000

இந்தியாவில் ஏழ்மையில் உள்ளவர்களின்

321 307 320 260

எண்ணிக்கை (மில்லியனில்) :

எந்த வருடம், அதன் முந்தைய வருடத்தைக் காட்டிலும் இந்தியாவில் ஏழ்மையில் உள்ளவர்களின் எண்ணிக்கை அதிகரித்துள்ளது?

- (A) 1973-74 (B) 1987-88
(C) 1993-94 (D) 1999-2000

12. Consider the following statements :

Assertion (A) : After the completion of the third five year plan 'Plan Holiday' was given.

Reason (R) : The third five year plan was affected by India-China war and India-Pakistan wars.



TNPSC

General Knowledge - 2013

Select your answer according to the coding scheme given below :

- (A) Both (A) and (R) are false
(B) (A) is false and (R) is true
(C) (A) is true and (R) is false
(D) Both (A) and (R) are true

கீழ்க்கண்ட வாக்கியங்களைக் கவனி :

கூற்று (A) : மூன்றாம் ஐந்தாண்டு திட்டம் நிறைவேற்றப்பட்ட பிறகு திட்ட விடுமுறைக்காலம் பின்பற்றப்பட்டது.

காரணம் (R) : மூன்றாம் ஐந்தாண்டு திட்டம் இந்தியா-சீனாபோரினாலும், இந்தியா-பாகிஸ்தான் போரினாலும் பாதிக்கப்பட்டது.

இவற்றுள் எது சரி என தீர்மானிக்கவும் :

- (A) (A) மற்றும் (R) தவறானவை
(B) (A) தவறு மற்றும் (R) சரி
(C) (A) சரி மற்றும் (R) தவறு
(D) (A) மற்றும் (R) சரியானவை

13. Assertion (A) : To reduce the high tides of sea during storm oil is poured around the ship.
Reason (R) : Surface tension of oil is less than sea water, reduces the wrath of waves.

- (A) A is correct R is wrong
(B) Both A and R are correct
(C) R is correct A is wrong
(D) Both A and R are wrong

கூற்று (A) : புயலின்போது அலைகளின் உயரத்தைக் குறைக்க கப்பலைச் சுற்றி எண்ணெய் ஊற்றப்படுகிறது.

காரணம் (R) : எண்ணெயின் பரப்பு இழுவிசை கடல் நீரின் பரப்பு இழுவிசையை விடக் குறைவு. அலையின் சீற்றத்தைக் குறைக்கும்.

- (A) A சரி R தவறு
(B) A மற்றும் R சரி
(C) R சரி A தவறு
(D) A மற்றும் R இரண்டும் தவறு

14. The property of attraction or repulsion between charged bodies is used in

- (A) A.C. Generator
(B) Electrostatic paint spraying
(C) Potentiometer
(D) Metre Bridge

பின்வருவனவற்றுள் எதில் மின்னூட்டங்களுக்கிடையே உணரப்படும் விலக்கு மற்றும் ஈர்ப்பு விசை பயன்படுகிறது?

- (A) A.C. மின்னியற்றி
(B) நிலைமின் வண்ணம் தெளித்தல்
(C) மின்னழுத்தமானி
(D) மீட்டர் சமனச்சுற்று

15. The time periods of two simple pendulum are in the ratio 2 : 1. The corresponding ratio of their lengths is

- (A) 4 : 1 (B) 1 : 4 (C) 1 : 1 (D) 1 : 2
இரண்டு தனி ஊசலின் அலைவு காலம் 2 : 1 என்ற விகிதத்திலுள்ளது. அவைகளின் நீளத்திற்கான விகிதம் முறையே

- (A) 4 : 1 (B) 1 : 4 (C) 1 : 1 (D) 1 : 2

16. Arrange the Remote Sensing Satellites as per year of launching, _____ in ascending order.

1. IRS 2. SPOT 3. TRIOS 4. LANDSAT
(A) 1, 2, 4, 3 (B) 3, 4, 2, 1
(C) 1, 2, 3, 4 (D) 4, 3, 1, 2

தொலை நுண்ணூர்வு விண்கலங்களை அது விண்ணில் செலுத்தப்பட்ட வருடத்தைக் கொண்டு கீழிருந்து மேலாக அடுக்குக.

1. ஐ. ஆர். எஸ் 2. ஸ்பாட்
3. டிரையோஸ் 4. லாண்ட்சாட்
(A) 1, 2, 4, 3 (B) 3, 4, 2, 1
(C) 1, 2, 3, 4 (D) 4, 3, 1, 2

17. Identify the incorrect pair.

- | Biosphere | States |
|--------------|----------------------|
| 1. Kanha | - Madhya Pradesh |
| 2. Nandadevi | - Uttranchal |
| 3. Manas | - Assam |
| 4. Namdhapa | - Arunachala Pradesh |
| (A) 1 (B) 2 | (C) 3 (D) 4 |



TNPSC

General Knowledge - 2013

பொருத்தமற்ற இணையை தெரிந்தெடுக்க.

உயிர் கோளம் மாநிலம்

1. கான்கா - மத்திய பிரதேசம்
 2. நந்தா தேவி - உத்தராஞ்சல்
 3. மானஸ் - அசாம்
 4. நாம்தாப்பா - அருணாச்சல பிரதேசம்
- (A) 1 (B) 2 (C) 3 (D) 4

18. Choose the correct answer from the following :
These occur as a result of continuous thunder storming.

(A) Landslides and floods (B) Tsunami

(C) Earthquake (D) Volcanic eruption

கீழே கொடுக்கப்பட்டவைகளில் இருந்து சரியான பதிலை தேர்ந்தெடுக்கவும் :

தொடர்ச்சியான இடியுடன் கூடிய புயலின் விளைவால் ஏற்படுவது.

(A) நிலச்சரிவும் வெள்ளமும்

(B) ஆழிப்பேரலைகள்

(C) நிலநடுக்கம்

(D) எரிமலை வெடிப்பு

19. Which of the following statements about 'Fertilizer' is TRUE?

1. It should be available in low cost.
2. It should be easily assimilated by plants.
3. It should not dissolve readily in water.

(A) 1 and 2 (B) 2 and 3

(C) 1 and 3 (D) 3 only

உரம் பற்றிய கீழ்க்கண்ட கூற்றுகளில் சரியானவை எவை?

1. அது விலை குறைவாக கிடைக்க வேண்டும்.
2. அது தாவரங்களால் எளிதில் உறிஞ்சத்தக்க வகையில் இருக்க வேண்டும்.
3. அது நீரில் எளிதில் கரையக்கூடாது.

(A) 1 மற்றும் 2 (B) 2 மற்றும் 3

(C) 1 மற்றும் 3 (D) 3 மட்டும்

20. Identify the odd one from the group of chemicals given below :

BHC, DDT, 2, 4-D, Urea

(A) BHC (B) DDT (C) 2, 4-D (D) Urea

கீழே கொடுக்கப்பட்டுள்ள வேதிப் பொருட்களின் குழுமத்திற்குப் பொருந்தாததைக் கண்டறி :

BHC, DDT, 2, 4-D, யூரியா

(A) BHC (B) DDT (C) 2, 4-D (D) யூரியா

21. Who was the first woman judge of the Supreme Court?

(A) Hanna Chandy (B) Vijayalakshmi Pandit

(C) Indira Gandhi (D) Fathima Beevi

உச்சநீதிமன்றத்தின் முதல் பெண் நீதிபதி யார்?

(A) அன்னா சான்டி (B) விஜயலட்சுமி பண்டிட்

(C) இந்திரா காந்தி (D) பாத்திமா பீவி

22. Consider the following statements :

Assertion (A) : The (ARC) recommended that the institution of Lokpal and Lokayakta.

Reason (R) : 1. should be demonstratively Independent and Impartial.

2. their appointment should be as far as possible non - Political.

Select your answer according to the coding scheme given below.

(A) Both (A) and (R) are false

(B) Both (A) and (R) is correct

(C) (A) is false but (R) is true

(D) (A) is true but (R) is false

கீழ்க்கண்ட வாக்கியங்களை கவனி :

கூற்று(A): நிர்வாக சீர்திருத்த ஆணையம்தான் லோக்பால் மற்றும் லோக்யக்தாயுக் ஏற்படுத்தியது.

காரணம்(R): 1. இது சுதந்திரமாக செயல்படுகிறது.

2. இதில் அரசியல் சாரதவர்கள் உள்ளனர்.

இவற்றுள் எது சரி என தீர்மானிக்கவும்.

(A) (A) மற்றும் (R) இரண்டும் தவறு

(B) (A) மற்றும் (R) இரண்டும் சரி

(C) (A) தவறு ஆனால் (R) சரி

(D) (A) சரி ஆனால் (R) தவறு



TNPSC

General Knowledge - 2013

23. Arrange the Presidents of India in chronological order of their term in Office.

1. R. Venkatraman
2. Dr. Sankar Dayal Sharma
3. Dr. K. R. Narayanan
4. Dr. A. P. J. Abdul Kalam

(A) 1, 2, 3, 4 (B) 3, 4, 1, 2

(C) 3, 1, 2, 4 (D) 3, 2, 1, 4

இந்தியாவின் குடியரசுத் தலைவர்களை அவர்களின் பதவிக்கால அடிப்படையில் வரிசைப்படுத்துக.

1. ஆர். வெங்கட்ராமன்
2. டாக்டர் சங்கர் தயாள் சர்மா
3. டாக்டர் கே. ஆர். நாராயணன்
4. டாக்டர் ஏ.பி. ஜே. அப்துல் கலாம்

(A) 1, 2, 3, 4 (B) 3, 4, 1, 2

(C) 3, 1, 2, 4 (D) 3, 2, 1, 4

24. The Bhopal Gas Tragedy happened in

(A) 1980 (B) 1978

(C) 1975 (D) 1984

போபால் துயரச் சம்பவம் நடைபெற்ற ஆண்டு

(A) 1980 (B) 1978

(C) 1975 (D) 1984

25. The books 'Wings of Fire' was written by

(A) Nehru (B) A.P.J. Abdul Kalam

(C) Kamaraj (D) Mahatma Gandhi

'அக்னி சிறகுகள்' என்ற புத்தகத்தை எழுதியவர்

(A) நேரு (B) A.P.J. அப்துல் கலாம்

(C) காமராஜ் (D) மகாத்மா காந்தி

26. In the products $2a \times 1a = 41a$; $2b \times 1b = 37b$, a and b represent positive integers. Then $a + b =$

(A) 15 (B) 11 (C) 7 (D) 13

$2a \times 1a = 41a$ மற்றும் $2b \times 1b = 37b$ ஆகிய பெருக்கல்களில் a மற்றும் b என்பன மிகை முழு எண்களைக் குறித்தால், $a+b =$

(A) 15 (B) 11 (C) 7 (D) 13

27. Find the odd man out in the following :

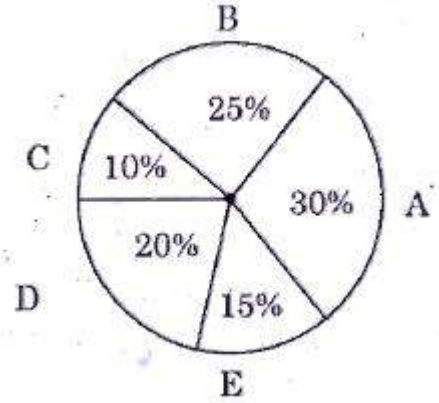
1, 144, 16, 25, 49, 81, 121, 36, 62

(A) 1 (B) 49 (C) 121 (D) 62

பின்வரும் எண்கள் தொடர்வரிசையில் பொருந்தாத எண்ணைக் கண்டுபிடி.

(A) 1 (B) 49 (C) 121 (D) 62

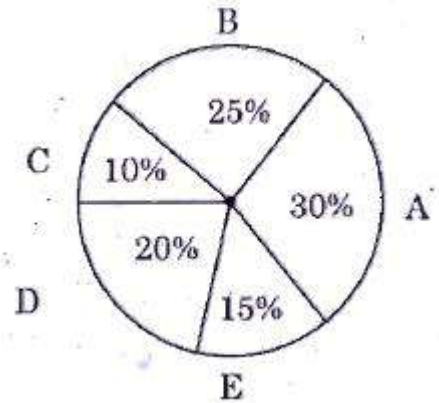
28. The World-Wide Tea product of 5 countries for the year 2011-2012.



The angle subtended by E at the centre of the circle is

(A) 15° (B) 30° (C) 54° (D) 72°

2011-2012க்கான உலக தேயிலை உற்பத்தியில் 5 நாடுகளின் பங்கு :



வட்டத்தின் மையத்தில் E-ன் வட்டக்கோணம்

(A) 15° (B) 30° (C) 54° (D) 72°

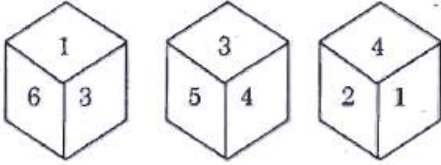
29. In an examination 30% of total students failed in English, 40% of students failed In Hindi and 20% in both. Find the percentage of students who passed in both the subjects.

(A) 50% (B) 20% (C) 10% (D) 60%

ஒரு தேர்வில் 30% மாணாக்கியர் ஆங்கிலப் பாடத்தில் தேர்ச்சி பெறவில்லை. 40% மாணாக்கியர் ஹிந்திப் பாடத்தில் தேர்ச்சி பெறவில்லை. இரண்டு பாடத்திலும் தேர்ச்சி பெறாதவர்கள் 20% என்றால் இரண்டு பாடத்திலும் தேர்ச்சி பெற்ற மாணாக்கியரின் சதவிகிதம் என்ன?

- (A) 50% (B) 20% (C) 10% (D) 60%

30. Three positions of the same die are given. Find the number opposite to the side represented by 2.



- (A) 5 (B) 3 (C) 6 (D) 1

ஒரு பகடையின் 3 நிலைகள் கீழேத் தரப்பட்டுள்ளது.



2 ஆல் குறித்த பக்கத்திற்கு எதிர்பக்க எண் யாது?

- (A) 5 (B) 3 (C) 6 (D) 1

31. If RIVER is coded as OFSBO than WATER is decoded as

- (A) ZDWIU (B) ZDWHU
(C) ZCWIV (D) ZCUJW

RIVER என்பதை OFSBO எனும் குறியீட்டால் தரப்படின், WATER எனும் குறியீடு எதனைக் குறிக்கும்?

- (A) ZDWIU (B) ZDWHU
(C) ZCWIV (D) ZCUJW

132. A can complete $\frac{2}{3}$ part of a work in 10 days. A

can complete $\frac{1}{3}$ part of the same work in

- (A) 3 days (B) 4 days (C) 5 days (D) 6 days

A என்பவர் ஒரு வேலையின் $\frac{2}{3}$ பகுதியை 10

நாட்களில் செய்து முடிப்பார். அதே வேலையின் $\frac{1}{3}$

பகுதியை A செய்து முடிக்க ஆகும் நாட்களின் எண்ணிக்கை

- (A) 3 நாட்கள் (B) 4 நாட்கள்
(C) 5 நாட்கள் (D) 6 நாட்கள்

133. Rs. 800 becomes Rs. 956 in 3 years at certain simple rate of interest. If the rate of interest is increased by 4%, what amount will Rs. 800 become in 3 years?

- (A) Rs. 1, 020.80 (B) Rs. 1, 025
(C) Rs. 1, 052 (D) Rs. 1, 080.20

குறிப்பிட்ட தனிவட்டி வீதத்தில், ரூ. 800 ஆனது மூன்றாண்டுகளில் ரூ. 956 ஆக உயர்கிறது. தனிவட்டி வீதத்தை 4% அதிகரிப்பதால், மூன்றாண்டுகளுக்குப் பின் ரூ. 800ன் மதிப்பு, எந்தத் தொகையாக மாறும்?

- (A) ரூ. 1, 020.80 (B) ரூ. 1, 025
(C) ரூ. 1, 052 (D) ரூ. 1, 080.20

134. Amala invests Rs. 6, 000 in a bond which gives interest at 4% per annum during the first year, 5% during the second year, 10% during the third year. How much does she get at the end of the third year?

- (A) Rs. 7,300 (B) Rs. 7, 007.2
(C) Rs. 7,200 (D) Rs. 7,207.2

அமலா, ரூபாய் 6,000-த்தை ஒரு முதலீடு செய்கின்றார். இதில் முதலாண்டில் 4% வட்டியும், இரண்டாமாண்டில் 5% வட்டியும், மூன்றாமாண்டில் 10% வட்டியும் கிடைக்கும் எனில், மூன்றாமாண்டின் முடிவில் அமலா பெறும் தொகையாது?

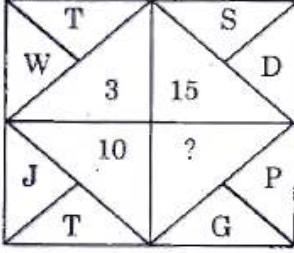
- (A) ரூ. 7,300 (B) ரூ. 7, 007.2
(C) ரூ. 7,200 (D) ரூ. 7,207.2



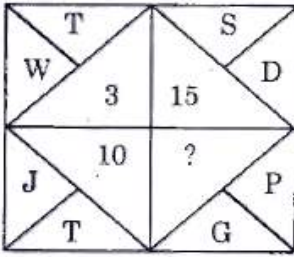
TNPSC

General Knowledge - 2013

135. What will come in the place of a question mark?



- (A) 9 (B) 6 (C) 7 (D) 3
கேள்விக் குறியிட்ட இடத்தில் வரும் எண் யாது?



- (A) 9 (B) 6 (C) 7 (D) 3

136. Find out the wrong number in the sequence.

623, 251, 543, 356

- (A) 543 (B) 251 (C) 623 (D) 356

பின்வரும் தொடர்வரிசையில் தவறான எண் என்ன?

623, 251, 543, 356

- (A) 543 (B) 251 (C) 623 (D) 356

137. Find out the wrong number in the sequence.

121, 264, 312, 462, 583

- (A) 583 (B) 264 (C) 121 (D) 312

பின்வரும் தொடர்வரிசையில் தவறான எண் என்ன?

121, 264, 312, 462, 583

- (A) 583 (B) 264 (C) 121 (D) 312

138. Match :

List I

- (a) Andhra
(b) Kerala
(c) Tamil Nadu
(d) Punjab

List II

1. Bharathanatyam
2. Kuchipudi
3. Bangra
4. Kathakali

Codes :

- (a) (b) (c) (d)
(A) 1 2 3 4
(B) 3 1 4 2
(C) 2 4 1 3
(D) 4 2 3 1

பொருத்துக :

பட்டியல் I

- (a) ஆந்திரா
(b) கேரளா
(c) தமிழ்நாடு
(d) பஞ்சாப்

பட்டியல் II

1. பரதநாட்டியம்
2. குச்சிப்புடி
3. பாங்ரா
4. கதகளி

- (a) (b) (c) (d)
(A) 1 2 3 4
(B) 3 1 4 2
(C) 2 4 1 3
(D) 4 2 3 1

139. Anna changed, the official name of the state from 'Madras' to Tamil Nadu in

- (A) 1957 (B) 1977 (C) 1969 (D) 1947

சென்னை மாநிலம் 'தமிழ்நாடு' என அண்ணா பெயர் மாற்றம் செய்த ஆண்டு

- (A) 1957 (B) 1977 (C) 1969 (D) 1947

140. Match the following :

- (a) Larkana District
(b) Kalibangan
(c) Lothal
(d) Harappa

1. Gujarat
2. Punjab
3. Rajasthan
4. Sind

- (a) (b) (c) (d)
(A) 3 1 2 4
(B) 4 3 1 2
(C) 1 2 4 3
(D) 2 4 3 1

சரியான விடையை பொருத்துக :

- (a) லார்கானா மாவட்டம்
(b) காளிபங்கன்
(c) லோத்தல்
(d) ஹரப்பா

1. குஜராத்
2. பஞ்சாப்
3. இராஜஸ்தான்
4. சிந்து



TNPSC

General Knowledge - 2013

	(a)	(b)	(c)	(d)
(A)	3	1	2	4
(B)	4	3	1	2
(C)	1	2	4	3
(D)	2	4	3	1

141. Match the following with suitable options :

List I (Works)	List II (Authors)
(a) Kondrai Venthan	1. Mayuram Vedanayagam
(b) Neethineri Vilakkam	2. Sivaprakasara
(c) Nanneri	3. Avvaiyar
(d) Neethi Nool	4. Kumara gurubarar

	(a)	(b)	(c)	(d)
(A)	2	3	4	1
(B)	3	4	2	1
(C)	3	2	1	4
(D)	2	3	1	4

பிரிவு I-யிலிருந்து பிரிவு II-ஐ பொருத்துக :

பிரிவு I (நூல்கள்)	பிரிவு II (ஆசிரியர்கள்)
(a) கொன்றை வேந்தன்	1. மாயூரம் வேதநாயகம்
(b) நீதிநெறி விளக்கம்	2. சிவபிரகாசர்
(c) நன்னெறி	3. அவ்வையார்
(d) நீதி நூல்	4. குமரகுருபரர்

	(a)	(b)	(c)	(d)
(A)	2	3	4	1
(B)	3	4	2	1
(C)	3	2	1	4
(D)	2	3	1	4

142. Match the following with suitable options :

List I (Age)	List II (Art style)
(a) Kushanas	1. Dravidian style
(b) Guptas	2. Vesara style
(c) Chalukyas	3. Nagara style
(d) Cholas	4. Gandhara Art style

	(a)	(b)	(c)	(d)
(A)	4	3	2	1
(B)	4	2	1	3
(C)	3	2	1	4
(D)	3	1	2	4

பட்டியல் I-யிலிருந்து பட்டியல் II-யை பொருத்துக :

பட்டியல் I (காலம்)	பட்டியல் II (கலை பாணி)
(a) குஷாணர்கள்	1. திராவிடப் பாணி
(b) குப்தர்கள்	2. வேசரா பாணி
(c) சாளுக்கியர்கள்	3. நகரா பாணி
(d) சோழர்கள்	4. காந்தாரக் கலை பாணி

	(a)	(b)	(c)	(d)
(A)	4	3	2	1
(B)	4	2	1	3
(C)	3	2	1	4
(D)	3	1	2	4

143. Match the authors with their books and choose the right option :

(a) Malgudi Days	1. Kautilya
(b) Harsha Charita	2. Swami Dayanand
(c) Arthasasthra	3. R.K. Narayan
(d) Satyarth Prakash	4. Bana Bhatta

	(a)	(b)	(c)	(d)
(A)	3	4	1	2
(B)	2	3	4	1
(C)	4	1	2	3
(D)	3	1	4	2

எழுத்தாளர்களையும் அவர்களின் புத்தகங்களையும் பொருத்தி சரியான விடையை தேர்ந்தெடுக்கவும் :

(a) மால்குடி டேஸ்	1. கௌடில்யா
(b) ஹர்ஷா சரித்தா	2. சுவாமி தயாநந்தர்
(c) அர்த்த சாஸ்திரம்	3. ஆர்.கே. நாராயண்
(d) சத்யர்த்த பிரகாஷ்	4. பானா பட்டா

	(a)	(b)	(c)	(d)
(A)	3	4	1	2
(B)	2	3	4	1
(C)	4	1	2	3
(D)	3	1	4	2



TNPSC

General Knowledge - 2013

144. Match the following and choose the right answer :

- (A) Recent Military camp took place in
- (B) Snowden's plea for asylum was rejected by
- (C) Serial Bomb- Blast took place at
- (D) After 10 years Andy Murry brought laurels
1. Brazil
2. India
3. England Mahabhodhi
4. Egypt to his country by becoming Wimbledon Champion

(a)	(b)	(c)	(d)
(A) 4	3	2	1
(B) 3	1	2	4
(C) 2	3	4	1
(D) 1	2	3	4

சரியாக விடையை தேர்ந்தெடுத்து பொருத்தவும்.

- (a) அண்மையில் இராணுவப் புரட்சி ஏற்பட்டது
- (b) ஸ்னோடென்னின் புகலிட கோரிக்கையை நிராகரித்தது
- (c) தொடர் குண்டு வெடிப்பு நிகழ்ந்த
- (d) 10 வருடத்திற்குப் பிறகு ஆண்டிமுர்ரே
1. பிரேஸில்
2. இந்தியா
3. இங்கிலாந்து மகாபோதி ஆலயம் உள்ள இடம்
4. எகிப்து விம்பிள்டன் பட்டம் பெற்று அவர் நாட்டிற்குப் புகழ் சேர்த்தார்

(a) (b) (c) (d)

(A) 4	3	2	1
(B) 3	1	2	4
(C) 2	3	4	1
(D) 1	2	3	4

145. Point out the wrong statement in the following:

- (a) National Animal - Tiger
- (b) National Bird - Peacock
- (c) National Flower - Rose
- (d) National Fruit - Mango

(A) I (B) II (C) III (D) IV

கீழ்க்கண்ட கருத்துக்களில் தவறானதை

சுட்டிக்காட்டு :

- (a) தேசிய மிருகம் - புலி
- (b) தேசிய பறவை - மயில்
- (c) தேசிய பூ - ரோஜா
- (d) தேசிய பழம் - மாம்பழம்

(A) I (B) II (C) III (D) IV

146. Who is the Whistle Blower, who brought the secret of American Intelligence, doing the Global Electronic Surveillance on other nations, to the world?

- (A) Julian Assanage (B) Daniel Pearl
- (C) Edward Snowden (D) Mike Tisen

உலக நாடுகளை, அமெரிக்க உளவு நிறுவனம், ரகசியமாக மின்னணு மூலம் கண்காணித்ததை உலகிற்கு வெளிப்படுத்திய அமெரிக்க உண்மை விளம்பி

- (A) ஜீலியன் அஸ்ஸானேஜ் (B) டானியல் ப்ரீஸ்
- (C) எட்வர்ட் ஸ்னோடன் (D) மைக் டைசன்

147. Which article empowers the President to dissolve the Lok Sabha at any time before its tenure?

- (A) Art 85 (B) Art 95
- (C) Art 81 (D) Art 75



TNPSC

General Knowledge - 2013

எந்த அரசியலமைப்பு சட்டம் குடியரசு தலைவருக்கு பாராளுமன்றத்தின் கீழ் அவையை கலைக்க அதிகாரம் அளிக்கிறது?	(a)	(b)	(c)	(d)
(A) விதி 85	(A) 3	1	2	4
(B) விதி 95	(B) 2	4	1	3
(C) விதி 81	(C) 2	1	4	3
(D) விதி 75	(D) 3	4	2	1

148. Which is not the member of G-20?

- (A) Argentina (B) North Africa
(C) Bolivia (D) Egypt

G-20 அமைப்பில் இடம் பெறாத நாடு எது?

- (A) ஆர்ஜென்டைனா (B) வடக்குஆப்பிரிக்க
(C) பொலிவியா (D) எகிப்து

149. Match the List I with List II and select the correctly matched answer :

List I	List II
(a) Rheumatic arthritis	1. Contagious disease
(b) Pellagra	2. Auto immune disease
(c) Cholera	3. Hereditary disease
(d) Sickle cell anaemia	4. Vitamin deficiency disease

(a)	(b)	(c)	(d)
(A) 3	1	2	4
(B) 2	4	1	3
(C) 2	1	4	3
(D) 3	4	2	1

பட்டியல் I-ஐ பட்டியல் II-ன் சரியாக பொருத்தி விடையை தேர்ந்தெடு :

பட்டியல் I	பட்டியல் II
(a) ரூமேட்டிக் மூட்டு வலி	1. பரவும் தொற்றுநோய்
(b) பெல்லக்ரா	2. சுய நோய்த் தடுப்புகுறைபாடு நோய்
(c) காலரா	3. பாரம்பரிய நோய்
(d) கதிர் அரிவாள் இரத்த சோகை	4. வைட்டமின் குறைவினால் உண்டாகும் நோய்

150. Match the Wild Life Sanctuaries in List I with their location in List II :

List I	List II
(a) Viralimalai	1. Western ghats
(b) Mukkurthi National Park	2. Kancheepuram district
(c) Indira Gandhi Wild Life	3. The Nilgiris Sanctuary
(d) Vedanthangal	4. Trichy district

(a)	(b)	(c)	(d)
(A) 3	1	2	4
(B) 4	3	1	2
(C) 1	2	4	3
(D) 2	4	3	1

பட்டியல் I-ல் உள்ள வனவிலங்குகளின் சரணாலயங்களை பட்டியல் II-ல் உள்ள இருப்பிடங்களுடன் பொருத்துக :

பட்டியல் I	பட்டியல் II
(a) விராலிமலை	1. மேற்குத் தொடர்ச்சி மலை
(b) முக்குருத்தி தேசிய பூங்கா	2. காஞ்சிபுரம் மாவட்டம்
(c) இந்திராகாந்தி வன உயிரி சரணாலயம்	3. நீலகிரி மலை
(d) வேடந்தாங்கல் பறவைகள் சரணாலயம்	4. திருச்சி மாவட்டம்

(a)	(b)	(c)	(d)
(A) 3	1	2	4
(B) 4	3	1	2
(C) 1	2	4	3
(D) 2	4	3	1



TNPSC

General Knowledge - 2013

151. Which of the following is referred to as EMP pathway?

- (A) Glycolysis
(B) Krebs's cycle
(C) Electron transport chain
(D) Pentose phosphate pathway

பின்வருவனவற்றுள் எது EMP வழித்தடம் எனவும் அழைக்கப்படும்?

- (A) கிளைகாலிஸிஸ் (B) கிரெப் சுழற்சி
(C) எலக்ட்ரான் கடத்தல் சங்கிலி
(D) பென்டோஸ் பாஸ்பேட் வழித்தடம்

152. Consider the following statements :

Assertion (A) : Insectivorous plants digest proteins of insect body.

Reason (R) : Insectivorous plants grown in Nitrogen (N₂) deficient soil.

Select your answer according to the coding scheme given below :

- (A) (A) is true but (R) does not explain (A)
(B) Both (A) and (R) are true, (R) explains (A)
(C) (A) is true (R) is false
(D) Both (A) and (R) are false

கீழ்க்கண்ட வாக்கியங்களைக் கவனி :

கூற்று (A) : பூச்சுண்ணும் தாவரம் பூச்சிகளின் உடலில் உள்ள புரோட்டீன்களை செரிக்கின்றன.

காரணம் (R) : பூச்சுண்ணும் தாவரம் நைட்ரஜன் பற்றாக்குறை உள்ள மண்ணில் வளரும்.

கீழ் குறிப்பிடப்பட்டுள்ள குறியீட்டில் சரியான விடையைத் தேர்ந்தெடு :

- (A) (A) சரி ஆனால் (R) (A)-விற்கு சரியான விளக்கமல்ல
(B) (A) மற்றும் (R) இரண்டும் சரி, மேலும் (R) என்பது (A)-விற்கு சரியான விளக்கம்
(C) (A) சரி ஆனால் (R) தவறு
(D) (A) மற்றும் (R) இரண்டும் தவறு

153. Which of the following is/are wrong?

1. Aligarh movement was led by Sir Syed Ahmed Khan.

2. Sir Syed Ahmed Khan supported Shuddhi movement.

3. Sir Syed Ahmed Khan started Anglo-oriental college.

- (A) 2 only (B) 1 and 2
(C) 1 and 3 (D) 1, 2 and 3

பின்வருவனவற்றுள் தவறானவை எது/எவை?

1. சர் சையத் அகமது கான் அலிகார் இயக்கத்தை வழி நடத்தினார்.
2. சர் சையத் அகமது கான் கத்தி இயக்கத்தை ஆதரித்தார்.
3. சர் சையத் அகமது கான் ஆங்கிலோ-ஓரியன்டல் கல்லூரியை ஆரம்பித்தார்.

- (A) 2 மட்டும் (B) 1 மற்றும் 2
(C) 1 மற்றும் 3 (D) 1, 2 மற்றும் 3

154. Which one of the following is correctly matched?

- (A) Ettayapuram - Collector Ashe
(B) Jallian Walah Bagh Tragedy - Hunter Committee
(C) Swaraj Party - B.G. Tilak
(D) Prohibition - V.O. Chidambaram
பின்வருவனவற்றுள் எது சரியாக பொருந்தியுள்ளது?

- (A) எட்டயபுரம் - கலெக்டர் ஆஷ்
(B) ஜாலியன் வாலாபாக் - ஹண்டர் கமிட்டி துயரம்
(C) சுயராஜ்ய கட்சி - B.G. திலகர்
(D) மதுவிலக்கு - வ.உ. சிதம்பரனார்

155. Match List I with List II correctly and select your answer using the codes given below :

List I

List II

- (A) Tattvabodhini Sabha
1. Henry Vivian Derozio
(B) Young Bengal Movement
2. Vishnu Sashtri Pandit
(C) Widow Remarriage Society
3. Veeresalingam
(D) Hitakarini Samajam
4. Devendranath Tagore



TNPSC

General Knowledge - 2013

Codes :

(a)	(b)	(c)	(d)
(A) 4	1	2	3
(B) 4	3	2	1
(C) 3	4	1	2
(D) 2	1	4	3

பட்டியல் I-ஐ பட்டியல் II-உடன் பொருத்தி கீழே கொடுக்கப்பட்டுள்ள குறியீடுகளைக் கொண்டு சரியான விடையைத் தேர்ந்தெடு :

பட்டியல் I

பட்டியல் II

- (a) தத்துவபோதினி சபை 1. ஹென்றி விவியன் தெரோஜியோ
- (b) இளம் வங்காள இயக்கம் 2. விஷ்ணு சாஸ்திரி பண்டிட்
- (c) விதவை மறுமண சங்கம் 3. வீரேசலிங்கம்
- (d) ஹிதகர்னி சமூஹம் 4. தேவேந்திரநாத் தாகூர்

குறியீடுகள் :

(a)	(b)	(c)	(d)
(A) 4	1	2	3
(B) 4	3	2	1
(C) 3	4	1	2
(D) 2	1	4	3

156. Consider the following statements with reference to the nature of the Indian National awakening :

1. It was basically started by intellectuals.
2. It was a movement in which, all sections of society became united against the English.
3. After 1920, national movement was led by Gandhiji.
4. Gandhiji started the Khilafat movement.

Which of the statements given above is/are correct?

- (A) 1 and 2 (B) 1, 2 and 3
(C) 1 and 3 (D) 2, 3 and 4

இந்திய தேசிய உணர்வு விழிப்படையக் காரணமான கீழ்க்கண்டவற்றின் தன்மையைக் கவனி :

1. முக்கியமாக அது கற்றறிந்தோரால் தொடங்கப்பட்டது.
2. தேசிய இயக்கத்தில் சமுதாயத்தின் அனைத்து தரப்பு மக்களும் ஆங்கிலேயர்களுக்கு எதிராக ஒருங்கிணைந்தனர்.
3. 1920-ற்குப் பிறகு காந்தியடிகள் அதற்கு தலைமையேற்று நடத்தினார்.
4. காந்தியடிகள் கிலாபத் இயக்கத்தை ஆரம்பித்தார்.

- (A) 1 மற்றும் 2 (B) 1, 2 மற்றும் 3
(C) 1 மற்றும் 3 (D) 2, 3 மற்றும் 4

157. The organization which introduced Green Revolution in India is

- (A) ICAR (B) ICMR (C) ISRO (D) CSIR

இந்தியாவில் பசுமை புரட்சியை அறிமுகப்படுத்திய அமைப்பு

- (A) ICAR (B) ICMR (C) ISRO (D) CSIR

158. Framing of 5 year plans :

- (A) National Development Council
(B) Prime Minister's Office
(C) United Nations Organisation
(D) **Planning Commission**

ஐந்தாண்டுத் திட்டத்தினை வகுப்பது

- (A) தேசிய வளர்ச்சிக் குழு
(B) பிரதம அமைச்சரின் அலுவலகம்
(C) ஐக்கிய நாடுகள் சபை
(D) திட்டக் குழு

159. Match the following:

- (a) Jawahar Gram Samridhhi Yojana 1. 2000-2001
(b) National Social Assistance Programme 2. 1993
(c) Employment Assurance Scheme 3. 1999
(d) Pradhanmantri Gramodaya Yojana 4. 1995



TNPSC

General Knowledge - 2013

	(a)	(b)	(c)	(d)
(A)	3	1	2	4
(B)	4	3	1	2
(C)	3	4	2	1
(D)	2	3	1	4

பொருத்துக :

(a) ஜவகர்கிராம வேலைவாய்ப்புத் திட்டம்

1. 2000-2001

(b) நாட்டு சமூக உதவித் திட்டம்

2. 1993

(c) வேலைவாய்ப்பு உறுதித் திட்டம்

3. 1999

(d) பிரதமரின் வேலைவாய்ப்புத் திட்டம்

4. 1995

	(a)	(b)	(c)	(d)
(A)	3	1	2	4
(B)	4	3	1	2
(C)	3	4	2	1
(D)	2	3	1	4

160. Take the odd man out :

India's Navaratna Companies

- (A) BHEL (B) BPCL
(C) IOL (D) IPCL

அந்நியனை வெளியேற்று :

இந்தியாவின் நவரத்ன நிறுவனங்கள்

- (A) BHEL (B) BPCL
(C) IOL (D) IPCL

161. Who is the Father of Consumer Movement?

- (A) Mahatma Gandhi (B) Indira Gandhi
(C) John F. Kennedy (D) Ralph Radar

நுகர்வோரியலின் தந்தை என கருதப்படுபவர் யார்?

- (A) மஹாத்மா காந்தி (B) இந்திரா காந்தி
(C) ஜான் F. கென்னடி (D) ரால்ப் ரேடர்

162. Who frames the monetary policy of India?

- (A) Finance Minister of India
(B) Reserve Bank of India
(C) Prime Minister of India
(D) International Monetary Fund

இந்தியாவில் பணக்கொள்கையை வடிவமைப்பது யார்?

- (A) இந்திய நிதியமைச்சர்
(B) ரிசர்வ் பாங்க் ஆப் இந்தியா
(C) இந்திய பிரதமர்
(D) பன்னாட்டு நிதி நிறுவனம்

163. Consider the following statements. Choose the correct answer.

“Comets have no tail”.

- when they are far away from the sun.
- when they are close to the sun.
- when they are close to the earth.
- when they are in between the earth and the sun.

- (A) 1, 2, 3 and 4 are wrong
(B) 1 is correct but 2, 3 and 4 are wrong
(C) 1 is wrong but 2, 3 and 4 are correct
(D) 1, 2, 3 and 4 are correct

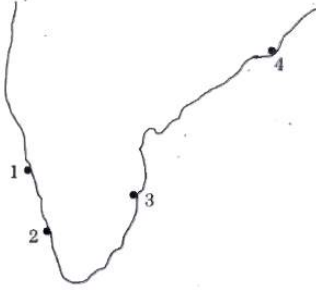
கீழ்க்காணும் வாக்கியங்களை ஆய்க. அவற்றுள் சரியானதை தேர்வு செய்க.

வால் மீன்களில் வால்பகுதி எப்பொழுது தோன்றாது?

- அவை சூரியனை விட்டு தொலைவில் இருக்கும் பொழுது.
- அவை சூரியனுக்கு அருகில் இருக்கும் பொழுது.
- அவை பூமிக்கு அருகில் இருக்கும் பொழுது.
- அவை பூமிக்கும், சூரியனுக்கும் இடையில் இருக்கும் பொழுது.

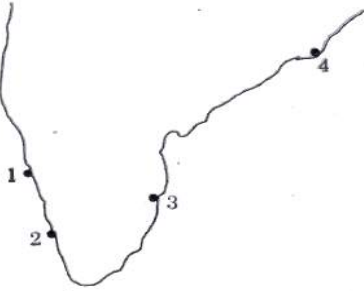
- (A) 1, 2, 3 மற்றும் 4 தவறு
(B) 1 சரியானது 2, 3 மற்றும் 4 தவறு
(C) 1 தவறு ஆனால் 2, 3, 4 சரி
(D) 1, 2, 3 மற்றும் 4 சரி

164. Identify the Seaports and name them



1. Paradwip
2. Mangalore
3. Chennai
4. Cochin

- (A) Paradwip, Cochin, Chennai, Mangalore
 (B) Mangalore, Paradwip, Chennai, Cochin
 (C) Mangalore, Cochin, Chennai, Paradwip
 (D) Cochin, Mangalore, Chennai, Paradwip
- கப்பல் துறையினை தெரிந்தெடுத்து அதன் பெயரை குறியிடுக :



1. பாரதீப்
2. மங்களூர்
3. சென்னை
4. கொச்சின்

- (A) பாரதீப், கொச்சின், சென்னை, மங்களூர்
 (B) மங்களூர், பாரதீப், சென்னை, கொச்சின்
 (C) மங்களூர், கொச்சின், சென்னை, பாரதீப்
 (D) கொச்சின், மங்களூர், சென்னை, பாரதீப்

165.

1. Moon is called a Meteoroids.
 2. Moon is called a Satellite.
 3. Moon is called a Asteroids.
 4. Moon is called a Comet.
- (A) 1 and 3 are correct
 (B) 2 is only correct
 (C) 2 and 4 are correct
 (D) 4 is only correct
1. சந்திரனை எரிநட்சத்திரம் என அழைக்கலாம்.
 2. சந்திரனை துணைக்கோள் என அழைக்கலாம்.
 3. சந்திரனை குருங்கோள்கள் என அழைக்கலாம்.

4. சந்திரனை வால் நட்சத்திரம் என அழைக்கலாம்.

- (A) 1 மற்றும் 3 மட்டும் சரி (B) 2 மட்டும் சரி
 (C) 2 மற்றும் 4 சரி (D) 4 மட்டும் சரி

166. Choose incorrectly matched.

- (A) Green Revolution - Agricultural crops
 (B) White Revolution - Milk and Milk products

(C) Grey Revolution - Oil seeds

- (D) Golden Revolution - Horticulture
- சரியாக பொருத்தப்படாததை கீழ்க்கண்டவற்றிலிருந்து தேர்வு செய்க.

- (A) பசுமைப் புரட்சி - வேளாண் உற்பத்தி
 (B) வெண்மைப் புரட்சி - பால் மற்றும் பால் பொருட்கள்
 (C) சாம்பல் புரட்சி - எண்ணெய் வித்துக்கள்
 (D) பொன் புரட்சி - பழங்கள்

167. Choose the correct answer :

In which District Grizzled Squirrel Wild Life Sanctuary is found?

- (A) Nilgris (B) Sivagangai
 (C) Virdhunagar (D) Kanyakumari

சரியான விடையை தேர்ந்தெடுக்க :

சாம்பல் நிற அணில்கள் சரணாலயம் எந்த மாவட்டத்தில் உள்ளது?

- (A) நீலகிரி (B) சிவகங்கை
 (C) விருதுநகர் (D) கன்னியாகுமரி

168. The mixture present in the pencil lead is

- (A) Carbon and Nitrogen
 (B) Carbon and Oxygen
 (C) Carbon and Clay
 (D) Carbon and Glass

பென்சிலில் உள்ள எழுதும் பொருளின் கலவை

- (A) கார்பன் மற்றும் நைட்ரஜன்
 (B) கார்பன் மற்றும் ஆக்ஸிஜன்
 (C) கார்பன் மற்றும் களிமண்
 (D) கார்பன் மற்றும் கண்ணாடி



TNPSC

General Knowledge - 2013

169. Which of the following statement(s) about 'acid' is TRUE?

1. It turns blue litmua paper to red.
2. It has pH value greater than 7.
3. It reacts with bases to give salt and water.

(A) 1 and 2 (B) 1 and 3
(C) 2 and 3 (D) 3 only

'அமிலம்' பற்றிய கீழ்க்கண்ட கூற்றுகளில் சரியானவை எவை?

1. அது நீல லிட்மஸ் தாளை சிவப்பாக மாற்றும்.
2. அது 7-ஐ விட அதிகமான pH மதிப்பு உடையது.
3. அது காரத்துடன் வினைபுரிந்து உப்பையும் நீரையும் தருகின்றன.

(A) 1 மற்றும் 2 (B) 1 மற்றும் 3
(C) 2 மற்றும் 3 (D) 3 மட்டும்

170. Which country became a member of the U.N.O. in the year 2011?

(A) East Timor (B) Montenegro
(C) South Sudan (D) Serbia

2011-ம் ஆண்டு ஐக்கிய நாடுகள் சபையில் உறுப்பினராக சேர்ந்த நாடு எது?

(A) கிழக்கு தைமார் (B) மாண்டிநிக்ரோ
(C) தெற்கு சூடான் (D) செர்பியா

171. The first meeting of the Constituent Assembly of India was held in

(A) 1950 (B) 1946 (C) 1948 (D) 1947

அரசியல் நிர்ணய சபையின் முதல் கூட்டம் நடைபெற்ற ஆண்டு

(A) 1950 (B) 1946 (C) 1948 (D) 1947

172. Consider the following statements :

Assertion (A) : The CVC has to present annually to the President a report on its performance.

Reason (R) : The President places this report before both House of Parliament.

Select your answer according to the coding scheme given below.

(A) Both (A) and (R) are correct

(B) Both (A) and (R) are false

(C) (A) is false but (R) is true

(D) (A) is true but (R) is false

கீழ்க்கண்ட வாக்கியங்களை கவனி :

கூற்று (A) : மத்திய புலனாய்வு ஆண்டு அறிக்கையை குடியரசு தலைவர் சமர்ப்பிப்பார்.

காரணம் (R) : இரண்டு அவைக்கும் லோக் சபா, இராஜ்ய சபாவிற்கும் அனுப்பி வைப்பார்.

இவற்றுள் எது சரி என தீர்மானிக்கவும்.

(A) (A) மற்றும் (R) இரண்டும் சரி

(B) (A) மற்றும் (R) இரண்டும் தவறு

(C) (A) தவறு ஆனால் (R) சரி

(D) (A) சரி ஆனால் (R) தவறு

173. Who presides over the joint sessions of the Parliament?

(A) The President (B) The Vice- President

(C) The Speaker (D) The Prime Minister

பாராளுமன்றத்தின் கூட்டு அமரவை (கூட்டத்தை) நடத்துவது யார்?

(A) குடியரசு தலைவர்

(B) துணை குடியரசு தலைவர்

(C) சபாநாயகர்

(D) பிரதம மந்திரி

174. The National Development Council was established in the year

(A) 1952 (B) 1955 (C) 1959 (D) 1962

தேசிய மேம்பாட்டு குழு எந்த ஆண்டு உருவாக்கப்பட்டது?

(A) 1952 (B) 1955 (C) 1959 (D) 1962

175. If $2 \div 3 = 89$, $3 \div 4 = 2716$, $4 \div 3 = 649$ then $1 \div 2 = ?$

(A) 24

(B) 14

(C) 4

(D) 10

$2 \div 3 = 89$, $3 \div 4 = 2716$, $4 \div 3 = 649$, எனில் $1 \div 2 = ?$

(A) 24

(B) 14

(C) 4

(D) 10



TNPSC

General Knowledge - 2013

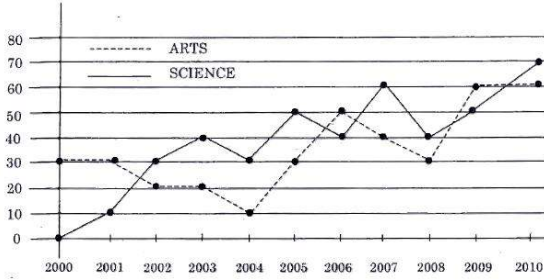
176. Five distinct items A, B, C, D and E are to be placed in distinct boxes numbered as 1, 2, 3, 4, 5. Items B and E cannot be grouped together. Maximum number of boxes can be left out without items is

- (A) 1 (B) 2 (C) 3 (D) 0

வெவ்வேறான 5 பொருட்கள் A, B, C, D மற்றும் E ஆகியவற்றை 1, 2, 3, 4, 5 எனக் குறிக்கப்பட்ட பெட்டிகளில் வைக்க வேண்டும். B மற்றும் E ஆகியவற்றை ஒன்றாக வைக்க முடியாது, எனில் பொருட்கள் வைக்கப்படாத பெட்டிகளின் அதிகபட்ச எண்ணிக்கை

- (A) 1 (B) 2 (C) 3 (D) 0

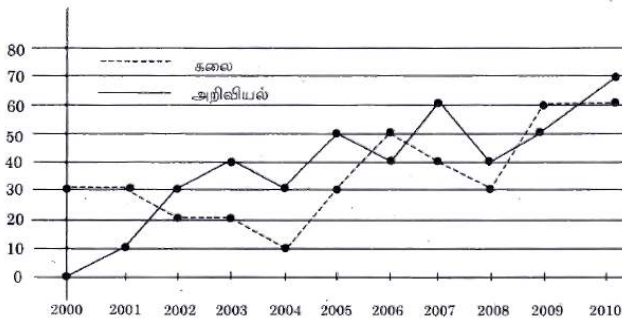
177. SALES BY TWO CATEGORY FOR ABC PRESS, 2000-2010 (in thousands of books).



In how many years did the sales of science books exceed the sales of arts books from 2000 to 2009?

- (A) 4 years (B) 5 years
(C) 6 years (D) 7 years

ABC என்ற பதிப்பகத்தின் இரு பிரிவு புத்தகங்களின் விற்பனை 2000-2010 (ஆயிரத்தில்)



2000 முதல் 2009 வரை எத்தனை ஆண்டுகள் அறிவியல் புத்தகங்கள் கலைப் புத்தகங்களை விட அதிகமாக விற்பனை செய்யப்பட்டது?

- (A) 4 ஆண்டுகள் (B) 5 ஆண்டுகள்
(C) 6 ஆண்டுகள் (D) 7 ஆண்டுகள்

178. Five persons A, K, L, R and U are sitting around a circular table, K is immediate left to U and R is between A and U, then immediate neighbours of L are

- (A) K and A (B) U and A
(C) K and R (D) A and R

A, K, L, R மற்றும் U என்ற ஐவர் ஒரு வட்டமேசையை சுற்றி அமர்கின்றனர். U-க்கு இடப்பக்கத்தில் Kவும் மற்றும் Aவுக்கும் Uவுக்கும் இடையில் R-ம் அமர்ந்திருந்தால் L-க்கு பக்கத்தில் இருபுறமும் அமர்ந்தவர்கள்

- (A) K மற்றும் A (B) U மற்றும் A
(C) K மற்றும் R (D) A மற்றும் R

179. A circular ground of radius 7 m has a path of width 7 m around it on its outside. The area of the path is approximately equal to

_____ ($\pi = \frac{22}{7}$)

- (A) 154 sq.m. (B) 308 sq.m.
(C) 462 sq.m. (D) 616 sq.m.

7 மீ ஆரமுள்ள ஒரு வட்ட வடிவ மைதானத்தை சுற்றி வெளிப்புறம் 7 மீ அகலத்தில் ஒரு பாதை உள்ளது எனில் பாதையின் பரப்பளவு

_____ ($\pi = \frac{22}{7}$)

- (A) 154 ச.செ.மீ. (B) 308 ச.செ.மீ.
(C) 462 ச.செ.மீ. (D) 616 ச.செ.மீ.

180. A can do a work in 12 days; B in 6 days and C in 3 days. A and B start working together and after a day, C joins them. The total number of days required to complete the work is

- (A) $2\frac{2}{7}$ days (B) $1\frac{2}{7}$ days

TNPSC General Knowledge - 2013

- (C) $2\frac{1}{7}$ days (D) $1\frac{1}{7}$ days

ஒரு வேலையை முழுமையாக தனித்தனியே செய்து முடிக்க A, B, C அகியோருக்கு 12 நாட்கள், 6 நாட்கள் மற்றும் 3 நாட்கள் என்க. A, B இருவரும் வேலையை செய்ய ஆரம்பித்து மறுநாள் C ம் அவர்களோடு வேலையை செய்தால், அந்த வேலையை முழுமையாக செய்து முடிக்கத் தேவையான நாட்கள்

- (A) $2\frac{2}{7}$ நாட்கள் (B) $1\frac{2}{7}$ நாட்கள்
(C) $2\frac{1}{7}$ நாட்கள் (D) $1\frac{1}{7}$ நாட்கள்

181. At what rate percent compound interest does a sum of money become nine fold in 2 years?

- (A) 100% (B) 200%
(C) 300% (D) 150%

கூட்டு வட்டி முறையில், ஒரு தொகையானது இரண்டு ஆண்டுகளில் ஒன்பது மடங்கு ஆகின்றது எனில் அதன் வட்டி வீதம் யாது?

- (A) 100% (B) 200%
(C) 300% (D) 150%

182. Simplify :

$$\sqrt[3]{\sqrt{x^2}}$$



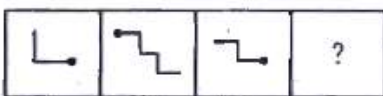
- (A) $x^{\frac{1}{6}}$ (B) $x^{\frac{1}{12}}$ (C) $x^{\frac{1}{3}}$ (D) $x^{\frac{1}{4}}$

சுருக்குக :

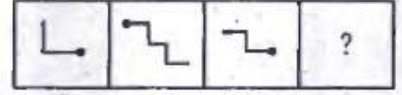
$$\sqrt[3]{\sqrt{x^2}}$$

- (A) $x^{\frac{1}{6}}$ (B) $x^{\frac{1}{12}}$ (C) $x^{\frac{1}{3}}$ (D) $x^{\frac{1}{4}}$

183. Find the missing block.



விடுபட்ட படம் யாது?



184. Find the greatest number that will divide 43, 91, 183 so as to leave the same remainder in each case.

- (A) 4 (B) 7 (C) 9 (D) 8

43, 91, 183 ஆகிய எண்களை எந்த மிகப் பெரிய எண்ணால் வகுக்கும் பொழுது மீதி சமமாக கிடைக்கும்?

- (A) 4 (B) 7 (C) 9 (D) 8

185. The number of number-pairs lying between 40 and 100 with their H.C.F. as 15 is

- (A) 3 (B) 4 (C) 5 (D) 2

மீப்பெரு பொது காரணி 15 ஆக இருக்குமாறு எத்தனை ஜோடி எண்கள் 40க்கும் 100க்கும் இடையே இருக்கும்?

- (A) 3 (B) 4 (C) 5 (D) 2

186. A, B, C, D start at the same time to run around a circular garden in the same direction. A completes a round in 30 minutes, B in 60 minutes, C in 90 minutes and D in 105 minutes. After what time will they meet again at the starting point?

- (A) 15 hours (B) 10 hours
(C) 21 hours (D) 20 hours



TNPSC

General Knowledge - 2013

ஒரு வட்டமான தோட்டத்தைச் சுற்றி ஒரே நேரத்தில் துவங்கி A, B, C, D என்பவர்கள் ஒரே திசையில் ஓடுகின்றனர். ஒரு முறை சுற்றி வர A, B, C, D என்பவர்கள் எடுத்துக் கொள்ளும் கால அளவு முறையே 30 நிமிடங்கள், 60 நிமிடங்கள், 90 நிமிடங்கள் மற்றும் 105 நிமிடங்கள் ஆகும். துவக்கப் புள்ளியில் எத்தனை மணிக்கு பிறகு இவர்கள் மீண்டும் சந்திப்பார்கள்?

- (A) 15 மணி நேரம் (B) 10 மணி நேரம்
(C) 21 மணி நேரம் (D) 20 மணி நேரம்

சரியாக பொருத்துக :

பட்டியல் I

பட்டியல் II

- | | |
|-----------------------------|---------------|
| (a) முதலாம் இராஜேந்திரசோழன் | 1. பிரம்மகிரி |
| (b) காரவேலர் | 2. அலகாபாத் |
| (c) அசோகர் | 3. ஹதிகும்பா |
| (d) சமுத்திரகுப்தர் | 4. மால்பாடி |
- | | | | |
|-------|-----|-----|-----|
| (a) | (b) | (c) | (d) |
| (A) 2 | 4 | 3 | 1 |
| (B) 3 | 1 | 2 | 4 |
| (C) 4 | 3 | 1 | 2 |
| (D) 1 | 2 | 4 | 3 |

187. Find the greatest number of 4 digits which is divisible by 15, 25, 40 and 75

- (A) 9600 (B) 3000
(C) 9800 (D) 8540

எண்கள் 15, 25, 40 மற்றும் 75 ஆல் வகுபடும் மிகப்பெரிய நான்கு இலக்க எண் என்ன?

- (A) 9600 (B) 3000
(C) 9800 (D) 8540

188. Dr. Muthulakshmi Reddy started an orphanage known as

- (A) Saraswathi Illam
(B) **Avvai Illam**
(C) Anbu Illam
(D) Lakshmi Illam

டாக்டர் முத்துலட்சுமி ரெட்டி அவர்கள் ஆரம்பித்த ஆதரவற்றோர் இல்லத்தின் பெயர்

- (A) சரஸ்வதி இல்லம் (B) ஓளவை இல்லம்
(C) அன்பு இல்லம் (D) லட்சுமி இல்லம்

189. Match the following :

List I

List II

- | | |
|----------------------|-----------------|
| (a) Rajendra Chola I | 1. Brahma Giri |
| (b) Karavela | 2. Allahabad |
| (c) Ashoka | 3. Hathi Kumbha |
| (d) Samudra Gupta | 4. Malpadi |

- | | | | |
|-------|-----|-----|-----|
| (a) | (b) | (c) | (d) |
| (A) 2 | 4 | 3 | 1 |
| (B) 3 | 1 | 2 | 4 |
| (C) 4 | 3 | 1 | 2 |
| (D) 1 | 2 | 4 | 3 |

190. Match List I with List II and select the correct answer using the codes given below:

List I

List II

- | | |
|--------------------------|------------------------------|
| (a) Brahma Samaj | 1. Swami Vivekananda |
| (b) Arya Samaj | 2. Madame Blavatsky |
| (c) Ramakrishna Mission | 3. Rajaram Mohan Roy |
| (d) Theosophical society | 4. Swami Dayanand Saraswathi |

- | | | | |
|-------|-----|-----|-----|
| (a) | (b) | (c) | (d) |
| (A) 3 | 4 | 1 | 2 |
| (B) 3 | 2 | 1 | 4 |
| (C) 4 | 1 | 2 | 3 |
| (D) 1 | 3 | 4 | 2 |

வரிசை I உடன் வரிசை IIஐ பொருத்தி வரிசைகளுக்குக் கீழ்க்கொடுக்கப்பட்டுள்ள தொகுப்பிலிருந்து சரியான விடையை தெரிவு செய்க :

வரிசை I

வரிசை II

- | | |
|--------------------|---------------------------|
| (a) பிரம்ம சமாஜம் | 1. சுவாமி விவேகானந்தர் |
| (b) ஆரிய சமாஜம் | 2. மேடம் பிளவாட்ஸ்கி |
| (c) ராமகிருண மிஷன் | 3. ராஜாராம் மோகன்ராம் |
| (d) பிரம்மஞான சபை | 4. சுவாமி தயானந்த சரஸ்வதி |



TNPSC

General Knowledge - 2013

- | | | | |
|-------|-----|-----|-----|
| (a) | (b) | (c) | (d) |
| (A) 3 | 4 | 1 | 2 |
| (B) 3 | 2 | 1 | 4 |
| (C) 4 | 1 | 2 | 3 |
| (D) 1 | 3 | 4 | 2 |

பின்வரும் இலக்கியப் படைப்புகளை கால வரிசைப்படுத்துக :

- | | |
|--------------------|-----------------------|
| 1. முத்ரா ராக்ஷசம் | 2. மத்தவிலாச பிரகசனம் |
| 3. மிலின்தபன்ஹா | 4. அர்த்த சாஸ்திரம் |
| (A) 1, 2, 4, 3 | (B) 3, 4, 1, 2 |
| (C) 4, 1, 3, 2 | (D) 4, 3, 1, 2 |

191. Match the following river names with suitable options :

List I (Ancient Name)	List II (New Name)
(a) Shutudri	1. Chenab
(b) Vipas	2. Sutlej
(c) Parushini	3. Beas
(d) Asikini	4. Ravi

- | | | | |
|-------|-----|-----|-----|
| (a) | (b) | (c) | (d) |
| (A) 1 | 2 | 3 | 4 |
| (B) 2 | 4 | 1 | 3 |
| (C) 1 | 4 | 2 | 3 |
| (D) 2 | 3 | 4 | 1 |

கீழ்க்கண்ட ஆறுகளின் பெயர்களை பட்டியல் I-லிருந்து பட்டியல் II-யை பொருத்துக :

பட்டியல் I (பழைய பெயர்)	பட்டியல் II (புதிய பெயர்)
(a) சுதுத்ரி	1. ஜீனாப்
(b) விபாஸ்	2. சட்லெஜ்
(c) பருஷினி	3. பியாஸ்
(d) அஷிகினி	4. ராவி

- | | | | |
|-------|-----|-----|-----|
| (a) | (b) | (c) | (d) |
| (A) 1 | 2 | 3 | 4 |
| (B) 2 | 4 | 1 | 3 |
| (C) 1 | 4 | 2 | 3 |
| (D) 2 | 3 | 4 | 1 |

192. Arrange the following literary works in Chronological order :

1. Mudra rakshasa
 2. Mattavilasa Prakasana
 3. Milindapanho
 4. Arthasastra
- (A) 1, 2, 4, 3 (B) 3, 4, 1, 2
(C) 4, 1, 3, 2 (D) 4, 3, 1, 2

193. What is the study of Algae called?

- (A) Physiology (B) Phycology
(C) Mycology (D) Pomology
- பாசிகளை ஆய்ந்தறியும் அறிவியலின் பெயர் என்ன?
- (A) ஃபிசியாலஜி (B) ஃபைக்காலஜி
(C) மைக்காலஜி (D) போமாலஜி

194. Which of these is not among the BRIC Nations?

- (A) Chile (B) Brazil (C) China (D) India
- இவற்றுள் எது BRIC தேசங்களின் அங்கம் இல்லை?
- (A) சிலி (B) பிரேசில் (C) சீனா (D) இந்தியா

195. Match List I with List II and choose the correct option using the coding scheme given below :

List I	List II
(A) National Rural Employment Programme	1. 1985
(B) Jawahar Rozgar Yojana	2. 1993
(C) Indira Awaz Yojana	3. 1980
(D) Prime Minister's Rozgar Yojana	4. 1989

- | | | | |
|-------|-----|-----|-----|
| (a) | (b) | (c) | (d) |
| (A) 4 | 1 | 3 | 2 |
| (B) 3 | 4 | 2 | 1 |
| (C) 3 | 4 | 1 | 2 |
| (D) 1 | 2 | 3 | 4 |

பட்டியல் I-ல் பட்டியல் II உடன் ஒப்பிட்டு பார்த்து சரியாக பொருத்தவும், கீழ்க்கண்டவற்றிலிருந்து சரியான விடையை தேர்ந்தெடுக்கவும் :



TNPSC

General Knowledge - 2013

பட்டியல் I

- (A) தேசிய கிராமபுற வேலைவாய்ப்பு திட்டம்
(B) ஜவஹர் ரோஜகர் யோஜனா
(C) இந்திரா ஆவாஜ் யோஜனா
(D) பிரதம மந்திரி ரோஜகர் யோஜனா

(a) (b) (c) (d)

- (A) 4 1 3 2
(B) 3 4 2 1
(C) 3 4 1 2
(D) 1 2 3 4

196. The name of World's fastest Super Computer, announced on June 19, 2012 is

- (A) HCL (B) **Sequdia**
(C) Intel (D) Lenova

உலகின் அதிவேகமான சூப்பர் கம்பியூட்டர் ஜூன் 19, 2012-ல் அறிவிக்கப்பட்டதின் பெயர் யாது?

- (A) HCL (B) செகுவோடியா
(C) இன்டெல் (D) லெனோவா

197. Who gave the name "Hindu rate of growth"?

- (A) Dandekar and Rath
(B) **Raj Krishnan**
(C) P.D. Ojha
(D) B.S. Minhas

"இந்து வளர்ச்சி வீதம்" என்று பெயரிட்டவர் யார்?

- (A) தண்டேகர் மற்றும் இராத்
(B) இராஜ் கிருஷ்ணன்
(C) P.D.ஓஜா
(D) B.S. மின்காஸ்

198. Arrange the following countries based on the number of medals won in London Olympics-2012 in descending order.

1. Britain 2. Russia
3. China 4. America
(A) 1, 3, 2, (B) **4, 3, 1, 1**
(C) 4, 2, 1, 3 (D) 4, 1, 3, 2

பட்டியல் II

பின்வரும் நாடுகள் 2012 இலண்டனில் நடைபெற்ற ஒலிம்பிக்கில் பெற்ற மெடல் எண்ணிக்கையின் அடிப்படையில் இறங்கு வரிசையில் எழுது.

1. பிரிட்டன் 2. ரஷ்யா
3. சீனா 3. அமெரிக்கா
(A) 1, 3, 2, 4 (B) 4, 3, 1, 1
(C) 4, 2, 1, 3 (D) 4, 1, 3, 2

199. Which article of the constitution provides for the imposition of President's rule in the states?

- (A) Article 354 (B) Article 355
(C) **Article 356** (D) Article 357

மாநிலங்களில் ஜனாதிபதி ஆட்சியை ஏற்படுத்த பரிந்துரை செய்யும் விதி

- (A) விதி 354 (B) விதி 355
(C) விதி 356 (D) விதி 357

200. 'Aurora Borealis', the so called northern lights are due to

- (A) **the atomic collision of the trapped cosmic ray particles in the Earth's magnetic field**

- (B) the presence of a special phosphorescent material in the pole
(C) the interference of solar and terrestrial radiations
(D) all of the above

'வட ஒளிகள்', என்று பரவலாக அழைக்கப்படும் 'அரோரா போரியோலிஸ்' உருவாவதற்கான காரணம்

- (A) பூமியானது காந்தப்புலத்தில் பிடிபட்டுள்ள காஸ்மிக் கதிர் துகள் அணுமோதல்களை உருவாக்குகிறது
(B) துருவங்களில், உள்ள ஒரு வகைச் சிறப்பு நின்றொளிர்ந்தல் பொருள் அமைந்திருத்தல்
(C) சூரிய மற்றும் பூமிக்கதிர் வீச்சுகளுக்கிடையேயான குறுக்கீட்டு விளைவு
(D) இவை அனைத்தும்



TNPSC

General Tamil - 2013

101. பொருளுக்கு ஏற்ற பொருத்தமான உவமையைத் தேர்ந்தெடுத்து எழுதுக.
உலக நிலைகளை அறியாதிருத்தல்
(A) கீரியும் பாம்பும் போல
(B) இலவு காத்த கிளி போல
(C) கிணற்றுத் தவளை போல
(D) அனலிடைப்பட்ட புழு போல
102. இலக்கணக் குறிப்பறிதல் :
பின்வரும் இலக்கணக் குறிப்புக்குப் பொருந்தாதச் சொல்லைத் தேர்ந்தெடுக்கவும்.
பண்புத்தொகை
(A) நெடுந்தேர் (B) மலர்ச்சேவடி
(C) செங்கோல் (D) கருங்குரங்கு
103. பெயர்ச் சொல்லின் வகையறிதல் :
'கரியன்' - என்ற பெயர்சொல்லின் வகை அறிக.
(A) சினைப் பெயர் (B) பொருட்பெயர்
(C) பண்புப் பெயர் (D) தொழிற் பெயர்
104. "நாமார்க்கும் குடியல்லோம் நமனை அஞ்சோம் நகரத்தில் இடர்ப்படோம் நடலை இல்லோம்"
இப்பாடல்களில் இடம்பெற்றுள்ள 'நடலை' க்கு இணையான ஆங்கிலச் சொல்லை எழுதுக.
(A) Affection (B) Affliction
(C) Attraction (D) Addition
105. பெயர்ச் சொல்லின் வகையறிதல் :
'ஆதிரையான்' என்ற பெயர்ச்சொல்லின் வகையறிக.
(A) பண்புப் பெயர் (B) தொழிற் பெயர்
(C) காலப் பெயர் (D) குணப் பெயர்
106. "இழுக்க லுடையுழி ஊற்றுக்கோ லற்றே ஒழுக்கமுடையார்வாய்ச் சொல்".
அடிக்கோடிட்ட சொல்லுக்கு இணையான ஆங்கிலப் பதத்தினைத் தேர்.க.
(A) An assistant (B) Supporter
(C) Staff (D) Friends
107. தன்வினை வாக்கியத்தைக் கண்டறிக.
(A) இலக்கியா புத்தாடை அணிவித்தாள்
(B) இலக்கியா புத்தாடை அணிந்தாள்
(C) புத்தாடை இலக்கியாவால் அணிவிக்கப்பட்டது
(D) இலக்கியா புத்தாடை அணியாள்
108. திரு. வி. க. இயற்றிய 'பொதுமை வேட்டல்' என்னும் நூலில் உள்ள பாக்களின் எண்ணிக்கை _____
(A) நானூற்று முப்பது (B) இருநூற்று ஒன்று
(C) முந்நூற்று ஆறு (D) நானூற்று எழுபது
109. தமிழ் : இலக்கணக் குறிப்பு தருக.
(A) செய்யுளிசை அளபெடை
(B) ஈறுகெட்ட எதிர்மறை பெயரெச்சம்
(C) இன்னிசையளபெடை
(D) சொல்லிசை அளபெடை
110. உலகம் என்ற தமிழ்ச் சொல்லின் வேர்ச்சொல் எது?
(A) உலகு (B) உலவு (C) உளது (D) உளம்
111. ஒருமைப் பன்மைப் பிழையற்ற தொடர் எது?
(A) அவன் கவிஞன் அல்லர்
(B) அவன் கவிஞன் அன்று
(C) அவன் கவிஞன் அல்லன்
(D) அவன் அல்லன் கவிஞன்
112. ஞானப்பச்சிலை எனப் போற்றப்படும் மூலிகை _____
(A) துளசி (B) கீழாநெல்லி
(C) தூதுவளை (D) கற்றாழை
113. இலக்கணக் குறிப்பறிதல் :
பின்வரும் இலக்கணக் குறிப்புக்கு பொருந்திய சொல்லைத் தேர்ந்தெடுக்க.
வினைத்தொகை
(A) செந்நாய் (B) சூழ்கழல்
(C) வெண்மதி (D) கண்ணோட்டம்



TNPSC General Tamil - 2013

14. கோடிட்ட இடத்தை நிரப்புக :

தில்லையாடி வள்ளியம்மை _____ நாட்டில்
பிறந்தார்.

- (A) அமெரிக்கா (B) இத்தாலி
(C) இந்தியா (D) தென்னாப்பிரிக்கா

15. 'பாவை பாடிய வாயால் கோவை பாடுக' என்று
சொல்லக் கேட்டு பாடப்பட்ட நூல் எது?

- (A) அசதிக் கோவை (B) ஆசாரக் கோவை
(C) திருக்கோவையார் (D) மும்மணிக் கோவை

16. பரணி இலக்கியத்திற்குரிய பாவகையைக்
குறிப்பிடுக.

- (A) வெண்பா (B) விருத்தப்பா
(C) கலி விருத்தம் (D) கலித்தாழிசை

17. பட்டியல் Iல் உள்ள சொற்றொடரைப் பட்டியல் IIல்
உள்ள சொற்றொடருடன் பொருத்தி குறியீடுகளைக்
கொண்டு சரியான விடையைத் தேர்ந்தெடு.

பட்டியல் I

- (a) களவழி நாற்பது
(b) முதுமொழிக் காஞ்சி
(c) நாலடியார்
(d) ஏலாதி

(a) (b) (c)

- (A) 3 1 2 4
(B) 2 3 4 1
(C) 1 3 4 2
(D) 4 1 2 3

பட்டியல் II

1. நிலையாமை
2. வேளாண் வேதம்
3. ஆறு மருந்து
4. புறப்பொருள்

(d)

18. பொற்கொடி ஆயகலை அறுபத்து நான்கினையும்
கற்றாள் - இவ்வாக்கியம் எவ்வகை வினை
சார்ந்தது?

- (A) பிறவினை (B) தன்வினை
(C) கலவை (D) செய்யப்பாட்டு வினை

19. பொருந்தாத தொடரைக் கண்டறிக.

- (A) ஒறுத்தார் - பொறுத்தார்
(B) அஞ்சாமை - துஞ்சாமை
(C) அறிவுடையார் - அறிவிலார்

(D) வையார் - வைப்பர்

20. வினாவிற்குரிய விடை எழுதுக :

காமராசின் பிறந்த நாளை ஆண்டுதோறும் எந்த
நாளாக கொண்டாடுகிறோம்?

- (A) கல்விப் பணி ஆற்றிய நாள்
(B) கல்வி வளர்ச்சி நாள்
(C) தொழில் முன்னேற்ற நாள்
(D) தேசிய கல்வி நாள்

21. பெயர்ச்சொல்லின் வகை அறிக.

'நன்மை' என்பது

- (A) பொருட் பெயர் (B) சினைப் பெயர்
(C) பண்புப் பெயர் (D) தொழிற் பெயர்

22. "நாட்டுதும் யாம்ஓர் பாட்டுடைச் செய்யுள்" என்று
பாடத் தொடங்கிய புலவர் யார்?

- (A) கம்பர் (B) கபிலர்
(C) இளங்கோவடிகள் (D) சீத்தலைச்சாத்தனார்

23. வினாவிற்குரிய விடை எழுதுக :

தமிழை ஆலென வளர்த்து மாண்புறச் செய்தவர்
யார்?

- (A) பரிதிமாற் கலைஞர்
(B) மு. வரதராஜன்
(C) தேவநேயப் பாவாணர்
(D) புதுமைப்பித்தன்

24. கோடிட்ட இடத்தை நிரப்புக :

நிகண்டுகளில் மிகப் பழமையானது _____

- (A) சேந்தன் திவாகரம்
(B) சூடாமணி நிகண்டு
(C) அகராதி
(D) இதில் எதுவும் இல்லை

25. பொருளறிந்து பொருத்துக :

- (a) ஓ 1. கோபம்
(b) மா 2. சோலை
(c) கா 3. நீர் தாங்கும் பலகை
(d) தீ 4. திருமகள்



TNPSC

General Tamil - 2013

(a)	(b)	(c)	(d)
(A) 2	4	1	3
(B) 1	3	4	2
(C) 3	4	2	1
(D) 4	1	3	2

26. 'முருகு பொருநாறு பாணிரண்டு முல்லை' இத்தொடரில் 'பாணிரண்டு' என்ற தொடரால் குறிக்கப்படும் நூல்கள் எவை?
- (A) அகநானூறு, புறநானூறு
(B) முல்லைப்பாட்டு, குறிஞ்சிப்பாட்டு
(C) திருமுருகாற்றுப்படை, பொருநராற்றுப்படை
(D) சிறுபாணாற்றுப்படை, பெரும்பாணாற்றுப்படை

27. உரிய விடையைத் தேர் :
அகராதி என்னும் சொல்லை முதன் முதலாக கையாண்டவர் யார்?
- (A) திருமூலர் (B) வீரமாமுனிவர்
(C) திருநாவுக்கரசர் (D) கம்பர்

28. பொருத்துக :
- (a) Fanfare 1. இணக்கமுள்ள
(b) Fangle 2. வீட்டுப் புறா
(c) Fantail 3. எக்காள முழக்கம்
(d) Facile 4. நாகரிகம்
- | (a) | (b) | (c) | (d) |
|-------|-----|-----|-----|
| (A) 3 | 4 | 2 | 1 |
| (B) 4 | 1 | 3 | 2 |
| (C) 2 | 3 | 4 | 1 |
| (D) 1 | 4 | 2 | 3 |

29. உரிய விடையைத் தேர் :
திருக்குறளை நாற்பதாண்டுகள் படித்துச் சுவைத்த போப், அதனை ஆங்கிலத்தில் எந்த ஆண்டு மொழிபெயர்த்து வெளியிட்டார்?
- (A) 1786 (B) 1858 (C) 1808 (D) 1886

30. வருக - என்பதன் இலக்கணக் குறிப்பு தேர் :
(A) வினையெச்சம் (B) உருவகம்
(C) உரிச்சொல் தொடர்

(D) வியங்கோள் வினைமுற்று

31. பொருந்தாத தொடரைக் குறிப்பிடுக.
(A) கலம்பகம் - பதினெட்டு உறுப்புகள்
(B) சிற்றிலக்கியங்கள் - தொண்ணூற்றாறு
(C) பிள்ளைத்தமிழ் - பத்துப் பருவங்கள்
(D) பரணி - 100 தாழிசைகள்

32. பின்வரும் தொடர்களில் இராமலிங்க அடிகளார் கூறியவை
(A) நான் தனியாக வாழவில்லை, தமிழோடு வாழ்கிறேன்
(B) வெயிலுக்கு ஒதுங்கும் விருட்சம் அழிக்காதே
(C) பெண்களே சமூகத்தின் கண்கள்
(D) சமத்துவத்தின் மறுபெயரே மனிதநேயம்

33. பின்வரும் சொற்களுள் குற்றியலுகரம் அல்லாத சொல்லைக் கண்டறிக.
(A) மாப்பு (B) வரகு (C) மடு (D) மாசு

34. சித்துகளின் எண்ணிக்கை
(A) பன்னிரண்டு (B) பதினெட்டு
(C) பத்து (D) எட்டு

35. அடிவரையறை அறிந்து சரியான வரிசையைக் குறிப்பிடுக.
(a) 3 - 6 (b) 4 - 8 (c) 9 - 12 (d) 13 - 31
(A) ஐங்குறுநூறு, குறுந்தொகை, நற்றிணை, அகநானூறு
(B) அகநானூறு, நற்றிணை, குறுந்தொகை, ஐங்குறுநூறு
(C) குறுந்தொகை, ஐங்குறுநூறு, நற்றிணை, அகநானூறு
(D) நற்றிணை, அகநானூறு, ஐங்குறுநூறு, குறுந்தொகை

36. தன்வினையைத் தேர்ந்து எழுதுக.
(A) அப்பூதி அடிகள் நான்மறை கற்கவில்லை
(B) அப்பூதி அடிகள் நான்மறை கற்பித்தார்
(C) அப்பூதி அடிகள் நான்மறை கற்றார்
(D) அப்பூதி அடிகள் நான்மறை கற்றாரா?



TNPSC

General Tamil - 2013

37. பட்டியல் Iல் உள்ள சொற்றொடரை பட்டியல் IIல் உள்ள தொடர்களுடன் பொருத்தி கீழே உள்ள குறியீடுகளைக் கொண்டு சரியான விடையைத் தேர்ந்தெடு.

பட்டியல் I

(a) பேதையர் நட்பு

(b) பண்புடையார் தொடர்பு

(c) அறிவுடையார் நட்பு

(d) இடுக்கண் களையும் நட்பு

(a) (b) (c) (d)

(A) 4 3 2 1

(B) 3 4 2 1

(C) 4 3 1 2

(D) 1 2 3 4

38. சரியான விடையைத் தேர்வு செய்க.

‘ஆயிடை அணங்கின் கற்பும் ஐய நின்னருளும் செய்ய தூய நல்லறனும் என்றிங்கிணையன தொடர்ந்து காப்ப’ இவ்வரிகளில் சீதையை அழியாமல் காப்பாற்றியவை எவை? இவ்வரிகளில் சீதையை அழியாமல் காப்பாற்றியவை எவை?

(A) அன்பும் பண்பும் (B) அறிவும் ஆற்றலும்

(C) அறனும் மறனும் (D) கற்பும் அருளும்

39. ‘வளன்’ என்ற சொல்லால் குறிக்கப்படுவன் யார்?

(A) தாவீது (B) கோலியாத்து

(C) சூசையப்பர் (D) சவுல் மன்னன்

40. கடலைக் குறிக்கும் தமிழ்ச் சொற்கள்

(A) ஆழி, அம்பி, ஆர்கலி

(B) பெளவம், முந்நீர் பரிசில்

(C) ஆழி, ஆர்கலி, பெளவம்

(D) வாரணம், பரவை, புணை

41. பொருத்தமான விடையைக் கண்டறி.

“தமிழுக்குக் கதி” என்று போற்றப்படும் நூல்கள்

(A) பாட்டும் தொகையும் (B) சிலம்பும் மேகலையும்

(C) இராமாயணமும் குறளும்

(D) பாரதமும் இராமாயணமும்

42. பட்டியல் Iல் உள்ள சொற்றொடரைப் பட்டியல் IIல் உள்ள தொடர்களுடன் பொருத்திக் குறியீடுகளைக் கொண்டு சரியான விடையைத் தேர்வு செய்.

பட்டியல் I

(a) கண் வனப்பு

(b) எண் வனப்பு

(c) பண் வனப்பு

(d) கால் வனப்பு

(a) (b) (c) (d)

(A) 3 2 4 1

(B) 3 1 2 4

(C) 1 2 4 3

(D) 2 3 4 1

பட்டியல் II

1. செல்லாமை

2. இத்துணையாம்

3. கண்ணோட்டம்

4. கேட்டார்

நன்றென்றல்

43. ஆற்றுப்படுத்தல் என்பதன் பொருள்

(A) அன்பு காட்டுதல் (B) ஆறுதல் கூறுதல்

(C) வழிகாட்டுதல் (D) ஆதரவு தருதல்

44. ஐஞ்சிறு காப்பியம் - இவற்றுள் பொருந்தா நூலைக் கண்டறி.

(A) உதயண குமார காவியம்

(B) இராவண காவியம்

(C) நாக குமார காவியம்

(D) யசோதரா காவியம்

45. பட்டியல் Iஐ பட்டியல் II-உடன் பொருத்தி கீழே கொடுக்கப்பட்டுள்ள குறியீடுகளைக் கொண்டு சரியான விடை தேர்வு செய்க.

பட்டியல் I

(a) புள்

(b) குலவு

(c) மேழி

(d) ஒல்லை

(a) (b) (c) (d)

(A) 2 4 1 3

(B) 4 1 2 3

(C) 3 4 2 1

(D) 3 1 4 2

பட்டியல் II

1. விரைவு

2. கலப்பை

3. அன்னம்

4. விளங்கும்



TNPSC

General Tamil - 2013

46. பொருந்தாத இணையைக் கண்டறிக.

- (A) Mishap - விபத்து
(B) Miserable - துக்ககரமான
(C) Mislaid - தவறான சொல்
(D) Misdeed - கெட்ட செயல்

47. 'வாழ்த்துவோம்' என்ற சொல்லின் வேர்ச்சொல்லை எழுதுக.

- (A) வாழ் (B) வாழ்த்துதல்
(C) வாழ்த்து (D) வாழ்த்தும்

48. பின்வரும் இரண்டினும் பொருள் பொருந்தாத இணையைத் தேர்ந்தெடு.

- (A) கழை - களை
(B) கரும்பு - அழகு
(C) மூங்கில் - காந்தி
(D) வேய் - சீலை
(E) கழி - அகற்று

49. சரியான பொருள் தருக :
'இந்து'

- (A) நிலவு (B) துன்பம்
(C) படகு (D) தலைவன்

50. தொண்டுக்கு முந்து, தலைமைக்குப் பிந்து எனக் கூறியவர்

- (A) காந்தியடிகள் (B) பேரறிஞர் அண்ணா
(C) மு. வரதராசனார் (D) பெரியார்

51. உரிய மரபுச் சொல்லை எழுதுக.
"மயில்"

- (A) கரையும் (B) பிளிறும்
(C) அலறும் (D) அகவும்

52. 'வந்தான்' என்னும் வினைமுற்று _____ என வினையாலணையும் பெயராய் வரும்.

- (A) வருவான் (B) வாரான்
(C) வந்தவன் (D) வந்த

53. ஆசிரியப்பாவின் ஈற்றுச்சீர் _____ முடிவது சிறப்பு

- (A) அகாரத்தில் (B) ஏகாரத்தில்
(C) ஓகாரத்தில் (D) ஈகாரத்தில்

54. "தித்திக்குந் தெள்ளமுதாய்த் தெள்ளமுதின்த்" கீழ்க்காணும் விடைகளுள் சரியான விடை எது?

- (A) எதுகை மட்டும் வந்துள்ளது
(B) மோனை மட்டும் வந்துள்ளது
(C) எதுகை, மோனை, இயைபு வந்துள்ளன
(D) எதுகையும், மோனையும் வந்துள்ளன

55. அகர வரிசைப்படி சொற்களைச் சீர் செய்தல்.

- (A) தரங்கம், தையல், திட்டம், தோடு
(B) தையல், தோடு, திட்டம், தரங்கம்
(C) தரங்கம், திட்டம், தையல், தோடு
(D) தரங்கம், தையல், தோடு, திட்டம்

56. பொருத்துக :

	புலவர்	நூல்	
(a) உமறுப்புலவர்		1. தொன்னூல்விளக்கம்	
(b) கம்பர்		2. நரிவிருத்தும்	
(c) திருத்தக்கதேவர்		3. சிலை எழுபது	
(d) வீரமாமுனிவர்		4. முதுமொழிமாலை	
(a)	(b)	(c)	(d)
(A) 4	2	3	1
(B) 4	3	2	1
(C) 3	1	4	2
(D) 2	4	1	3

57. 'உறுமிடத் துதவா உவர்நிலம்' என்ற வரிகள் இடம்பெற்ற நூல் எது?

- (A) புறநானூறு (B) அகநானூறு
(C) ஐங்குறுநூறு (D) திருக்குறள்

58. திரு.வி.க. எந்த நாளிதழ் ஆசிரியராக பணியாற்றினார்?

- (A) தேச பக்தன் (B) தென்றல்
(C) இந்தியா (D) சுதேசமித்திரன்



TNPSC

General Tamil - 2013

59. 'பொறு' என்னும் வேர்ச்சொல்லின் வினை யாலணையும் பெயரை தேர்ந்தெடு.
(A) பொறுத்தான் (B) பொறுத்து
(C) பொறுத்தல் (D) பொறுத்தவர்
60. 'அன்பருக்குப் பணி செய்வதே உண்மைத் தொண்டு' எனக் கூறியவர் யார்?
(A) இராமலிங்க அடிகள் (B) தாயுமானவர்
(C) ஆறுமுக நாவலர் (D) குமரகுருபரர்
61. மனிதரெல்லாம் அன்புநெறி காண்பதற்கும் மனோபாவம் வாணைப் போல் விரிவடைந்து - இப்பாடலில் கீழ்வரும் விடைகளில் பொருந்தாததைச் சுட்டுக.
(A) அடி மோனை (B) அடிஎதுகை
(C) அடி இயைபு (D) சீர் மோனை
62. வினாவிற்குரிய விடை எழுதுக.
அம்பேத்கர் எந்த ஆண்டு கல்விக் கழகத்தைத் தோற்றுவித்தார்?
(A) 1927 (B) 1936 (C) 1895 (D) 1946
63. "கலையுரைத்த கற்பனையே நிலையெனக் கொண்டாடும் கண்மூடி வழக்கமெலாம் மண்மூடிப் போக" - எனப் பாடியவர்
(A) வள்ளலார் (B) பாரதியார்
(C) பெருந்தேவனார் (D) பாரதிதாசனார்
64. உரிய விடையைத் தேர்ந்தெழுதுக :
பெண் அடிமை ஆனதற்கு உரிய காரணங்களில் ஒன்று எது இல்லாமை என்று பெரியார் கூறுகிறார்?
(A) வாக்குரிமை (B) பேச்சுரிமை
(C) சொத்துரிமை (D) எழுத்துரிமை
65. திரு.வி.க. பிறந்த துள்ளம் என்ற ஊர் தற்பொழுது _____ என்று அழைக்கப் படுகிறது.
(A) பல்லவபுரம் (B) இலட்சுமிபுரம்
(C) தண்டலம் (D) இராமவரம்
66. கோட்ட இடத்தை நிரப்புக :
கன்னியாகுமரிக்கும் மதுரைக்கும் இடையே அமைந்த நெடுஞ்சாலைக்கு பெயர் _____
(A) தில்லையாடி வள்ளியம்மை
(B) வேலுநாச்சியார்
(C) இராணி மங்கம்மாள்
(D) ஜான்சி ராணி
67. உரிய விடையை எழுதுக :
"உலகெல்லாம் உணர்ந்து ஓதற்கரியவன்" எனத் தொடங்கும் பாடல் இடம் பெற்றுள்ள நூல் எது?
(A) கந்தபுராணம் (B) திருமந்திரம்
(C) பெரியபுராணம் (D) திருவிளையாடற்புராணம்
68. அகர வரிசைப்படி சொற்களைச் சீர்செய்தல்.
(A) வீண், வீழ்ச்சி, வீடு, வீதி
(B) வீடு, வீண், வீதி, வீழ்ச்சி
(C) வீழ்ச்சி, வீண், வீதி, வீடு
(D) வீழ்ச்சி, வீடு, வீதி, வீண்
69. எடு - என்னும் வேர்ச்சொல்லின் வினையெச்சத்தை எழுதுக.
(A) எடுத்த (B) எடுத்தல்
(C) எடுத்து (D) எடுத்தான்
70. கோட்ட இடத்தை நிரப்புக :
'ஞால்' என்பதற்கு _____ என்பது பொருள்.
(A) தொங்குதல் (B) ஞாலம்
(C) தொடங்குதல் (D) வாழுதல்
71. "வள்ளுவனைப் பெற்றதாற் பெற்றதே புகழ் வையகமே"-பாடியவர் யார்?
(A) பாரதியார் (B) சுரதா
(C) தாரா பாரதி (D) பாரதிதாசன்
72. விடைக்கேற்ற வினாவைத் தேர்க.
'அன்புள இனி நாம் ஓர் ஐவர்கள் உளரானோம்'.
(A) எதனால் ஐவரானார்கள்?
(B) ஐவர் யார்?
(C) ஐந்தாவதாக வந்தவன் யார்?
(D) யாரிடம் கூறினான்?



TNPSC General Tamil - 2013

73. தமிழ் எழுத்துகளில் ஒரு நல்ல சீர்திருத்தத்தினைக் கொணர்ந்தவர் யார்? (a) (b) (c) (d)
(A) வேதநாயகம் பிள்ளை (A) 3 1 4 2
(B) வீரமாமுனிவர் (B) 3 2 4 1
(C) H. A. கிருஷ்ணப் பிள்ளை (C) 2 1 3 4
(D) உ.வே. சாமிநாதையர் (D) 4 3 1 2
74. "இம்மென்னும் முன்னே ஏழநூறும் எண்ணூறும், அம்மென்றால் ஆயிரம் பாட்டும்" பாடவல்ல ஆககவி யார்? (A) காளமேகப் புலவர் (B) பாரதியார்
(C) இளஞ்சூரியர் (D) முது சூரியர்
75. தவறான கூற்றைத் தேர்வு செய்க. (A) "மானிடவர்க்கு என்று பேச்சுப்படில் வாழ்கில்லேன்" - ஆண்டாள்
(B) "வானாளும் செல்வமும் மண்ணரகம் யான் வேண்டேன்" - குலசேகர ஆழ்வார்
(C) "கருவினும் கருவாய் பெருந்தவம் புரிந்த கருத்தனைப் பொருந்துதல் கருத்தே" - எச்.ஏ. கிருஷ்ணபிள்ளை
(D) "ஆதியும் அந்தமும் இல்லா அருட்பெருஞ்சோதி" - மாணிக்கவாசகர்
76. பொருத்துக : (a) ஊ 1. தலைவன்
(b) ஐ 2. ஊன்
(c) நொ 3. கடவுள்
(d) தே 4. துன்புறு
(a) (b) (c) (d)
(A) 1 4 3 2
(B) 2 1 4 3
(C) 4 3 2 1
(D) 3 1 2 4
77. பொருத்துக : (a) சிலப்பதிகாரம் 1. சீர்திருத்தக் காப்பியம்
(b) மணிமேகலை 2. சொற்போர் காப்பியம்
(c) சீவகசிந்தாமணி 3. குடிமக்கள் காப்பியம்
(d) குண்டலகேசி 4. வருணனைக் காப்பியம்
78. சரசுவதி என்று சித்தர்கள் எதனைக் குறிப்பிடுகின்றனர்? (A) காசினிக் கீரை (B) வல்லாரைக் கீரை
(C) பசலைக் கீரை (D) அகத்திக் கீரை
79. உரிய விடையைத் தேர்வு : தமிழ் படித்தால் எது பெருகும்? (A) புதுமை (B) திறம் (C) அறம் (D) புறம்
80. பொருத்துக : (a) Camphor 1. பொய்க்கதை
(b) Chide 2. கலவரம்
(c) Chaos 3. சலசலப்பு
(d) Canard 4. கற்பூரம்
(a) (b) (c) (d)
(A) 1 4 2 3
(B) 3 1 4 2
(C) 2 4 1 3
(D) 4 3 2 1
81. நடிப்புச் செவ்வியும் இலக்கியச் செவ்வியும் ஒருங்கே அமையப் பெற்ற காப்பியம் எது? (A) சிலப்பதிகாரம் (B) பாஞ்சாலி சபதம்
(C) மனோன்மனியம் (D) மணிமேகலை
82. 'மருகி' என்பது யாரைக் குறிக்கும்? (A) மருமகள் (B) மகள்
(C) கொழுந்தி (D) மாமியார்
83. பாரதியின் படைப்பில் இசையின் பெருமை பேசும் நூல் எது? (A) கண்ணன் பாட்டு (B) குயில் பாட்டு
(C) பாப்பா பாட்டு (D) பாஞ்சாலி சபதம்



TNPSC General Tamil - 2013

84. "புதுநெறிகண்ட புலவர்" என்று போற்றப்பட்டவர்

- (A) இராமலிங்க அடிகளார் (B) தாயுமானவர்
(C) திரு. வி. க (D) கவிமணி

85. பட்டியல் I-ல் உள்ள சொற்றொடரைப் பட்டியல் II-ல் உள்ள சொற்றொடருடன் பொருத்தி கொடுக்கப்பட்டுள்ள குறியீடுகளைக் கொண்டு சரியான விடையைத் தேர்ந்தெடு.

பட்டியல் I

- (a) அன்பிலார்
(b) அன்புடையார்
(c) அன்பு ஈனும்
(d) அன்பின் வழியது

(a) (b) (c) (d)

- (A) 2 3 4 1
(B) 4 3 1 2
(C) 1 4 2 3
(D) 3 2 1 4

பட்டியல் II

1. ஆர்வமுடைமை
2. உயிர்நிலை
3. என்பும் உரியர்
4. எல்லாம் தமக்குரியர்

86. சரியான விடையைத் தேர்வு செய்க.
கம்பநாடகத்தின் யாப்பு வண்ணங்களின் எண்ணிக்கை

- (A) 100 (B) 80 (C) 96 (D) 108

87. 'பண்ணொடு தமிழொப்பாய்' எனத் தொடங்கும் பாடல் இடம்பெறும் நூல்

- (A) திருவாசகம் (B) தேவாரம்
(C) திருக்கோவையார் (D) திருமந்திரம்

88. பொருந்தாத தொடரைக் கண்டறி :

- (A) அடக்கம் அமரருள் உய்க்கும்
(B) கற்க கசடற
(C) தீதும் நன்றும் பிறந்தர வாரா
(D) செல்வத்துள் செல்வம் செவிச்செல்வம்

89. பொருத்துக :

- யாருடைய கூற்று
(A) தேரா மன்னா செப்புவது உடையேன்
1. மணிமேகலை

(B) தீயும் கொல்லாத் தீவினை யாட்டியேன்

2. கோவலன்

(C) சிறைக் கோட்டத்தை அறக் கோட்டமாக்குக

3. கண்ணகி

(D) சீறடிச் சிலம்பு கொண்டுபோய் மாறிவருவன்

4. ஆதிரை

(a) (b) (c) (d)

- (A) 3 4 1 2
(B) 3 4 2 1
(C) 4 3 2 1
(D) 1 2 3 4

90. 63 தனியடியார் வரலாற்றைக் கூறும் நூல் எது?

- (A) கந்தபுராணம்
(B) திருவிளையாடற் புராணம்
(C) பெரிய புராணம்
(D) தணிகை புராணம்

91. பொருத்தமான பழமொழியைக் கண்டறி.

- கற்றாரைக் கற்றாரே காழுறுவர்
(A) ஞாயிறைக் கைமறைப்பார் இல்
(B) முள்ளினால் முள்களையும் ஆறு
(C) பாம்பு அறியும் பாம்பின் கால்
(D) ஆற்று உணர் வேண்டுவது இல்

92. 'செழுங்கனித் தீஞ்சுவை' என்ற சொற்றொடர் சரியாகப் பிரிக்கப்பட்டிருப்பது எது?

- (A) செழுமை + கனி + தீஞ்சுவை
(B) செழும் + கனி + தீஞ்சுவை
(C) செழும் + கனி + தீம் + சுவை
(D) செழுமை + கனி + தீம் + சுவை

93. 'முடுகினன்' என்ற சொல்லுக்கு ஏற்ற எதிர்ச்சொல் எது?

- (A) செலுத்தினான் (B) நிறுத்தினான்
(C) வளைத்தான் (D) முரித்தான்

94. "வையக மெல்லா மெமதன் நெழுதுமே" என்ற புகழ்ச்சிக்குரிய மன்னன் யார்?

- (A) சேரன் (B) பல்லவன்
(C) சோழன் (D) பாண்டியன்



TNPSC General Tamil - 2013

95. சரியானவற்றைக் காண்க.

1. நீ + ஐ = நின்னை 2. நீ + அது = நினது
3. நீ + ஆல் = நீயால்ஹ 4. நீ + கு = நீக்கு
(A) 2, 3 - சரி (B) 1, 2 - சரி
(C) 3, 4 - சரி (D) நான்கும் சரி

96. உவமைக்கு ஏற்ற பொருத்தமான பொருளைத் தேர்ந்தெடுத்து எழுதுக.

“கொக்கொக்க கூம்பும் பருவத்து”

- (A) காத்திருத்தல் (B) வெறுத்திருத்தல்
(C) அறியாதிருத்தல் (D) மறந்திருத்தல்

97. பெயர்ச்சொல்லின் வகையறிதல் சினைப் பெயரைத் தேர்ந்து எழுதுக.

- (A) ஊரன் (B) முக்கன்
(C) வறியன் (D) கடையன்

98. மனக்குகை - இலக்கணக் குறிப்பு எழுதுக.

- (A) வினைத்தொகை (B) உவமைத்தொகை
(C) உருவகம் (D) உம்மைத்தொகை

99. இலக்கணக் குறிப்பறிதல்

சான்று : உளமனைய தண்ணளித்தாய் உறுவேனிற் பரிவகற்று 'உறுவேனில்' - இலக்கணம் தேர்ந்து எழுது.

- (A) வினைத்தொகை (B) அன்மொழித்தொகை
(C) தொழில் பெயர் (D) உரிச்சொல் தொடர்

100. கீழ்க்காணும் தொடர்களில் எத்தொடர் சரியானது?

- (A) சன்மார்க்க கவி இராமலிங்க அடிகளார்
(B) சிலம்புச் செல்வர் இளங்கோவடிகள்
(C) இசைக்குயில் சரோஜினி நாயுடு
(D) கவிக்கோ முடியரசன்



TNPSC

General English - 2013

101. Identify the correct preposition from the options given below :
The papers are to be prepared _____ a month.
(a) within (B) by (C) in (D) for
102. Identify the correct prepositions from the options given below :
There is not enough space _____ the desk and the bench. Arrange them properly, _____ the classes commence.
(A) before, between (B) between, before
(C) beside, behind (D) near, on
103. Choose the correct order of the prepositions from the options given to fill in the blanks of the following passage :
_____ first, we sat _____ the shade _____ a tree, but later we went _____ a swim _____ the river.
(A) by, in, of, for, in (B) in, on, of, for, in
(C) at, in, of, for, in (D) at, in, of, to, in
104. Choose the appropriate question tag for the followings :
She hasn't submitted the note, _____ ?
(A) hasn't she? (B) doesn't she?
(C) has she? (D) does she?
105. They sometimes "skinned their noses". What is the figurative meaning of the phrase "Skinned their noses"?
(A) were upset by failures
(B) rubbed the nose accidentally
(C) scratched the nose
(D) encouraged by failures
106. "I come to bury Caesar, not to praise him". Whose words are these?
(A) Antony (B) Brutus
(C) Casca (D) Shylock
107. Why did your brother write such a letter? Choose the passive form of the above sentence:
(A) None
(B) Why did such a letter was written by your brother?
(C) Why was such a letter written by your brother?
(D) Why has he written such a letter?
108. Read the passage and answer the question that follows :
The chief characteristic of heroism is persistency. A true hero is never wavering in his intentions, but is always firm and fearless. The fearless. The word 'persistency' means :
(A) Idiosyncrasy (B) Democracy
(C) Intricacy (D) Consistency
109. Read the statement given below and answer the question that follows:
Dress and address make the first and foremost impression. The word underlined means :
(A) the place where we live
(B) our speech and manners
(C) our surroundings and neighbourhood
(D) a stylish accent in speech
110. Identify the sentence which is not of the same pattern as the others :
(A) At the age of 60, everyone is happy
(B) The whole day we were happy
(C) Immediately it became dark
(D) My uncle presented me a lap-top



TNPSC

General English - 2013

111. Read the passage and choose the option that indicates the idea contained in the passage :
For the sake of enjoying literature it is not necessary for us to be indifferent towards many other affairs of social life.

- (A) Literature renders us disinterested in social affairs
- (B) We enjoy literature only when we ignore other affairs of social life
- (C) Literature includes developing in one social awareness too
- (D) Literature alienates Man from the society

112. After all, winners don't do different things. They do things differently.
Pick out the right antonym of the word "different".

- (A) dissimilar
- (B) similar
- (C) indifferent
- (D) constant

113. Match the following characters and the plays they appear in :

Column A		Column B	
(a) portia		1. The Taming of the shrew	
(b) Mark antony		2. Hamlet	
(c) Bianca		3. The Merchant of Venice	
(d) Claudius		4. Julius Caesar	
(a) (b)	(c) (d)		
A) 1 3	4 2		
B) 2 1	3 4		
C) 3 4	1 2		
D) 4 1	2 3		

114. Identify the incorrect statement.

- (A) Listening to music agitates our minds
- (B) Music consoles and soothes our aching hearts
- (C) Music refreshes and rejuvenates our minds
- (D) Music strengthens our hopes

115. "Specific goals are better than general ones. Self chosen goals are better than assigned ones. Choose goals that are challenging, but reachable".

In this context, the opposite of the word 'assigned' is _____.

- (A) challenging
- (B) specific
- (C) self-chosen
- (D) given

116. After all, winners don't do different things. They do things differently.

The above lines suggests

- (A) All winners are different
- (B) Winners do different things
- (C) Winners do things differently
- (D) Losers don't do different things

117. Which place is described in the Ahtushi Deshpande's travelogue "To the land of snow"?

- (A) Raipur
- (B) Munsiyari
- (D) Surat
- (D) Manipur

118. Match the titles of poems under Column A with the names of poets under Column B and choose the correct codes.

Column A	Column B
(a) The Cry of the Children	1. Archibld Lampman
(b) A Psalm of Life	2. Elizabeth Barrett Browning
(c) To a Millionaire	3. William Wordsworth
(d) The Solitary Reaper	4. Henry Longfellow

- | (a) | (b) | (c) | (d) |
|-------|-----|-----|-----|
| (A) 4 | 2 | 3 | 1 |
| (B) 2 | 4 | 1 | 3 |
| (C) 1 | 2 | 4 | 3 |
| (D) 3 | 2 | 1 | 4 |



TNPSC

General English - 2013

119. Match the titles of the stories given under Column A with the names of the author under Column B and select the correct answer from the codes given below :

Column A	Column B
(a) The Last Leaf	1.Saki
(b) Two Friends	2.O' Henry
(c) The Refugee	3.Guy de Maupassant
(d) The Open Window	4.Pearl S. Buck

(a)	(b)	(c)	(d)
(A) 1	2	4	3
(B) 2	3	4	1
(C) 4	1	3	2
(D) 3	2	1	4

120. The story "Caught Sneezing" is adapted from the short story written by _____.

(A) O' Henry (B) Robert Frost
(C) Bonnie Chamberlain (D) **Oscar Wilde**

121. Find the odd pair from the following :

(A) The Face of Judas Iscariot - Bonnie Chamberlain
(B) A Close Encounter - Rex Coker
(C) Caught Sneezing - Oscar Wilde
(D) **The Tears of the Desert- Rob Reilly**

122. Identify the work which is not an autobiography :

(A) My Experiments with Truth
(B) Wings of Fire
(C) My Story
(D) **Glimpses of World History**

123. The only people who were pleased to stay in the selfish Giant's garden were _____.

(A) Spring and Summer
(B) **The Snow and the Frost**
(C) The Birds and the animals
(D) The trees and flowers

124. "Like a golden swarm of fireflies you came". Identify the figure of speech employed in the poetic line :

(A) Metaphor (B) Personification
(C) Transferred epithet (D) **Simile**

125. Identify the poetic line that differs in figure of speech from the other poetic lines :

(A) Be not like dumb driven cattle
(B) He lifted his head from his drinking as cattle do
(C) **You were the dawn**
(D) Like homing bees you borrow

126. Choose the option with the right meaning of the idiom given below :

Show one's yellow streak

(A) displaying yellow coloured stripes
(B) being inexperienced
(C) **exhibiting one's cowardice**
(D) painting the place yellow

127. Match the following words given under Column A with their meanings under Column B and select the correct answer from the codes given below :

Column A	Column B
(a) interred	1.weapon
(b) ruffle	2.abundant
(c) copious	3.buried
(d) armament	4.disturb

(a)	(b)	(c)	(d)
(A) 3	2	1	4
(B) 3	4	2	1
(C) 2	1	3	4
(D) 1	2	3	4

128. From the given options, choose the author who has written. 'The Return of the Native'

(A) **Thomas Hardy** (B) Douglas Malloch
(C) Patrick French (D) Robert Louis Stevenson



TNPSC General English - 2013

129. Tick the correct plural for the given word :

- Criterion
 (A) criterium (B) **criteria**
 (C) criterions (D) none of these

130. Identify the type of this sentence :

The old TV belongs to my sister and it needs repair

- (A) Simple (B) Complex
 (C) **Compound** (D) None of these

131. Change the following sentence into comparative :

The apple is not so sweet as the mango

- (A) **the mango is sweeter than the apple**
 (B) the apple is sweeter than the mango
 (C) the mango is not sweeter than the apple
 (D) the apple is more sweet than the mango

132. Identify the words which blend to form the word 'slang' and choose the correct answer from the codes given below :

- (A) slow + language
 (B) **slovenly + language**
 (C) sleep + language
 (D) slum + language

133. Match the following words given under column A with the blended forms under Column B :

- | | |
|-------------------------------|-----------------|
| Column A | Column B |
| (a) medical + claim | 1.comsat |
| (b) transfer + resistor | 2.mediclaim |
| (c) telephone + telegram | 3.transistor |
| (d) communication + satellite | 4.phonogram |

- | | | | |
|--------------|----------|----------|----------|
| (a) | (b) | (c) | (d) |
| (A) 1 | 2 | 3 | 4 |
| (B) 2 | 3 | 4 | 1 |
| (C) 4 | 2 | 3 | 1 |
| (D) 3 | 2 | 1 | 4 |

134. The compound word sewing machine is of the form :

- (A) Noun + Noun b) (B) Verb + Noun
 (C) **Gerund + Noun** (D) Adjective + Noun

135. Match Column A with Column B to make meaningful sentences. Select the correct code given below:

- | | |
|--------------------------------------|----------------------------|
| Column A | Column B |
| (a) The police found the thief | 1.weeping all the while |
| (b) I saw the bats | 2.racing towards the earth |
| (c) We noticed the lady | 3.hiding behind the door |
| (d) The astronomer observed a meteor | 4.hanging from the roof |

- | | | | |
|--------------|----------|----------|----------|
| (a) | (b) | (c) | (d) |
| (A) 1 | 3 | 2 | 4 |
| (B) 2 | 1 | 4 | 3 |
| (C) 4 | 2 | 3 | 1 |
| (D) 3 | 4 | 1 | 2 |

136. Fill in the blanks choosing the right pair of words in order :

The woman wearing a _____ (1) _____ went to the hotel to have (2) for dinner.

- | | |
|--------------------------|-----|
| (1) | (2) |
| (A) wail and veal | |
| (B) veal and veil | |
| (C) vile and wail | |
| (D) veil and veal | |

137. Pick out the noun that undergoes a change in its plural form :

- (A) equipment (B) staff
 (C) **goose** (D) luggage



TNPSC

General English - 2013

138. Form a new word by blending the words 'motorway' and 'hotel'.

- (A) motohotel (B) mowaytel
(C) motorel (D) motel

139. Select the compound sentence :

- (A) The power of garlic is widely discussed by the medical community.
(B) There is increasing evidence that garlic can lower cholesterol levels.
(C) Doctors advise us to include garlic in our diet.
(D) **The garlic may smell bad, but it can save our lives from heart diseases.**

140. Match the following poetic lines in Column A with their correct poets in Column B and select the correct code :

- Column A**
- (a) stop be silent for today
(b) O Winged seeds ! you crossed the furrowed sea
(c) Trust no future, however pleasant
(d) Exult ! O Shores and ring, O bells!

- | | | | |
|--------------|----------|----------|----------|
| (a) | (b) | (c) | (d) |
| (A) 4 | 2 | 3 | 1 |
| (B) 4 | 3 | 2 | 1 |
| (C) 4 | 1 | 2 | 3 |
| (D) 3 | 4 | 1 | 2 |

141. Match the poetic lines in Column A with the related poets in Column B and select the appropriate code :

- Column B**
- 1.Walt Whitman
2.H.W. Longfellow
3.V.K. Gokak
4.Elizabeth Barrett Browning

Column A

- (a) Glad till the dancing stops and the lilt of the music ends
(b) We plant your fields with skulls and bones
(c) We ran as if to meet the moon
(d) But he's locked in a concrete cell

- | | | | |
|--------------|----------|----------|----------|
| (a) | (b) | (c) | (d) |
| (A) 4 | 1 | 2 | 3 |
| (B) 3 | 4 | 1 | 2 |
| (C) 4 | 2 | 3 | 1 |
| (D) 2 | 3 | 4 | 1 |

Column B

- 1.Khalil Gibran
2.Robert Frost
3.Leslie Norris
4.John Masefield

142. The poem 'Be the best' by Douglas Malloch is about

- (A) being optimistic (B) being contented
(C) self-acceptance (D) **all the above**

143. What is the theme of the poem 'piano'?

- (A) The poet's love for his mother
(B) **The pastime of the poet during his school days**
(C) The poet's love for music
(D) The poet's comparison of childhood days with manhood days

144. Choose the correct antonym of the word underlined in the following sentence :

I therefore dismiss it with frigid tranquility.

- (A) sedation (B) irritation
(C) **agitation** (D) desperation

145. Things become better, when you expect the best instead of the worst. Expecting the best means, that you put your whole heart into what you want to accomplish. People are defeated in



TNPSC

General English - 2013

life not for lack of ability, but for lack of whole-heartedness.

The reason for defeat in life is :

- (A) failure (B) affordability
(C) lack of ability
(D) lack of whole heartedness

146. Identify the sentence which is in the comparative degree

- (A) Tennyson is not the greatest of all Poets
(B) Some Poets are atleast as great as Tennyson
(C) Tennyson is not greater than some other Poets
(D) Tennyson is the great Poet

147. Identify the complex sentence.

- (A) As the war had ended, the soldiers returned.
(B) The war being ended the soldiers returned.
(C) The war ended and so the soldiers returned.
(D) The soldiers returned after the war.

148. Fill in the blanks with the correct verb forms given in sequence :

The teacher _____ the exercises which Nila _____.

- (A) corrected, had prepared
(B) corrected, prepares
(C) corrects, is preparing
(D) corrects, have prepared

149. I Stood in awe, astonishment and reverence when I saw a walled fortress inside - a standing testimony of the Chola's. Opulence and vision. Given the antonym for the underlined word.

- (A) Kindness (B) Richness
(C) Hardness (D) Poverty

150. Select the apt suffix to form a meaningful word from the root word Chronology

- (A) able (B) ical (C) ity (D) ness

151. Choose the correct prefix to form a meaningful word from the root word - filament

- (A) pre (B) un (C) mono (D) unm

152. Match the words under Column A with the words under Column B to form compound words :

Column A	Column B
(A) good	1. forgotten
(B) nerve	2. humoured
(C) long	3. fangled
(D) new	4. racking
(a) (b) (c) (d)	
(A) 2 1 3 4	
(B) 1 2 3 4	
(C) 2 4 1 3	
(D) 3 2 4 1	

153. Complete the sentence choosing an option from those given below :

Yesterday _____ European met me.

- (A) an (B) a (C) the (D) no article

154. Fill in the blank with the suitable article _____ MP is a member of the parliament.

- (A) a (B) an (C) the (D) no error

155. In which of the poem do the following lines occur?

And in the hush we joined to meke
We heard, we knew we heard the brook

- (A) The cry of the children
(B) Going for water
(C) Be the best
(D) Migrant Bird



TNPSC

General English - 2013

156. Which of the following is not a poem?
(A) Snake
(B) Women's Rights
(C) The Man He Killed
(D) **To the Land of snow**
157. In whose biography do you find this statement?
'I would sweep them out of existence if I had the power'.
(A) Jawaharlal Nehru (B) Nelson Mandela
(C) Abraham Lincoln (D) **Mahatma Gandhi**
158. Identify the sentence with the wrong question tag :
(A) Ramu went to Assam last week, didn't he?
(B) The Austrailans will not win the finals, will they?
(C) **People shouldn't be rude to one another, shouldn't they?**
(D) The bus is early today, isn't it?
159. Identify the tense form of the verb underlined :
They have been building the bridge for several months.
(A) Perfect tense
(B) **Present perfect continuous tense**
(C) Simple present tense
(D) Present perfect tense
160. Fill in the blanks by choosing the correct tense forms from the options given below :
I will go to meet him rather than _____ for him.
(A) wait for him (B) **to wait for him**
(C) will wait for him (D) shall wait for him
161. Fill in the blank with the correct answer from the following options.
"The Story of My Life" is the autoboigraphy of _____.
(A) Albert Einstein (B) Winston Churchill
(C) Annie Besant (D) **Helen Keller**
162. The first astronaut who stayed in space for the longest period of 195 days is _____.
(A) **Sunitha Williams** (B) Rakesh Sharma
(C) Neil Armstrong (D) Kalpana Chawla
163. "My first duty on rising is to tender my most sincere and grateful thanks to the students for their address which they have just how presented to me"
By whom were these words uttered?
(A) Mother Teresa
(B) Indira Gandhi
(C) **Gopala Krishna Gokhale**
(D) Mahatma Gandhi
164. Match the authors with the relevant characters from their books :
Column A (a) Alice (b) Bertie Wooster (c) Mowgli (d) Matilda
Column B 1. Guy de Maupassant 2. P.G. Woodhouse 3. Lewis Carroll 4. Rudyard Kipling
- | | | | |
|-------|-----|-----|-----|
| (a) | (b) | (c) | (d) |
| (A) 3 | 2 | 4 | 1 |
| (B) 1 | 2 | 3 | 4 |
| (C) 4 | 2 | 1 | 3 |
| (D) 2 | 4 | 3 | 1 |
165. Which of the following literary works does not exhibit the theme of 'Optimism'?
(A) Be the Best
(B) Keep your spirits high
(C) **The Mark of Vishnu**
(D) Where the Mind is without fear



TNPSC

General English - 2013

166. Which of the following lines do not belong to Shakespeare's Sonnet no : 116?
- (A) 'O', no! it is an ever-fixed mark
(B) It is the star to every wandering bark
(C) **Echoes fade and memories die...**
(D) Love's not Time's fool
167. Read the passage and answer the question that follows :
- In building up a strong, free and democratic India, openmindedness and constructive approach are required so that she could make a speedy progress crossing the hurdles of communalism, separation and untochability. The passage points out that :
- (A) **Communalism, separation and untouchability were prevalent in India, then.**
(B) India had overcome the hurdles of communalism, separation and untochability.
(C) India was too oprnminded to make a speedy progress.
(D) India did not need a constructive approach.
168. 'If the Himalayan ice disappears, the future will be worse'. This statement is about _____.
- (A) Communal disharmony
(B) advantages of science and technology
(C) **An alarming global issue**
(D) astrological science
169. "Where the world has not been broken up into fragments by narrow domestic walls"
Name the poet who dreamt of a world with equality and harmony.
- (A) Ruskin Bond (B) Robert Frost
(C) **Rabindranath Tagore** (D) Walt Whitman
170. Mention the poem in which the following lines appear :
- "He should be lurking in the shadow
Sliding through the long grass".
- (A) The Bird and the Crumb
(B) **A Tiger in the Zoo**
(C) The Road Not Taken
(D) Snake
171. _____ was the author, whose story has been adapted as 'caught sneezing'.
- (A) Rudyard kipling (B) Rabindranath Tagore
(C) **Oscar Wilde** (D) Kamala Das
172. Which of the following is not a poem?
- (A) Punishment in Kindergarten
(B) **Making visible the Invisible**
(C) The Solitary Reaper
(D) The Cry of tjhe Children
173. Which of the following poems is written by Lewis Caroll?
- (A) **Is life, but a dream?**
(B) The Man he killed
(C) The Apology
(D) English Words
174. Match the poetic lines under Column A with the figures of speech under Column B and select the correct answer from the codes given below :
- | Column A | Column B |
|--|-----------------|
| (a) So now it is Vain for the singer to burst into clamour | 1. Simile |
| (b) Laugh till the game is played | 2. Alliteration |
| (c) The reddest flower would look as pale as snow | 3. Metaphor |
| (d) Through fears and | |



TNPSC

General English - 2013

fright I fly my flight

4. Onomatopoeia

(D) Saki

4. Kamala Das

- | | | | | |
|-----|-----|-----|-----|-----|
| | (a) | (b) | (c) | (d) |
| (A) | 1 | 2 | 4 | 3 |
| (B) | 3 | 1 | 2 | 4 |
| (C) | 4 | 3 | 1 | 2 |
| (D) | 2 | 4 | 3 | 1 |

- | | | | | |
|-----|-----|-----|-----|-----|
| | (a) | (b) | (c) | (d) |
| (A) | 1 | 2 | 4 | 3 |
| (B) | 2 | 4 | 1 | 3 |
| (C) | 3 | 2 | 4 | 1 |
| (D) | 4 | 3 | 2 | 1 |

175. Having overloaded myself I reached the Palace in search of all the glory of the old Chola capital. The 16th Century Palace was built by the Nayaks and later renovated by the Marathas. Who built the palace in Thanjavur?

- (A) The Marathas (B) The Cholas
(C) **The Nayaks** (D) The Pandavas

180. Match the short stories under Column "A" with their authors under Column "B" and select the correct code :

Column A

Column B

- | | |
|---------------------------|---------------------|
| (A) A Man Who Had No Eyes | 1. James Harriot |
| (B) Sorry, Best Friend | 2. Charles |
| (C) God, This is Charles | 3. Hemangini Ranade |
| (D) Every Living Thing | 4. Mackinlay Kantor |

176. Music has a way of finding the big, invisible moving pieces inside our hearts and soul and helping us figure out the position of things inside us. What does 'figure out' mean?

- (A) **make out** (B) take out
(C) look out (D) seek out

- | | | | | |
|-----|-----|-----|-----|-----|
| | (a) | (b) | (c) | (d) |
| (A) | 1 | 3 | 4 | 2 |
| (B) | 4 | 3 | 2 | 1 |
| (C) | 3 | 2 | 1 | 4 |
| (D) | 1 | 2 | 3 | 4 |

177. Laugh till the game is played and be you merry, my friends. In the above quoted lines from 'Laugh and be Merry' by John Masefield the figure of speech that occurs is

- (A) simile (B) **metaphor**
(C) alliteration (D) apostrophe

181. Match the characters, with the relevant story title and select the correct codes given below :

- | | |
|-----------------|---------------------------|
| (a) Mr. Parsons | 1. Holiday |
| (b) Bishvambhar | 2. Reflowering |
| (c) Djinn | 3. A Man Who Had No Eyes |
| (d) Rowther His | 4. How the Camel got Hump |

178. Which state does the poet Kamala Surayya belong to?

- (A) Tamil Nadu (B) **Kerala**
(C) Maharashtra (D) Andhra Pradesh

- | | | | | |
|-----|-----|-----|-----|-----|
| | (a) | (b) | (c) | (d) |
| (A) | 3 | 4 | 2 | 1 |
| (B) | 2 | 1 | 3 | 4 |
| (C) | 1 | 2 | 3 | 4 |
| (D) | 3 | 1 | 4 | 2 |

179. Match the pen names in Column A to the writers in Column B and choose the correct answer from the codes given below :

- | | |
|-------------------|-----------------------------|
| Column A | Column B |
| (A) O Henry | 1. Charles Lutwidge Dodgson |
| (B) Madhvikutty | 2. William Sydney Porter |
| (C) Lewis Carroll | 3. Hector Hugh Munro |

182. Combine the words given under Column A with those given under Column B to form Compound words :

- | | |
|-----------------|-----------------|
| Column A | Column B |
| (a) Flash | 1. Dream |



TNPSC

General English - 2013

- | | | | |
|---------|---------|---------|----------------|
| (b) Day | 2.Set | (A) a | (B) an |
| (c) Sun | 3.Green | (C) the | (D) no article |
| (d) Sea | 4.Light | | |

- | | | | |
|-------|-----|-----|-----|
| (a) | (b) | (c) | (d) |
| (A) 1 | 2 | 3 | 4 |
| (B) 4 | 1 | 2 | 3 |
| (C) 2 | 3 | 1 | 4 |
| (D) 3 | 2 | 4 | 1 |

183. Choose the right word to complete the idiom:

I go to movies once in a _____ moon.

- (A) blue (B) grey
(C) green (D) yellow

184. Match the following phrases/idioms given under Column A with their meanings under Column B and given select the correct answer from their codes below:

Column A

- (a) To stir up
(b) To be on cloud nine
(c) To play truant
(d) In the pink of

(a) (b) (c)

- (A) 3 4 2 1
(B) 4 3 2 1
(C) 2 1 4 3
(D) 1 2 3 4

Column B

1. Healthy
2.To stay away without permission
3.To initiate
4.To be very happy

(a) (b)

185. Choose the American English equivalent of the word 'freight car'

- (A) van (B) wagon
(C) tempo (D) truck

186. Fill in the blank with a suitable article :

Students are asked to attend _____ special class, to be held in the evening.

187. Select the complex sentence :

- (A) Arun attended the interview and got selected
(B) We could not guess what he actually wanted
(C) My uncle has gone to Mumbai to finalise a business proposal
(D) The pilgrims had to cancel the trip because of bad weather

188. Form a new word by blending the words.

News + broadcast

- (A) newcast (B) newsbroad
(C) newsbroadcast (D) newscast

189. Identify the superlative degree in the sentences given below :

- (A) Mr. Robertson is more helpful than most other persons
(B) Mr. Robertson is helpfuller than other persons
(C) Mr. Robertson is one of the most helpful persons
(D) Very few persons are as helpful as Mr. Robertson

190. Choose the correct passive form of the sentence given below :

We should help the poor.

- (A) The poor have to be helped.
(B) The poor should be helped.
(C) The poor must be helped.
(D) The poor was to be helped.

191. Match the characters in Column A with the authors in Column B and select the correct answer from the codes given below :



TNPSC

General English - 2013

Column A

- (a) Lady Anstey
(b) Tendai
(c) Gunga Ram
(d) Outhakutty

- (a) (b) (c) (d)
(A) 3 2 1 4
(B) 2 1 4 3
(C) 2 4 1 3
(D) 3 1 4 2

Column B

1. Lakshmi Mukundan
2. Thakazhi Sivasankaran Pillai
3. E.M. Forster
4. Khushwant Singh

192. Match the underlined words in Column A with their parts of speech in Column B and select the correct answer from the codes given :

Column A

- (a) The King appointed a minister
(b) Gold is a precious metal
(c) It is a pleasant evening
(d) He always speaks the truth

- (a) (b) (c) (d)
(A) 1 3 2 4
(B) 2 4 3 1
(C) 2 1 4 3
(D) 2 3 4 1

Column B

1. Noun
2. Verb
3. Adverb
4. Adjective

193. Match the underlined words in Column A with their parts of speech in Column B and select the correct answer from the codes given :

Column A

- (a) I dream of my happy days
(b) We are always busy
(c) The teacher teacher History
(d) He plays cricket

- (a) (b) (c) (d)
(A) 1 3 2 4
(B) 4 3 2 1
(C) 2 3 1 4
(D) 4 2 3 1

Column B

1. Verb
2. Noun
3. Adverb
4. Adjective

194. Choose the option which contains the correct sequence of words to be filled. Ranjith _____ and _____ his leg when he _____ from a bus.
(A) slips, injured, is alighting
(B) slipped, injures, was alighting
(C) **slipped, injured, was alighting**
(D) has slipped, injures, was alighting

195. Match the following sentences given in Column A with their patterns given in Column B and select the correct answer from the codes given below :

Column A

- (a) The teacher teaches a lesson
(b) The sun shines brightly
(c) He broke his cycle yesterday
(d) The car is cheap

- (a) (b) (c) (d)
(A) 1 2 4 3
(B) 3 2 1 4
(C) 3 4 1 2
(D) 3 4 2 1

Column B

1. SVOA
2. SVC
3. SVO
4. SVA

196. "Every man may profit by the example of truly great men, if he is bent on making the most of himself and his circumstances". This theme is reflected in :

- (A) 'Laugh and Be Merry' by John Masefield
(B) 'Leisure' by Walter De la Mare
(C) **'A Psalm of life' by H.W. Longfellow**
(D) 'O Captain, My Captain' by Walt Whitman

197. Identify the option that contains the answer to the following statement :

_____ was the tribal leader who wrote a letter to the President of the USA.



TNPSC General English - 2013

- (A) Chief Norman (B) Chief Njumba
(C) Chief Seathl (D) Chief Houda

198. "Not failure but low aim is crime", says Browning. What according to Browning is a crime?

- (A) Failing in an attempt
(B) Aiming at the incredible
(C) Failing repeatedly
(D) Not aiming high

199. "Envy is ignorance and imitation is suicide".
Who said this?

- (A) Emerson
(B) Gandhiji
(C) Swami Vivekananda
(D) Dr. A.P.J. Abdul Kalam

200. Which of the following poems is written by an Indian Poet?

- (A) The Apology
(B) Where the mind is without fear
(C) Going for water
(D) Earth

